

SPEED 정답 체크

1 분수의 나눗셈

BASIC TEST

1 (자연수) ÷ (자연수) 11쪽

1 방법 1 $1\frac{1}{4}, \frac{5}{4}$ 방법 2 $\frac{5}{4}$ 2 $\frac{7}{8}$ L

3 $5\frac{2}{3}$ cm² 4 ⊖

5 $1 \div 8, 7 \div 8, 3 \div 8$ 에 ○ 표 6 $4\frac{4}{5}$

2 (분수) ÷ (자연수) 13쪽

1 $3 \div 3, \frac{1}{3}, \frac{2}{9}$ 2 $\frac{5}{17}$ kg 3 $\frac{7}{10}$ m²

4 $\frac{15}{77}$ L 5 $\frac{8}{9} \div 5$ 6 $2\frac{1}{6}$ cm

MATH TOPIC 14~22쪽

1-1 $3\frac{4}{5} \div 6 / \frac{19}{30}$ 1-2 $8\frac{3}{5} \div 2 / 4\frac{3}{10}$

2-1 $1\frac{1}{7}$ m² 2-2 $4\frac{2}{3}$ cm² 2-3 $3\frac{13}{14}$ cm²

3-1 $13\frac{3}{7}$ m 3-2 $4\frac{8}{13}$ 3-3 $2\frac{7}{9}$ m

4-1 $1\frac{5}{6}, 3$ 4-2 $5\frac{3}{4}$

5-1 6 5-2 5 5-3 14

6-1 $\frac{1}{126}$ 6-2 $1\frac{1}{6}$ 6-3 $6\frac{11}{21}$

7-1 8분 45초 7-2 $\frac{2}{21}$ km

8-1 6일 8-2 8분

심화 9 $5\frac{2}{5} / 5\frac{2}{5} / 5\frac{2}{5}, \frac{27}{5}, \frac{3}{200} / \frac{3}{200}$

9-1 $1\frac{7}{8}$ kg 9-2 $\frac{1}{6}$ kg

LEVEL UP TEST 23~27쪽

1 $\frac{1}{153}$ 2 $22\frac{1}{2}$ kg 3 $7\frac{1}{6}$ cm

4 $\frac{3}{4}$ 5 $\frac{5}{12}$ kg 6 $5\frac{1}{4}$

7 5 8 $4\frac{3}{5}$ cm 9 24일

10 $\frac{1}{45}$ 11 $3\frac{12}{35}$ m² 12 $\frac{2}{15}$

13 $4\frac{1}{2}$ cm² 14 $8\frac{2}{5}$ cm 15 8시간

HIGH LEVEL 28~30쪽

1 ⊕ 2 $6\frac{5}{12}$ cm 3 9분 12초 후

4 $\frac{8}{63}$ 5 $\frac{1}{28}$ 6 136개

7 $\frac{18}{49}$ m² 8 10분

2 각기둥과 각뿔

BASIC TEST

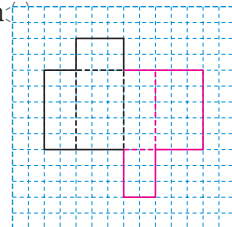
1 각기둥 35쪽

1 ⊖, ⊕ 2 풀이 참조 3 47 cm

4 12, 8, 18 5 삼각형 6 46개

2 각기둥의 전개도 37쪽

1 선분 ○ 스 2 예 1cm

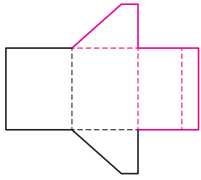


3 (위에서부터) 6, 10

4 ㉞

5 예

6 ㉞



3 각뿔

39쪽

1 ㉞, ㉞

2 ㉞, ㉞

3 (위에서부터) 5, 6 / 6, 7 / 10, 12

4 ㉞

5 칠각뿔

6 108 cm

MATH TOPIC

40~48쪽

1-1 18개

1-2 16개, 10개

1-3 십이각형

2-1 19개

2-2 30 cm

2-3 팔각뿔

3-1 45 cm

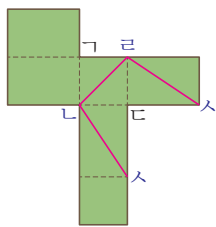
3-2 60 cm

3-3 76 cm

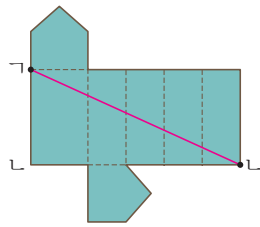
4-1 3가지

4-2 ㉞, ㉞, ㉞

5-1



5-2



6-1 180 cm

6-2 90 cm

7-1 18개

7-2 1개

7-3 4개

8-1 90 cm

8-2 7 cm

8-3 120 cm

심화 9 20 / 20, 60 / 60

9-1 179.2 cm

LEVEL UP TEST

49~53쪽

1 14개

2 30개

3 4개

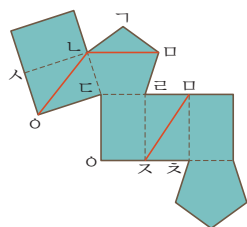
4 ㉞, ㉞

5 8 cm

6 22 cm

7 34 cm

8



9 16 cm

10 88 cm

11 7개, 12개, 7개

12 6개

13 6 cm

14 4가지

15 6개

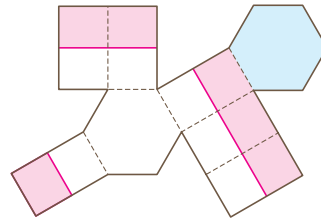
HIGH LEVEL

54~56쪽

1 435 cm

2 ㉞

3



4 51 cm

5 10개

6 288 cm²

7 이십사각기둥

8 풀이 참조

9 5 cm

3 소수의 나눗셈

BASIC TEST

1 (소수) ÷ (자연수) (1)

61쪽

1 (1) 25.1, 2.51 (2) 5.2, 0.52

2 864, 288, 2.88

3 ㉞, ㉞, ㉞

4 5.13 L

5 2.96 cm

6 0.49 kg

2 (소수) ÷ (자연수) (2)

63쪽

1 (위에서부터) 1060, 265 / 2.65

2

$$\begin{array}{r} 8.06 \\ 5 \overline{) 40.3} \\ \underline{40} \\ 30 \\ \underline{30} \\ 0 \end{array}$$

3 ㉞, ㉞

4 0.965

5 11.55 cm

6 0.7 mm

3 (자연수) ÷ (자연수), 몫을 어렵하기 65쪽

1 (1) $7.5 / 0.75$ (2) $22.5 / 2.25$

2 (1) $81 \div 5 = 16.2$ 에 ○표
(2) $8.82 \div 3 = 2.94$ 에 ○표

3 6.25 cm

4 $6.5 \div 5 / 65 \div 50 / 65 \div 10$ ○표

5 3분 45초 6 10

MATH TOPIC 66~73쪽

1-1 10.38 1-2 3.32 1-3 33.5

2-1 8 cm 2-2 25.6 cm 2-3 6.9 cm

3-1 24.4 3-2 4.375

4-1 10.8 cm^2 4-2 350 cm^2 4-3 1.5 cm

5-1 220 cm 5-2 5.15 m

6-1 16.75 km 6-2 67.5 m 6-3 101 m

7-1 오후 4시 17분 30초 7-2 오전 10시 55분

7-3 오후 1시 24분 12초

심화 8 20, 10.2 / 11, 87.4 / 87.4, 148580 / 148580

8-1 16240원

LEVEL UP TEST 74~78쪽

1 민아 2 1.28 3 6.25 cm

4 8 5 1.69 cm^2 6 310 m

7 891장 8 6.25 cm 9 8.54 kg

10 11.25 g 11 5.06 cm^2 12 5.2 cm

13 837.2 km 14 1.25배 15 6분 30초 후

HIGH LEVEL 79~81쪽

1 4.15 2 5.27 3 49.44 cm^2

4 11.2 cm 5 1분 48초 6 0.62 km

7 39.375 m^2 8 0.905 9 21분 24초

4 비와 비율

BASIC TEST

1 비, 비율 87쪽

1 ㉠

2 (위에서부터) 16, 40, $\frac{16}{40} (\frac{2}{5}, 0.4) /$

6, 8, $\frac{6}{8} (\frac{3}{4}, 0.75) /$

42, 15, $\frac{42}{15} (2\frac{4}{5}, 2.8)$

3 13 : 20

4 ㉠, ㉡

5 $\frac{3}{4}$

6 $\frac{5}{8}$

2 비율이 사용되는 경우 89쪽

1 윤하, 수호, 단우 2 0.375, 0.25 3 $\frac{1}{2000}$

4 34150명 5 재우 6 60 cm

3 백분율, 백분율이 사용되는 경우 91쪽

1 40 %, 62.5 % 2 풀이 참조 3 20 %

4 ㉠ 5 48.1 kg 6 달빛 은행

MATH TOPIC 92~98쪽

1-1 0.25 1-2 $\frac{5}{8}$ 1-3 $\frac{12}{13}$

2-1 44번 2-2 244개 2-3 16표

3-1 1380원 3-2 561 cm^2 3-3 945 g

4-1 ㉠ 4-2 12.5 % 4-3 16원

5-1 대한 은행, 5 % 5-2 5632원

5-3 257500원

6-1 12 % 6-2 25 % 6-3 10 %

심화 7 25, 1500 / 6500 / 1500, 7500 / 6500, 7500

7-1 3000원

LEVEL UP TEST 99~103쪽

- 1 ㉠, ㉡, ㉢ 2 108쪽 3 5
- 4 132명 5 242상자 6 49
- 7 25 % 8 15000원 9 2.16 m
- 10 1 % 11 337969가구 12 300 g
- 13 221명 14 20 % 15 750 m

HIGH LEVEL 104~106쪽

- 1 20, 12 2 64.8kg 이상 72.9kg 미만
- 3 25.4 % 4 0.24 5 2명
- 6 2500개 7 $1\frac{1}{3}$ km
- 8 106000원, 106090원 9 32 %

5 여러 가지 그래프

BASIC TEST

1 그림그래프 111쪽

- 1 ㉠ 2 ㉢
- 3 1400, 1300, 700, 2100 4 ㉡ 1000, 100
- 5 예 도시별 학생 수

도시	학생 수
가	
나	
다	
라	

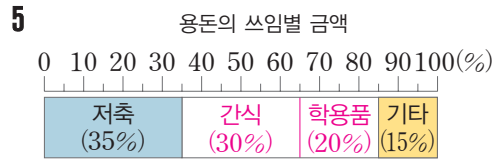
예 1000 명

100 명

2 띠그래프 113쪽

- 1 봄 2 2배 3 36명

4 (위에서부터) 30, 24 / 40, 15, 100



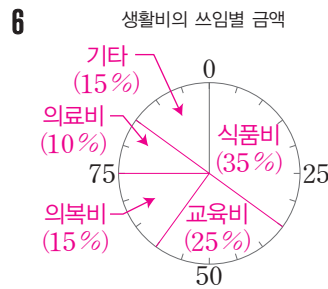
6 4.5 cm

3 원그래프 115쪽

- 1 35 % 2 티셔츠, 바지 3 525명

4 7명

5 (위에서부터) 25 %, 15 %, 10 %, 15 %



MATH TOPIC 116~124쪽

1-1 동별 쓰레기 배출량



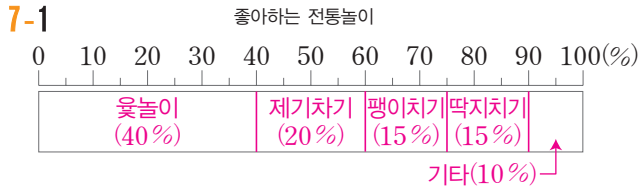
2-1 111500명

3-1 150명

4-1 250명 4-2 18명

5-1 3.2 cm 5-2 6 cm

6-1 100명 6-2 39개



- 8-1 150잔 8-2 240명
심화9 90억 / 90억, 4억 5000만 / 4억 5000만
 9-1 0.76 %

LEVEL UP TEST 125~129쪽

- 1 3400대 2 2350 kg
 3 50억 6000만 명
 4
- | | | |
|----|--|--------------------------------|
| 4층 | |
100L

50L

10L |
| 3층 | | |
| 2층 | | |
| 1층 | | |
- 5 135명 6 ㉠ 7 63명
 8 33명 9 고령 사회 10 28명
 11 10500 t 12 35명 13 닭
 14 60편

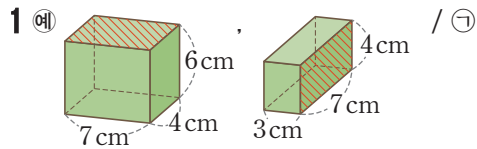
HIGH LEVEL 130~132쪽

- 1 42 %
 2
-
- 3 65 % 4 주혜, $\frac{1}{2}$ 5 48명
 6 210권 7 17.5 cm 8 8 cm
 9 1.8 kg

6 직육면체의 부피와 겉넓이

BASIC TEST

1 직육면체의 부피 137쪽



- 2 (1) 90 cm^3 (2) 64 cm^3
 3 343 cm^3 4 4
 5 125 cm^3 6 8배

2 부피의 단위 139쪽

- 1 ㉢
 2 **방법 1** 400, 400, 400 / 64000000, 64
방법 2 4, 4, 4 / 64
 3 0.3 m^3 4 60 5 324000 cm^3
 6 (1) 1000 cm^3 (2) 1.6 m^3 (3) 240 m^3 에 ○표

3 직육면체의 겉넓이 141쪽

- 1 216 cm^2 2 142 cm^2 3 ㉠
 4 2 5 170 cm^2 6 10 cm

MATH TOPIC 142~150쪽

- 1-1 4500개 1-2 6 cm 1-3 8
 2-1 8 2-2 ㉠, 245 cm^3 2-3 472 cm^3
 3-1 2 cm 3-2 4 cm 3-3 8배
 4-1 542 cm^2 4-2 12 4-3 450 cm^2
 5-1 864 cm^2 5-2 726 cm^2 5-3 9배
 6-1 2400 cm^2 6-2 1331 cm^3 6-3 240 cm^3
 7-1 308 cm^3 7-2 14.5 cm 8-1 480 cm^3
심화9 81, 162 / 162, 324 / 324 9-1 4800 cm^2

LEVEL UP TEST 151~155쪽

- | | |
|---|-------------------------|
| 1 220 cm ³ , 238 cm ² | 2 4 |
| 3 27배 | 4 3 cm |
| 5 3476 cm ³ | 6 8448 cm ³ |
| 7 6 cm | 8 234 cm ² |
| 9 8 cm | 10 432 cm ² |
| 11 2160 cm ² | 12 1600 cm ² |
| 13 270 cm ³ | 14 1350 cm ³ |
| 15 96 cm ² | |

HIGH LEVEL 156~158쪽

- | | | |
|------------------------|----------------------|-----------------------|
| 1 1728 cm ³ | 2 20 m ³ | 3 6 cm |
| 4 6 cm ² | 5 49 cm ² | 6 72 cm ³ |
| 7 260개 | 8 12 cm | 9 760 cm ³ |

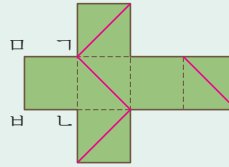
교내 경시 문제

1. 분수의 나눗셈 1~2쪽

- | | | |
|----------------------|-----------------------------------|----------------------|
| 01 $\frac{3}{5}$ m | 02 $\frac{1}{7}$ | 03 $1\frac{2}{9}$ 배 |
| 04 $1\frac{4}{7}$ | 05 5 | 06 $1\frac{1}{17}$ |
| 07 250상자 | 08 5번 | 09 $2\frac{1}{5}$ cm |
| 10 ㉠, ㉡, ㉢, ㉣ | 11 10분 18초 | 12 $2\frac{1}{11}$ m |
| 13 $\frac{17}{25}$ | 14 $20\frac{2}{9}$ m ² | 15 $\frac{24}{65}$ |
| 16 $1\frac{3}{4}$ cm | 17 오후 7시 40분 30초 | |
| 18 75개 | 19 18 | 20 $3\frac{1}{3}$ cm |

2. 각기둥과 각뿔 3~4쪽

- | | | |
|-----------|------------------------|--------|
| 01 풀이 참조 | 02 구각기둥 | 03 7개 |
| 04 175 cm | 05 11개 | 06 팔각뿔 |
| 07 110 cm | 08 448 cm ² | 09 십각뿔 |
| 10 | | 11 육각형 |



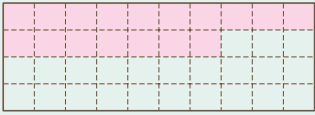
- | | | |
|-------------------------|------------------------|------------------------|
| 12 1296 cm ² | 13 십오각기둥 | 14 216 cm ² |
| 15 3가지 | 16 432 cm ² | 17 108 cm |
| 18 팔각뿔, 십이각뿔 | | 19 396 cm ² |
| 20 18개 | | |

3. 소수의 나눗셈 5~6쪽

- | | |
|----------------------|--------------------------|
| 01 5.25 | 02 11.2 m |
| 03 ㉠ 약 10 km, 9.9 km | 04 5.2배 |
| 05 소미, 5번 | 06 4.24 cm |
| 07 121번 | 08 35분 12초 |
| 09 1.4배 | 10 35.88 cm ² |
| 11 5 | 12 1.232 m |
| 13 2.5 | 14 15.35 |
| 15 2.81 | 16 5시간 24분 |
| 17 1분 36초 후 | 18 53.125cm ² |
| 19 0.95 km | 20 207500원 |







4. 비와 비율

7~8쪽

- 01 15 : 13 02 0.25 03 ㉠, ㉡, ㉢
- 04 25 %
- 05 예 
- 06 840명 07 1512 cm² 08 ㉡ 은행
- 09 5 kg 10 0.15
- 11 ㉡ 서점, 275원 12 62.5 % 13 $\frac{5}{11}$
- 14 42.5 % 15 73.1 % 16 256명
- 17 200 g 18 8 % 19 9
- 20 2250원

5. 여러 가지 그래프

9~10쪽

- 01 ㉡ 지역 02 $\frac{7}{9}$ 03 22명
- 04 3 % 05 2명
- 06 농장별 사과 수확량
- | | |
|---|---|
| ㉡ 농장
 | ㉢ 농장
 |
| ㉠ 농장
 | ㉣ 농장
 |
-  1t
 100kg
- 07 5100 kg 08 50명 09 8명
- 10 4명 11 36 % 12 500명
- 13 36명 14 30명 15 42 g
- 16 528명 17 0.9 18 144명
- 19 48 cm 20 156 km²

6. 직육면체의 부피와 겉넓이

11~12쪽

- 01 96 02 ㉡ 03 518 cm²
- 04 0.07 m³ 05 6 06 16 cm
- 07 729 cm³ 08 8배 09 294 cm²
- 10 486 cm² 11 768 cm³ 12 450 cm³
- 13 8 cm 14 348 cm² 15 9.5 cm
- 16 600 cm² 17 200 cm³ 18 3 cm
- 19 540 cm³ 20 176000 cm³

수능형 사고력을 기르는 1학기 TEST

1회

13~14쪽

- 01 ㉠ 02 십각기둥 03 ㉢
- 04 2 05 ㉠ 06 9.035 g
- 07 2070원 08 150명 09 2, 3
- 10 6.5 cm 11 $1\frac{7}{20}$ kg 12 ㉠
- 13 7개 14 5 15 $8\frac{2}{5}$ cm
- 16 $37\frac{1}{8}$ cm² 17 544 cm³ 18 6800권
- 19 1692 cm³ 20 30 %

2회

15~16쪽

- | | |
|---|------------------------------|
| 01 (위에서부터) $\frac{2}{7}, \frac{8}{75}$ | 02 18 cm^3 |
| 03 ㉠ | 04 4개 |
| 05 ㉡ | |
| 06 $\frac{4}{5} \text{ m}$ | 07 250만 원 |
| 08 726 cm^2 | |
| 09 0.3배 | 10 4칸 |
| 11 14.28 cm | |
| 12 $\frac{4}{5}$ | 13 34 cm |
| 14 15 cm | |
| 15 5일 | 16 3750원 |
| 17 4939200원 | |
| 18 $1\frac{1}{4} \text{ km}$ | 19 14.06 cm |
| 20 400명 | |

정답과 풀이

1 분수의 나눗셈

BASIC TEST

1 (자연수) ÷ (자연수) 11쪽

- 1 **방법 1** $1\frac{1}{4}, \frac{5}{4}$ **방법 2** $\frac{5}{4}$ 2 $\frac{7}{8}$ L
 3 $5\frac{2}{3}$ cm² 4 ㉠
 5 $1 \div 8, 7 \div 8, 3 \div 8$ 에 ○ 표 6 $4\frac{4}{5}$

1 **방법 1** $5 \div 4 = 1 \dots 1$ 이고 나머지 1을 4로 나눈 몫은 $\frac{1}{4}$ 입니다. 따라서 $5 \div 4$ 의 몫은 $1\frac{1}{4} = \frac{5}{4}$ 입니다.

방법 2 1을 각각 4로 나눕니다. $5 \div 4$ 는 $\frac{1}{4}$ 이 5개이므로 $5 \div 4$ 의 몫은 $\frac{5}{4}$ 입니다.

2 (한 사람이 마시는 주스의 양) = $7 \div 8 = \frac{7}{8}$ (L)

3 색칠한 부분은 정육각형을 똑같이 6개로 나눈 것 중 하나입니다.

(색칠한 부분의 넓이)
 $= 34 \div 6 = \frac{34}{6} = \frac{17}{3} = 5\frac{2}{3}$ (cm²)

4 ㉠ $8 \div 10 = \frac{8}{10} = \frac{4}{5}$ (kg)

㉡ $10 \div 15 = \frac{10}{15} = \frac{2}{3}$ (kg)

$\frac{4}{5} (= \frac{12}{15}) > \frac{2}{3} (= \frac{10}{15})$ 이므로 한 사람이 가지는 찹쌀의 양이 더 많은 경우는 ㉠입니다.

보충 개념

분모가 다른 분수의 크기를 비교할 때에는 분모를 통분한 후 분자의 크기를 비교합니다.

5 나누어지는 수보다 나누는 수가 크면 몫이 1보다 작습니다. 따라서 몫이 1보다 작은 것을 모두 고르면 $1 \div 8, 7 \div 8, 3 \div 8$ 입니다.

보충 개념

- > ▲일 때, ■ ÷ ▲ > 1
- < ▲일 때, ■ ÷ ▲ < 1

주의

나누어지는 수와 나누는 수가 같으면 몫이 1입니다.

예) $8 \div 8 = 1$

6 어떤 수를 □라 하면 $\square \times 5 = 120$ 에서

$\square = 120 \div 5 = 24$ 입니다.

따라서 바르게 계산하면 $24 \div 5 = \frac{24}{5} = 4\frac{4}{5}$ 입니다.

2 (분수) ÷ (자연수) 13쪽

- 1 $3 \div 3, \frac{1}{3}, \frac{2}{9}$ 2 $\frac{5}{17}$ kg 3 $\frac{7}{10}$ m²
 4 $\frac{15}{77}$ L 5 $\frac{8}{9} \div 5$ 6 $2\frac{1}{6}$ cm

1 $\frac{2}{3}$ 를 3으로 나누었습니다.

$$\frac{2}{3} \div 3 = \frac{2}{3} \times \frac{1}{3} = \frac{2}{9}$$

2 (식빵 1개를 만드는 데 필요한 밀가루의 양)

$$= \frac{15}{17} \div 3 = \frac{15 \div 3}{17} = \frac{5}{17} \text{ (kg)}$$

다른 풀이

(식빵 1개를 만드는 데 필요한 밀가루의 양)

$$= \frac{15}{17} \div 3 = \frac{15}{17} \times \frac{1}{3} = \frac{5}{17} \text{ (kg)}$$

3 $1\frac{3}{4} \times \frac{4}{5} \div 2 = \frac{7}{4} \times \frac{4}{5} \times \frac{1}{2} = \frac{7}{10}$ (m²)

해결 전략

대분수를 가분수로 고친 후 한꺼번에 계산합니다.

4 2주는 14일입니다.

(하루에 사용한 식용유의 양)

$$= 2\frac{8}{11} \div 14 = \frac{30}{11} \div 14 = \frac{30}{11} \times \frac{1}{14} = \frac{15}{77} \text{ (L)}$$

5 뚝이 가장 크려면 가장 큰 진분수를 가장 작은 자연수로 나누어야 하므로 가장 작은 자연수 5를 나누는 수로 정합니다. 나머지 수 카드로 만들 수 있는 진분수는 $\frac{7}{8}, \frac{8}{9}, \frac{7}{9}$ 이고 이 중 가장 큰 것은 $\frac{8}{9}$ 입니다. 따라서 뚝이 가장 크게 되는 식은 $\frac{8}{9} \div 5$ 입니다.

6 정삼각형은 세 변의 길이가 같습니다.
(정삼각형의 한 변의 길이)

$$= 26 \div 4 \div 3 = \frac{13}{2} \times \frac{1}{4} \times \frac{1}{3} = \frac{13}{6} = 2\frac{1}{6} \text{ (cm)}$$

MATH TOPIC		14~22쪽
1-1 $3\frac{4}{5} \div 6 / \frac{19}{30}$	1-2 $8\frac{3}{5} \div 2 / 4\frac{3}{10}$	
2-1 $1\frac{1}{7} \text{ m}^2$	2-2 $4\frac{2}{3} \text{ cm}^2$	2-3 $3\frac{13}{14} \text{ cm}^2$
3-1 $13\frac{3}{7} \text{ m}$	3-2 $4\frac{8}{13}$	3-3 $2\frac{7}{9} \text{ m}$
4-1 $1\frac{5}{6}, 3$	4-2 $5\frac{3}{4}$	
5-1 6	5-2 5	5-3 14
6-1 $\frac{1}{126}$	6-2 $1\frac{1}{6}$	6-3 $6\frac{11}{21}$
7-1 8분 45초	7-2 $\frac{2}{21} \text{ km}$	
8-1 6일	8-2 8분	
심화 9 $5\frac{2}{5} / 5\frac{2}{5} / 5\frac{2}{5}, \frac{27}{5}, \frac{3}{200} / \frac{3}{200}$		
9-1 $1\frac{7}{8} \text{ kg}$	9-2 $\frac{1}{6} \text{ kg}$	

1-1 가장 큰 자연수 6을 나누는 수로 정합니다.
나머지 수 카드로 만들 수 있는 대분수는 $3\frac{4}{5}, 4\frac{3}{5}, 5\frac{3}{4}$ 이므로 이 중 가장 작은 대분수 $3\frac{4}{5}$ 를 나누어지는 수로 정합니다.
 $\rightarrow 3\frac{4}{5} \div 6 = \frac{19}{5} \times \frac{1}{6} = \frac{19}{30}$

1-2 가장 작은 자연수 2를 나누는 수로 정합니다.
나머지 수 카드로 만들 수 있는 대분수는 $8\frac{3}{5}, 5\frac{3}{8}, 3\frac{5}{8}$ 이므로 이 중 가장 큰 대분수 $8\frac{3}{5}$ 을 나누어지는 수로 정합니다.
 $\rightarrow 8\frac{3}{5} \div 2 = \frac{43}{5} \times \frac{1}{2} = \frac{43}{10} = 4\frac{3}{10}$

2-1 전체 직사각형의 넓이는
 $2\frac{6}{7} \times 1\frac{1}{5} = \frac{20}{7} \times \frac{6}{5} = \frac{24}{7} \text{ (m}^2\text{)}$ 입니다.
전체 직사각형을 똑같이 18개로 나누었으므로 작은 직사각형 한 개의 넓이는

$$\frac{24}{7} \div 18 = \frac{24}{7} \times \frac{1}{18} = \frac{4}{21} \text{ (m}^2\text{)}$$

색칠한 부분은 작은 직사각형 6개의 넓이와 같으므로 색칠한 부분의 넓이는
 $\frac{4}{21} \times 6 = \frac{8}{7} = 1\frac{1}{7} \text{ (m}^2\text{)}$ 입니다.

다른 풀이

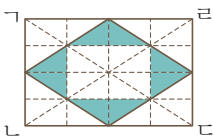
전체 직사각형의 넓이는
 $2\frac{6}{7} \times 1\frac{1}{5} = \frac{20}{7} \times \frac{6}{5} = \frac{24}{7} \text{ (m}^2\text{)}$ 입니다.
색칠한 부분은 전체 직사각형을 똑같이 3개로 나눈 것 중 하나의 넓이와 같으므로 색칠한 부분의 넓이는
 $\frac{24}{7} \div 3 = \frac{24 \div 3}{7} = \frac{8}{7} = 1\frac{1}{7} \text{ (m}^2\text{)}$ 입니다.

2-2 정육각형을 똑같이 24개로 나누었으므로 작은 정삼각형 한 개의 넓이는
 $14 \div 24 = \frac{14}{24} = \frac{7}{12} \text{ (cm}^2\text{)}$ 입니다.
색칠한 부분은 작은 정삼각형 8개의 넓이와 같으므로 색칠한 부분의 넓이는
 $\frac{7}{12} \times 8 = \frac{14}{3} = 4\frac{2}{3} \text{ (cm}^2\text{)}$ 입니다.

다른 풀이

색칠한 부분의 넓이는
 $14 \div 24 \times 8 = \frac{14}{24} \times \frac{8}{3} = \frac{14}{3} = 4\frac{2}{3} \text{ (cm}^2\text{)}$ 입니다.

2-3



직사각형 너비를 크기가 같은 삼각형으로 나누면 작은 삼각형 32개로 나누어집니다.

직사각형을 똑같이 32개로 나누었으므로 작은 삼각형 한 개의 넓이는

$$15\frac{5}{7} \div 32 = \frac{110}{7} \times \frac{1}{32} = \frac{55}{112} (\text{cm}^2) \text{입니다.}$$

색칠한 부분은 작은 삼각형 8개의 넓이와 같으므로 색칠한 부분의 넓이는

$$\frac{55}{112} \times 8 = \frac{55}{14} = 3\frac{13}{14} (\text{cm}^2) \text{입니다.}$$

다른 풀이

직사각형의 각 변을 이등분한 점을 연결하여 만든 마름모의 넓이는 직사각형의 넓이의 반이므로 마름모의 넓이는

$$15\frac{5}{7} \div 2 = \frac{110 \div 2}{7} = \frac{55}{7} (\text{cm}^2) \text{입니다. 마름모의 각 변을 이등분한 점을 연결하여 만든 직사각형의 넓이는 마름모의 넓이의 반입니다. 따라서 색칠한 부분의 넓이도 마름모의 넓이의 반입니다.}$$

→ (색칠한 부분의 넓이)

$$= \frac{55}{7} \div 2 = \frac{55}{7} \times \frac{1}{2} = \frac{55}{14} = 3\frac{13}{14} (\text{cm}^2)$$

3-1 (세로) = (직사각형의 넓이) ÷ (가로)

$$= 8\frac{4}{7} \div 5 = \frac{60}{7} \div 5 = \frac{60 \div 5}{7}$$

$$= \frac{12}{7} = 1\frac{5}{7} (\text{m})$$

$$\rightarrow (\text{꽃밭의 둘레}) = (5 + 1\frac{5}{7}) \times 2 = 6\frac{5}{7} \times 2$$

$$= \frac{47}{7} \times 2 = \frac{94}{7} = 13\frac{3}{7} (\text{m})$$

보충 개념

(직사각형의 둘레) = ((가로) + (세로)) × 2

3-2 길이가 13 cm인 변을 밑변으로 하면 높이가 □ cm이고, 길이가 5 cm인 변을 밑변으로 하면 높이가 12 cm입니다. 삼각형의 넓이는

$5 \times 12 \div 2 = 30 (\text{cm}^2)$ 이고 어느 변을 밑변으로 정해도 넓이는 그대로입니다.

$$13 \times \square \div 2 = 30, 13 \times \square = 60,$$

$$\square = 60 \div 13 = \frac{60}{13} = 4\frac{8}{13} (\text{cm})$$

보충 개념

삼각형에서 어느 변을 밑변으로 정하는지에 따라 높이가 달라집니다. 이때 어느 변을 밑변으로 정해도 삼각형의 넓이는 같습니다.

3-3 높이를 □ m라 하면

$$(4\frac{3}{5} + 7\frac{2}{5}) \times \square \div 2 = 16\frac{2}{3} \text{입니다.}$$

$$12 \times \square \div 2 = 16\frac{2}{3},$$

$$12 \times \square = 16\frac{2}{3} \times 2 = \frac{50}{3} \times 2 = \frac{100}{3},$$

$$\square = \frac{100}{3} \div 12 = \frac{100}{3} \times \frac{1}{12} = \frac{25}{9}$$

$$\square = 2\frac{7}{9} (\text{m})$$

보충 개념

(사다리꼴의 넓이) = ((윗변) + (아랫변)) × (높이) ÷ 2

4-1 수직선의 눈금 한 칸은 $\frac{2}{3}$ 와 $4\frac{1}{6}$ 사이를 똑같이

3으로 나눈 것 중 하나입니다.

(눈금 한 칸의 크기)

$$= (4\frac{1}{6} - \frac{2}{3}) \div 3 = (4\frac{1}{6} - \frac{4}{6}) \div 3$$

$$= 3\frac{1}{2} \div 3 = \frac{7}{2} \times \frac{1}{3} = \frac{7}{6} = 1\frac{1}{6}$$

㉠이 나타내는 수는 $\frac{2}{3}$ 보다 눈금 한 칸만큼 큰 수

$$\text{입니다.} \rightarrow \text{㉠} = \frac{2}{3} + 1\frac{1}{6} = \frac{4}{6} + 1\frac{1}{6} = 1\frac{5}{6}$$

㉡이 나타내는 수는 ㉠보다 눈금 한 칸만큼 큰 수입

$$\text{니다.} \rightarrow \text{㉡} = 1\frac{5}{6} + 1\frac{1}{6} = 3$$

다른 풀이

㉡이 나타내는 수는 $4\frac{1}{6}$ 보다 눈금 한 칸만큼 작은 수입니다.

$$\rightarrow \text{㉡} = 4\frac{1}{6} - 1\frac{1}{6} = 3$$

4-2 수직선의 눈금 한 칸은

$4\frac{2}{3}$ 와 $7\frac{5}{9}$ 사이를 똑같이 8로 나눈 것 중 하나입니다.

$$\begin{aligned} (\text{눈금 한 칸의 크기}) &= (7\frac{5}{9} - 4\frac{2}{3}) \div 8 \\ &= (7\frac{5}{9} - 4\frac{6}{9}) \div 8 \\ &= 2\frac{8}{9} \div 8 = \frac{26}{9} \times \frac{1}{8} = \frac{13}{36} \end{aligned}$$

㉠이 나타내는 수는 $4\frac{2}{3}$ 보다 눈금 3칸만큼 큰 수입니다.

$$\begin{aligned} \rightarrow \text{㉠} &= 4\frac{2}{3} + \frac{13}{36} \times 3 = 4\frac{2}{3} + \frac{13}{12} \\ &= 4\frac{8}{12} + \frac{13}{12} = 4\frac{21}{12} = 5\frac{9}{12} = 5\frac{3}{4} \end{aligned}$$

5-1 $4\frac{1}{2} \times \square \div 27 = \frac{1}{2} \times \square \times \frac{1}{27} = \frac{1}{6} \times \square$ 가 자

연수가 되려면 \square 가 분모 6과 약분되어 분모를 1로 만들어야 합니다. 따라서 \square 는 6의 배수이어야 하므로 \square 안에 알맞은 가장 작은 수는 6입니다.

해결 전략

$\frac{\blacksquare}{\bullet}$ 가 기약분수일 때, $\frac{\blacksquare}{\bullet} \times \star$ 의 계산 결과가 자연수가 되려면 \star 은 \bullet 의 배수이어야 합니다.

5-2 $6\frac{2}{5} \times \square \div 4 = \frac{32}{5} \times \square \times \frac{1}{4} = \frac{8}{5} \times \square$

$\frac{8}{5} \times \square$ 가 자연수가 되려면 \square 가 분모 5와 약분되어 분모를 1로 만들어야 합니다. 따라서 \square 는 5의 배수이어야 하므로 \square 안에 알맞은 가장 작은 수는 5입니다.

5-3 $\frac{\square}{6} \div 10 \times 4\frac{2}{7} = \frac{\square}{6} \times \frac{1}{10} \times \frac{30}{7} = \square \times \frac{1}{14}$

$\square \times \frac{1}{14}$ 이 자연수가 되려면 \square 가 분모 14와 약분되어 분모를 1로 만들어야 합니다.

따라서 \square 는 14의 배수이어야 하므로 \square 안에 알맞은 가장 작은 수는 14입니다.

6-1 $\frac{\text{㉠}}{\text{㉡}} = \text{㉠} \div \text{㉡}$ 이므로 $\frac{\text{㉠}}{\text{㉡}} \div \text{㉢} = \text{㉠} \div \text{㉡} \div \text{㉢}$ 으로 나타낼 수 있습니다.

$$\begin{aligned} \rightarrow \text{㉠} \div \text{㉡} \div \text{㉢} &= 2\frac{6}{7} \div 30 \div 12 \\ &= \frac{20}{7} \div 30 \div 12 \\ &= \frac{20}{7} \times \frac{1}{30} \times \frac{1}{12} = \frac{1}{126} \end{aligned}$$

6-2 $\text{㉠} \star \text{㉡} = \frac{\text{㉠} + \text{㉡}}{\text{㉢}} = (\text{㉠} + \text{㉡}) \div \text{㉢}$ 로 나타낼 수 있습니다.

$6 \star 3 = (6 + 3) \div 3 = 9 \div 3 = 3$ 이므로

$\frac{1}{2} \star (6 \star 3) = \frac{1}{2} \star 3$ 입니다.

$$\begin{aligned} \rightarrow \frac{1}{2} \star 3 &= (\frac{1}{2} + 3) \div 3 = 3\frac{1}{2} \div 3 \\ &= \frac{7}{2} \div 3 = \frac{7}{2} \times \frac{1}{3} = \frac{7}{6} = 1\frac{1}{6} \end{aligned}$$

6-3 $8 \odot \square = (8 + 1) \times (8 - \square) = 13\frac{2}{7}$ 이므로

$$9 \times (8 - \square) = 13\frac{2}{7},$$

$$8 - \square = 13\frac{2}{7} \div 9 = \frac{93}{7} \times \frac{1}{9} = \frac{31}{21} = 1\frac{10}{21},$$

$$\square = 8 - 1\frac{10}{21} = 6\frac{11}{21} \text{입니다.}$$

7-1 1분은 60초이므로 5분 50초 = $5\frac{50}{60}$ 분 = $5\frac{5}{6}$ 분입니다. $5\frac{5}{6}$ 분 동안 2km를 달렸으므로 1km를 달리는 데 걸리는 시간은

$$5\frac{5}{6} \div 2 = \frac{35}{6} \div 2 = \frac{35}{6} \times \frac{1}{2} = \frac{35}{12} \text{(분)입니다.}$$

1km를 달리는 데 $\frac{35}{12}$ 분이 걸리므로 3km를 달

리는 데는 $\frac{35}{12} \times \frac{1}{3} = \frac{35}{4} = 8\frac{3}{4}$ (분)이 걸립니다.

$8\frac{3}{4}$ 분 = $8\frac{45}{60}$ 분이므로 3km를 달리는 데 걸리는 시간은 8분 45초입니다.

7-2 영주가 자전거를 타고 10분에 $1\frac{1}{7}$ km씩 갔으므로

영주가 1시간 동안 간 거리는

$$1\frac{1}{7} \times 6 = \frac{8}{7} \times 6 = \frac{48}{7} = 6\frac{6}{7} \text{ (km)입니다.}$$

지훈이가 자전거를 타고 $6\frac{6}{7}$ km를 가는 데 1시간

12분 = 72분이 걸렸으므로 지훈이가 1분 동안 간 거리는

$$6\frac{6}{7} \div 72 = \frac{48}{7} \times \frac{1}{72} = \frac{2}{21} \text{ (km)입니다.}$$

보충 개념

1시간 = 60분이므로 1시간 동안 간 거리는 10분 동안 간 거리의 6배입니다.

8-1 주호 혼자서 전체 일의 $\frac{1}{3}$ 을 하는 데 5일이 걸리므로

(주호가 하루 동안 하는 일의 양)

$$= \frac{1}{3} \div 5 = \frac{1}{3} \times \frac{1}{5} = \frac{1}{15},$$

예지 혼자서 전체 일의 $\frac{1}{2}$ 을 하는 데 5일이 걸리므로

(예지가 하루 동안 하는 일의 양)

$$= \frac{1}{2} \div 5 = \frac{1}{2} \times \frac{1}{5} = \frac{1}{10} \text{입니다.}$$

두 사람이 함께 하루 동안 하는 일의 양은

$$\frac{1}{15} + \frac{1}{10} = \frac{2}{30} + \frac{3}{30} = \frac{5}{30} = \frac{1}{6} \text{이고,}$$

$\frac{1}{6} \times 6 = 1$ 이므로 두 사람이 함께 일을 끝내는 데에는 6일이 걸립니다.

해결 전략

전체 일의 양을 1로 생각하고, 하루 동안 하는 일의 양을 분수로 나타냅니다.

8-2 ㉗ 수도만 틀어서 전체의 $\frac{7}{8}$ 을 채우는 데 7분이 걸리므로

㉘ 수도로 1분 동안 채울 수 있는 물의 양)

$$= \frac{7}{8} \div 7 = \frac{7 \div 7}{8} = \frac{1}{8} \text{입니다.}$$

㉗ 수도와 ㉘ 수도를 동시에 틀어서 빈 물탱크를 가득 채우는 데에는 4분이 걸리므로 두 수도로 1분 동안 채울 수 있는 물의 양은 $1 \div 4 = \frac{1}{4}$ 입니다.

㉙ 수도로 1분 동안 채울 수 있는 물의 양은

$$\frac{1}{4} - \frac{1}{8} = \frac{2}{8} - \frac{1}{8} = \frac{1}{8} \text{이고 } \frac{1}{8} \times 8 = 1 \text{이므로}$$

㉙ 수도만 틀어서 빈 물탱크를 가득 채우는 데에는 8분이 걸립니다.

해결 전략

물탱크 전체의 들이를 1로 생각하고, 1분 동안 받는 물의 양을 분수로 나타냅니다.

9-1 (비누 13개의 무게)

= (비누 13개가 들어 있는 바구니의 무게)

— (빈 바구니의 무게)

$$= 9\frac{7}{8} - 1\frac{3}{4} = \frac{79}{8} - \frac{7}{4} = \frac{79}{8} - \frac{14}{8} = \frac{65}{8} \text{ (kg)}$$

비누 13개의 무게가 $\frac{65}{8}$ kg이므로 비누 한 개의

$$\text{무게는 } \frac{65}{8} \div 13 = \frac{65}{8} \times \frac{1}{13} = \frac{5}{8} \text{ (kg)입니다.}$$

따라서 비누 3개의 무게는

$$\frac{5}{8} \times 3 = \frac{15}{8} = 1\frac{7}{8} \text{ (kg)입니다.}$$

9-2 (인형 15개가 들어 있는 상자 한 개의 무게)

$$= 22\frac{3}{4} \div 7 = \frac{91}{4} \times \frac{1}{7} = \frac{13}{4} = 3\frac{1}{4} \text{ (kg)}$$

(인형 15개의 무게)

= (인형 15개가 들어 있는 상자의 무게)

— (빈 상자의 무게)

$$= 3\frac{1}{4} - \frac{3}{4} = 2\frac{1}{2} \text{ (kg)}$$

따라서 인형 1개의 무게는

$$2\frac{1}{2} \div 15 = \frac{5}{2} \times \frac{1}{15} = \frac{1}{6} \text{ (kg)입니다.}$$

LEVEL UP TEST 23~27쪽

1 $\frac{1}{153}$	2 $22\frac{1}{2}$ kg	3 $7\frac{1}{6}$ cm	4 $\frac{3}{4}$	5 $\frac{5}{12}$ kg	6 $5\frac{1}{4}$
7 5	8 $4\frac{3}{5}$ cm	9 24일	10 $\frac{1}{45}$	11 $3\frac{12}{35}$ m ²	12 $\frac{2}{15}$
13 $4\frac{1}{2}$ cm ²	14 $8\frac{2}{5}$ cm	15 8시간			

서술형 1 접근 » 어떤 수를 먼저 구합니다.

㉔ 어떤 수를 □라 하면 $\square \times 12 = \frac{16}{17}$, $\square = \frac{16}{17} \div 12 = \frac{16}{17} \times \frac{1}{12} = \frac{4}{51}$ 입니다.

따라서 바르게 계산하면 $\frac{4}{51} \div 12 = \frac{4}{51} \times \frac{1}{12} = \frac{1}{153}$ 입니다.

주의

어떤 수를 구하고 그 수를 답으로 쓰지 않도록 주의해요.

채점 기준	배점
어떤 수를 구할 수 있나요?	3점
바르게 계산한 값을 구할 수 있나요?	2점

2 접근 » 쌀을 한 봉지에 몇 kg씩 담았는지 알아봅니다.

쌀을 10봉지에 똑같이 나누어 담았으므로 한 봉지에 담은 쌀은

$37\frac{1}{2} \div 10 = \frac{75}{2} \times \frac{1}{10} = \frac{15}{4}$ (kg)입니다.

10봉지 중 4봉지를 사용하였으므로 남은 쌀은 6봉지입니다. 한 봉지에 담은 쌀은

$\frac{15}{4}$ kg이므로 남은 쌀은 $\frac{15}{4} \times \frac{3}{2} = 22\frac{1}{2}$ (kg)입니다.

해결 전략

전체 쌀의 양을 10으로 나누어 한 봉지에 든 양을 구한 다음 6봉지에 든 양을 구해요.

주의

떡을 만드는 데 사용한 쌀의 양을 구하지 않도록 해요.

다른 풀이

쌀을 10봉지에 똑같이 나누어 담아 그중 4봉지의 쌀을 사용하고 6봉지의 쌀이 남았으므로

남은 쌀은 전체 쌀의 $\frac{6}{10}$ 입니다.

→ (남은 쌀의 양) = $37\frac{1}{2} \times \frac{6}{10} = \frac{75}{2} \times \frac{3}{10} = \frac{45}{2} = 22\frac{1}{2}$ (kg)

3 접근 » 주어진 길이를 이용하여 마름모의 넓이를 나타내 봅니다.

(마름모의 넓이) = (한 대각선의 길이) × (다른 대각선의 길이) ÷ 2이므로,

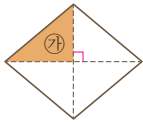
(마름모의 넓이) = ① × 2 × 6 × 2 ÷ 2 = 86입니다.

해결 전략

마름모의 넓이 구하는 식을 세워 ①의 길이를 구해요.

$$\textcircled{7} \times 12 = 86, \textcircled{7} = 86 \div 12 = \frac{86}{12} = \frac{43}{6} = 7\frac{1}{6} \text{ (cm)입니다.}$$

다른 풀이



왼쪽 그림에서 마름모의 넓이는 삼각형 ㉗의 넓이의 4배와 같습니다.

$$(\text{삼각형 ㉗의 넓이}) = 86 \div 4 = \frac{86}{4} = \frac{43}{2} \text{ (cm}^2\text{)}$$

따라서 (삼각형 ㉗의 넓이) = $\textcircled{7} \times 6 \div 2 = \frac{43}{2}$ 이므로

$$\textcircled{7} = \frac{43}{2} \times 2 \div 6 = \frac{43}{\cancel{2}^1} \times \cancel{2}^1 \times \frac{1}{6} = \frac{43}{6} = 7\frac{1}{6} \text{ (cm)입니다.}$$

보충 개념

마름모에 두 대각선을 그어 만들어진 4개의 직각삼각형은 합동입니다.

4 접근 $\blacktriangle \div \blacksquare = \bullet \rightarrow \blacksquare = \blacktriangle \div \bullet$

$$21 \div \textcircled{7} = 16 \Rightarrow \textcircled{7} = 21 \div 16 = \frac{21}{16}$$

$$\frac{9}{2} \div \textcircled{8} = 8 \Rightarrow \textcircled{8} = \frac{9}{2} \div 8 = \frac{9}{2} \times \frac{1}{8} = \frac{9}{16}$$

$$\text{따라서 } \textcircled{7} - \textcircled{8} = \frac{21}{16} - \frac{9}{16} = \frac{12}{16} = \frac{3}{4} \text{입니다.}$$

보충 개념

$$\blacktriangle \div \bullet = \blacktriangle \times \frac{1}{\bullet} = \frac{\blacktriangle}{\bullet}$$

5 22쪽 9번의 변형 심화 유형

접근 \gg 젤리 \blacksquare 개를 먹고 다시 무게를 재면, 젤리 \blacksquare 개의 무게만큼이 덜 나갑니다.

(젤리 20개의 무게)

= (젤리 50개가 놓여 있는 접시의 무게) - (나머지 젤리가 놓여 있는 접시의 무게)

$$= 10\frac{5}{12} - 6\frac{1}{4} = 10\frac{5}{12} - 6\frac{3}{12} = 4\frac{1}{6} = \frac{25}{6} \text{ (kg)}$$

젤리 20개의 무게가 $\frac{25}{6}$ kg이므로

$$\text{젤리 한 개의 무게는 } \frac{25}{6} \div 20 = \frac{25}{6} \times \frac{1}{20} = \frac{5}{24} \text{ (kg)입니다.}$$

$$\text{따라서 젤리 2개의 무게는 } \frac{5}{24} \times 2 = \frac{5}{12} \text{ (kg)입니다.}$$

해결 전략

무게의 차를 이용해 먹은 젤리 20개의 무게를 구한 다음 젤리 한 개의 무게를 구해요.

6 17쪽 4번의 변형 심화 유형

접근 \gg 수직선에서 눈금 한 칸의 크기를 알아봅니다.

수직선의 눈금 한 칸은 $2\frac{7}{8}$ 과 $7\frac{1}{4}$ 사이를 똑같이 5로 나눈 것 중 하나입니다.

보충 개념

수직선에서 두 수 사이의 거리는 두 수의 차와 같아요.

$$\begin{aligned} (\text{수직선의 눈금 한 칸의 크기}) &= (7\frac{1}{4} - 2\frac{7}{8}) \div 5 = (\frac{29}{4} - \frac{23}{8}) \div 5 \\ &= (\frac{58}{8} - \frac{23}{8}) \div 5 = \frac{35}{8} \div 5 = \frac{35 \div 5}{8} = \frac{7}{8} \end{aligned}$$

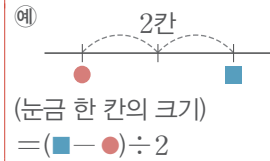
㉠과 ㉡이 나타내는 수의 차는 눈금 6칸만큼의 크기와 같습니다.

$$\rightarrow (\text{㉠과 ㉡이 나타내는 수의 차}) = \frac{7}{8} \times \frac{3}{6} = \frac{21}{4} = 5\frac{1}{4}$$

지도 가이드

수직선에서는 눈금 사이의 간격이 같으므로 나눗셈을 이용하여 눈금 한 칸의 크기를 구할 수 있습니다. 이 문제에서 ㉠과 ㉡ 사이의 거리를 구할 때에는 ㉠과 ㉡이 나타내는 수를 각각 구한 다음 두 수의 차를 구하기 보다는 ㉠과 ㉡ 사이에 있는 눈금의 수를 세어 두 수 사이의 거리를 곱셈으로 구하는 것이 편리합니다.

해결 전략



7 18쪽 5번의 변형 심화 유형
접근 » 분수의 나눗셈을 곱셈으로 바꿔서 식을 정리합니다.

$$5\frac{\bullet}{7} \div 4 \times 21 = \frac{35 + \bullet}{7} \div 4 \times 21 = \frac{35 + \bullet}{7} \times \frac{1}{4} \times \frac{3}{21} = \frac{(35 + \bullet) \times 3}{4}$$

계산 결과가 자연수가 되려면 (35 + ●)가 4의 배수이어야 합니다.

(35 + ●)를 4의 배수 36(=35 + 1), 40(=35 + 5), 44(=35 + 9), ...로 만드는 ●는 1, 5, 9, ...이고, ●는 7보다 작아야 하므로 ●는 1과 5입니다.

따라서 가장 큰 자연수가 되려면 ● = 5입니다.

해결 전략

분모 4와 약분되어 분모를 1로 만드는 수를 찾아요.

주의

5 $\frac{\bullet}{7}$ 에서 분자 ●는 분모 7보다 작아야 해요.

8 접근 » 겹치게 이어 붙이면 길이의 합에서 겹쳐진 길이만큼 줄어듭니다.

종이테이프 21장을 붙이면 21 - 1 = 20(군데)가 겹쳐집니다.

이어 붙인 종이테이프의 전체 길이는 종이테이프 21장의 길이의 합에서 겹쳐진 부분의 길이의 합을 뺀 것과 같습니다.

$$(\text{겹쳐진 부분의 길이의 합}) = \frac{3}{4} \times \frac{5}{20} = 15 \text{ (cm)}$$

종이테이프 한 장의 길이를 □cm라 하면 □ × 21 - 15 = 81 $\frac{3}{5}$ 이므로

$$\square \times 21 = 81\frac{3}{5} + 15, \square \times 21 = 96\frac{3}{5},$$

$$\square = 96\frac{3}{5} \div 21 = \frac{483}{5} \times \frac{1}{21} = \frac{23}{5} = 4\frac{3}{5} \text{ (cm)입니다.}$$

따라서 종이테이프 한 장의 길이는 4 $\frac{3}{5}$ cm입니다.

보충 개념

종이테이프 ■장을 겹치게 이어 붙이면 (■ - 1)군데가 겹쳐져요.

해결 전략

겹쳐진 부분은 각각 두 번씩 더해지므로 종이테이프 길이의 합에서 겹쳐진 길이의 합을 빼야 전체 길이가 돼요.

9 21쪽 8번의 변형 심화 유형

접근 >> 전체 일의 양을 1로 생각하고, 하루 동안 하는 일의 양을 분수로 나타냅니다.

승재와 찬우가 함께 전체 일의 $\frac{1}{3}$ 을 하는 데 2일이 걸리므로

승재와 찬우가 함께 하루 동안 하는 일의 양은 $\frac{1}{3} \div 2 = \frac{1}{3} \times \frac{1}{2} = \frac{1}{6}$ 이고,

승재가 혼자서 이 일을 끝내는 데 8일이 걸리므로

승재가 하루 동안 하는 일의 양은 $1 \div 8 = \frac{1}{8}$ 입니다.

따라서 찬우가 혼자서 하루 동안 하는 일의 양은 $\frac{1}{6} - \frac{1}{8} = \frac{4}{24} - \frac{3}{24} = \frac{1}{24}$ 이고

$\frac{1}{24} \times 24 = 1$ 이므로 찬우가 혼자서 이 일을 하면 24일 만에 끝낼 수 있습니다.

지도 가이드

일의 양이 수치로 주어지지 않기 때문에, 전체 일의 양을 1로 생각하고 하루 동안 하는 일의 양을 분수로 나타내어야 합니다. 만약에 전체 일을 ■일 동안 했다면 하루에 하는 일의 양은 $1 \div \blacksquare = \frac{1}{\blacksquare}$ 로 나타낼 수 있습니다. 즉 $\frac{1}{\blacksquare} \times \blacksquare = 1$ 이므로 하루에 전체의 $\frac{1}{\blacksquare}$ 만큼의 일을 하는 사람은 이 일을 마치는 데 ■일이 필요합니다. 계산은 간단하지만 '일의 양'이라는 추상적인 개념을 식으로 나타내는 과정이 낯선 문제입니다. 풀이법을 외우기보다는 상황을 먼저 이해하도록 도와주세요.

해결 전략

- (전체 일의 양) = 1
 - (끝내는 데 걸린 날수) = ■일
 - (하루 동안 하는 일의 양)
- $$= 1 \div \blacksquare = \frac{1}{\blacksquare}$$

보충 개념

하루 동안 하는 일의 양과 일한 날수를 곱하여 1이 되어야 해요.



19쪽 6번의 변형 심화 유형

접근 >> $\blacksquare \div \bullet = \frac{\blacksquare}{\bullet}$ 이므로 $\frac{\blacksquare}{\bullet}$ 를 $\blacksquare \div \bullet$ 로 나타낼 수 있습니다.

예 $\textcircled{7} \blacktriangle \textcircled{4} = \frac{\textcircled{7}}{\textcircled{4} \times \textcircled{4}} = \textcircled{7} \div (\textcircled{4} \times \textcircled{4})$ 으로 나타낼 수 있습니다.

$$3\frac{1}{5} \blacktriangle 2 = 3\frac{1}{5} \div (2 \times 2) = \frac{16}{5} \div 4 = \frac{16 \div 4}{5} = \frac{4}{5}$$

$$\rightarrow (3\frac{1}{5} \blacktriangle 2) \blacktriangle 6 = \frac{4}{5} \blacktriangle 6 = \frac{4}{5} \div (6 \times 6) = \frac{4}{5} \div 36 = \frac{4}{5} \times \frac{1}{36} = \frac{1}{45}$$

해결 전략

분수를 나눗셈으로 바꾸어 계산해요.

주의

괄호 안을 먼저 계산해요.

채점 기준	배점
$3\frac{1}{5} \blacktriangle 2$ 의 값을 구할 수 있나요?	2.5점
$(3\frac{1}{5} \blacktriangle 2) \blacktriangle 6$ 의 값을 구할 수 있나요?	2.5점

11 접근 >> 1 m^2 를 칠하는 데 필요한 페인트의 양만큼씩 덜어낸다고 생각합니다.

$$(\text{보라색 페인트의 양}) = 3\frac{2}{7} + 3\frac{2}{5} = 3\frac{10}{35} + 3\frac{14}{35} = 6\frac{24}{35} \text{ (L)}$$

벽 1 m²을 칠하는 데 페인트가 2 L 필요하므로 페인트 6 $\frac{24}{35}$ L로 칠할 수 있는

$$\text{벽의 넓이는 } 6 \frac{24}{35} \div 2 = \frac{234}{35} \times \frac{1}{2} = \frac{117}{35} = 3 \frac{12}{35} \text{ (m}^2\text{)입니다.}$$

해결 전략

(칠할 수 있는 벽의 넓이)
= (전체 페인트의 양)
÷ (벽 1 m²를 칠하는 데
필요한 페인트의 양)

12 접근 >> 나누어지는 수가 클수록, 나누는 수가 작을수록 나눗셈의 몫이 커집니다.

(경사도) = (수직 거리) ÷ (수평 거리)이므로 수직 거리가 길수록, 수평 거리가 짧을수록 경사도가 큼니다. 두 경사로의 수직 거리를 비교해 보면 ㉞ 건물이 더 길고, 수평 거리를 비교해 보면 ㉞ 건물이 더 짧으므로 ㉞ 건물 경사로의 경사도가 더 큼니다.

→ (㉞ 건물 경사로의 경사도) = (수직 거리) ÷ (수평 거리)

$$= 41 \frac{3}{5} \div 312 = \frac{208}{5} \times \frac{1}{312} = \frac{2}{15}$$

해결 전략

수직 거리와 수평 거리의 크기를 먼저 비교하여 경사도가 더 큰 쪽을 골라요.

보충 개념

■ ÷ ▲ = ●
클수록 커요
작을수록 커요

다른 풀이

$$\text{(㉞의 경사도)} = 41 \frac{3}{5} \div 312 = \frac{208}{5} \times \frac{1}{312} = \frac{2}{15}$$

$$\text{(㉞의 경사도)} = 37 \div 333 = \frac{37}{333} = \frac{1}{9}$$

$\frac{2}{15} > \frac{1}{9}$ 이므로 둘 중 경사도가 더 큰 곳의 경사도는 $\frac{2}{15}$ 입니다.

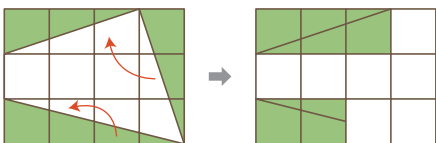
지도 가이드

경사도를 구하기 전, 나누어지는 수(수직 거리)와 나누는 수(수평 거리)의 크기를 비교하여 몫이 큰 쪽을 찾으면 계산을 한 번만 해도 답을 구할 수 있습니다. 두 경사로의 경사도를 각각 구해서 비교했다면, 두 나눗셈식의 숫자를 비교하여 나누어지는 수, 나누는 수, 몫의 크기 관계를 다시 한 번 설명해 주세요.

13 15쪽 2번의 변형 심화 유형 접근 >> 색칠한 부분이 정사각형 몇 개의 넓이와 같은지 알아봅시다.

직사각형을 똑같이 12개로 나누었으므로 작은 정사각형 한 개의 넓이는

$$10 \frac{4}{5} \div 12 = \frac{54}{5} \times \frac{1}{12} = \frac{9}{10} \text{ (cm}^2\text{)입니다.}$$

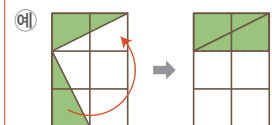


색칠한 부분은 작은 정사각형 5개의 넓이와 같습니다.

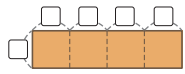
$$\text{따라서 색칠한 부분의 넓이는 } \frac{9}{10} \times 5 = \frac{9}{2} = 4 \frac{1}{2} \text{ (cm}^2\text{)입니다.}$$

해결 전략

색칠한 부분을 옮겨서 직사각형 모양으로 만들어요.



14 접근 >> 가장 작은 직사각형의 가로가 세로의 몇 배인지 생각해 봅시다.



나누어 만든 직사각형 하나의 가로는 세로의 4배이므로 세로를 \square cm라 하면 가로는 $(\square \times 4)$ cm입니다.

직사각형의 가로와 세로의 합은 $5\frac{1}{4} \div 2 = \frac{21}{4} \times \frac{1}{2} = \frac{21}{8} = 2\frac{5}{8}$ (cm)이고 이것은 $\square + \square \times 4 = \square \times 5$ 이므로 세로의 5배와 같습니다.

$$(\text{세로}) = 2\frac{5}{8} \div 5 = \frac{21}{8} \times \frac{1}{5} = \frac{21}{40} \text{ (cm)}, (\text{가로}) = \frac{21}{40} \times 4 = \frac{21}{10} = 2\frac{1}{10} \text{ (cm)}$$

정사각형의 한 변의 길이는 직사각형의 가로와 같으므로 정사각형의 둘레는 직사각형의 가로의 4배와 같습니다.

$$\rightarrow (\text{정사각형의 둘레}) = 2\frac{1}{10} \times 4 = \frac{21}{10} \times 4 = \frac{42}{5} = 8\frac{2}{5} \text{ (cm)}$$

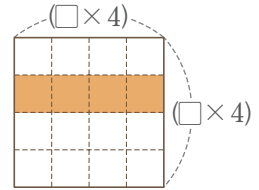
다른 풀이

나누어 만든 직사각형 하나의 세로를 \square cm라 하면 가로는 $(\square \times 4)$ cm이므로 직사각형의 둘레는 $\square \times 4 + \square + \square \times 4 + \square = 5\frac{1}{4}$ 에서 $\square \times 10 = 5\frac{1}{4}$, $\square = 5\frac{1}{4} \div 10 = \frac{21}{4} \times \frac{1}{10} = \frac{21}{40}$ (cm)입니다.

정사각형의 한 변의 길이는 직사각형의 가로와 같으므로 $\frac{21}{40} \times 4 = \frac{21}{10} = 2\frac{1}{10}$ (cm)입니다.

따라서 정사각형의 둘레는 $2\frac{1}{10} \times 4 = \frac{21}{10} \times 4 = \frac{42}{5} = 8\frac{2}{5}$ (cm)입니다.

해결 전략



주의

직사각형의 둘레는 가로와 세로의 합이 2배예요.

15 21쪽 8번의 변형 심화 유형 접근 >> 하루 목표 생산량을 1로 생각하고, 1시간 동안 생산하는 양을 분수로 나타냅니다.

㉠ 기계만 5시간 동안 작동시켜서 하루 목표 생산량의 $\frac{1}{4}$ 을 만들었으므로 ㉠ 기계로 1시간 동안 하루 목표 생산량의 $\frac{1}{4} \div 5 = \frac{1}{4} \times \frac{1}{5} = \frac{1}{20}$ 을 만들 수 있습니다.

㉡ 기계만 10시간 동안 작동시켜서 하루 목표 생산량의 $1 - \frac{1}{4} = \frac{3}{4}$ 을 만들었으므로 ㉡ 기계로 1시간 동안 하루 목표 생산량의 $\frac{3}{4} \div 10 = \frac{3}{4} \times \frac{1}{10} = \frac{3}{40}$ 을 만들 수 있습니다.

㉠ 기계와 ㉡ 기계를 동시에 작동시키면 1시간 동안 하루 목표 생산량의 $\frac{1}{20} + \frac{3}{40} = \frac{2}{40} + \frac{3}{40} = \frac{5}{40} = \frac{1}{8}$ 을 만들 수 있습니다. $\frac{1}{8} \times 8 = 1$ 이므로 ㉠ 기계와 ㉡ 기계를 동시에 작동시켜서 하루 목표 생산량만큼을 만들려면 8시간이 걸립니다.

보충 개념

하루 목표 생산량을 1로 볼 때, ㉠ 기계로 하루 목표 생산량의 $\frac{1}{4}$ 을 만들었으므로 나머지는 전체 1에서 $\frac{1}{4}$ 을 뺀 $\frac{3}{4}$ 이예요.

지도 가이드

일의 양이 수치로 주어지지 않은 문제를 해결할 때 전체 일의 양을 1로 생각하여 푸는 것과 같은 맥락의 문제입니다. 전체(하루 목표 생산량)를 1로 생각하고 기계를 1시간 동안 작동시킬 때의 생산량을 분수로 나타내도록 지도해 주세요. 하루 목표 생산량을 만드는 데 기계를 ■일 동안 작동시켰다면 이 기계의 하루 생산량은 $1 \div \blacksquare = \frac{1}{\blacksquare}$ 로 나타낼 수 있습니다. $\frac{1}{\blacksquare} \times \blacksquare = 1$ 이므로 이 기계를 작동시켜 일을 마치는 데 ■일이 필요합니다.

HIGH LEVEL

28~30쪽

- | | | | |
|------------------|----------------------|----------------------------------|------------------|
| 1 ㉞ | 2 $6\frac{5}{12}$ cm | 3 9분 12초 후 | 4 $\frac{8}{63}$ |
| 5 $\frac{1}{28}$ | 6 136개 | 7 $\frac{18}{49}$ m ² | 8 10분 |

1 접근 » 나눗셈을 곱셈으로 바꾸어 식을 정리해 봅니다.

㉠ $\blacksquare \times \frac{2}{7} \div 8 = \blacksquare \times \frac{2}{7} \times \frac{1}{8} = \blacksquare \times \frac{1}{28}$

㉡ $\blacksquare \div 20 \times 3 = \blacksquare \times \frac{1}{20} \times 3 = \blacksquare \times \frac{3}{20}$

㉢ $\blacksquare \times \frac{9}{14} \div 6 = \blacksquare \times \frac{9}{14} \times \frac{1}{6} = \blacksquare \times \frac{3}{28}$

㉣ $\blacksquare \div 6 \div 5 = \blacksquare \times \frac{1}{6} \times \frac{1}{5} = \blacksquare \times \frac{1}{30}$

■에 곱하는 수가 작을수록 계산 결과가 작아집니다. ■에 곱하는 수의 크기를 비교하면 $\frac{1}{30} < \frac{1}{28} < \frac{3}{28} < \frac{3}{20}$ 이므로 계산 결과가 가장 작은 것은 ㉣입니다.

해결 전략

어떤 수에 더 작은 수를 곱할수록 계산 결과가 작아져요.

보충 개념

분자가 같을 때, 분모가 작을수록 큰 수예요.

예 $\frac{1}{30} < \frac{1}{28}$

서술형 2 16쪽 3번의 변형 심화 유형

접근 » 주어진 삼각형과 평행사변형의 높이는 같습니다.

예 두 직선 ㉠과 ㉡가 서로 평행하므로 삼각형과 평행사변형의 높이는 두 직선 ㉠과 ㉡ 사이의 거리와 같습니다. 두 직선 사이의 거리를 □cm라 하면

$8 \times \square \div 2 + 9 \times \square = 83\frac{5}{12}$, $4 \times \square + 9 \times \square = 83\frac{5}{12}$, $13 \times \square = 83\frac{5}{12}$,

$\square = 83\frac{5}{12} \div 13 = \frac{1001}{12} \times \frac{1}{13} = \frac{77}{12} = 6\frac{5}{12}$ (cm)입니다.

따라서 두 직선 ㉠과 ㉡ 사이의 거리는 $6\frac{5}{12}$ cm입니다.

보충 개념

- (삼각형의 넓이) = (밑변) × (높이) ÷ 2
- (평행사변형의 넓이) = (밑변) × (높이)

채점 기준	배점
삼각형과 평행사변형의 넓이를 이용하여 식을 세울 수 있나요?	2점
두 직선 ㉔와 ㉕ 사이의 거리를 구할 수 있나요?	3점

3 20쪽 7번의 변형 심화 문제 접근 >> 1분 후 두 자동차 사이의 거리를 생각해 봅시다.

$$(1분 후 두 자동차 사이의 거리) = 1\frac{5}{6} + 1\frac{1}{6} = 3 \text{ (km)}$$

(걸린 시간) = (두 자동차 사이의 거리) ÷ (1분 후 두 자동차 사이의 거리)

$$= 27\frac{3}{5} \div 3 = \frac{138}{5} \times \frac{1}{3} = \frac{46}{5} = 9\frac{1}{5} \text{ (분)}$$

따라서 두 자동차 사이의 거리가 $27\frac{3}{5}$ km가 되었을 때는 출발한 지

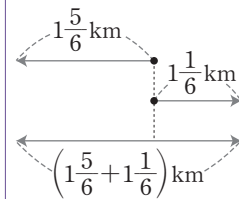
$$9\frac{1}{5} \text{ 분} = 9\frac{12}{60} \text{ 분} = 9\text{분 } 12\text{초 후입니다.}$$

해결 전략

(■분 후 두 자동차 사이의 거리) ÷ (1분 후 두 자동차 사이의 거리) = (걸린 시간) = ■분

보충 개념

반대 방향으로 가면 서로 멀어집니다.



4 접근 >> 두 수 ㉔, ㉕을 더해서 16이 되는 경우를 먼저 찾아봅시다.

㉔, ㉕은 2부터 9까지의 자연수이고 ㉔ + ㉕ = 16일 때 ㉔과 ㉕의 값을 찾아봅시다.

→ (㉔, ㉕) = (7, 9), (9, 7)

㉕이 정해져 있을 때 $\frac{㉔}{㉔} \div ㉕$ 의 몫이 가장 크려면 $\frac{㉔}{㉔}$ 이 가능한 한 커야 하므로 각

경우에 $\frac{㉔}{㉔}$ 이 가장 크게 되는 ㉔, ㉕, ㉕의 값을 정하여 계산해 봅시다.

• (㉔, ㉕) = (7, 9) → $\frac{㉔}{㉔}$ 의 값이 가장 큰 경우는 $\frac{6}{7}$ 이므로

$$\frac{㉔}{㉔} \div ㉕ = \frac{6}{7} \div 9 = \frac{6}{7} \times \frac{1}{9} = \frac{2}{21}$$

• (㉔, ㉕) = (9, 7) → $\frac{㉔}{㉔}$ 의 값이 가장 큰 경우는 $\frac{8}{9}$ 이므로

$$\frac{㉔}{㉔} \div ㉕ = \frac{8}{9} \div 7 = \frac{8}{9} \times \frac{1}{7} = \frac{8}{63}$$

$\frac{2}{21} < \frac{8}{63}$ 이므로 $\frac{㉔}{㉔} \div ㉕$ 의 값이 될 수 있는 기약분수 중 가장 큰 수는 $\frac{8}{63}$ 입니

다.

주의

㉔과 ㉕은 서로 다른 수이므로 $8 + 8 = 16$ 이어도 ㉔ = 8, ㉕ = 8인 경우는 생각하지 않아요.

보충 개념

■ ÷ ▲에서 ■가 클수록, ▲가 작을수록 몫이 커져요.

해결 전략

나누는 수 ㉕을 정하고, ㉔을 분모로 하는 진분수 중 가장 큰 진분수를 만들어 몫을 구해요.

5 접근 >> 주어진 분수의 분모를 연속하는 두 자연수의 곱으로 나타낼 수 있습니다.

주어진 분모를 연속한 두 자연수의 곱으로 나타내면

$$20 = 4 \times 5, 30 = 5 \times 6, 42 = 6 \times 7, \dots, 132 = 11 \times 12, 156 = 12 \times 13, 182 = 13 \times 14 \text{입니다.}$$

$$\begin{aligned} & \left(\frac{1}{20} + \frac{1}{30} + \frac{1}{42} + \dots + \frac{1}{132} + \frac{1}{156} + \frac{1}{182} \right) \div 5 \\ &= \left(\frac{1}{4 \times 5} + \frac{1}{5 \times 6} + \frac{1}{6 \times 7} + \dots + \frac{1}{11 \times 12} + \frac{1}{12 \times 13} + \frac{1}{13 \times 14} \right) \div 5 \\ &= \left(\frac{1}{4} - \frac{1}{5} + \frac{1}{5} - \frac{1}{6} + \frac{1}{6} - \frac{1}{7} + \dots \right. \\ & \quad \left. + \frac{1}{11} - \frac{1}{12} + \frac{1}{12} - \frac{1}{13} + \frac{1}{13} - \frac{1}{14} \right) \div 5 \\ &= \left(\frac{1}{4} - \frac{1}{14} \right) \div 5 = \left(\frac{7}{28} - \frac{2}{28} \right) \div 5 = \frac{5 \div 5}{28} = \frac{1}{28} \end{aligned}$$

해결 전략

분모를 연속하는 두 자연수의 곱으로 나타내어 분수의 뺄셈 식으로 바꾼 다음 식을 간단히 정리해요.

주의

맨 앞의 분수와 맨 뒤의 분수는 지워지지 않아요.

지도 가이드

길고 복잡한 계산이지만, 규칙을 찾으면 간단한 분수의 나눗셈식으로 정리할 수 있습니다. 먼저 분모를 연속하는 두 자연수의 곱으로 나타낼 수 있도록 도와주세요. 그 다음 주어진 조건을 적용하여 식을 뺄셈 형태로 바꾸면 자연스럽게 문제의 실마리를 찾을 수 있습니다. 어려워 한다면 생략된 부분의 분수도 추가로 설명해 주세요.

6 21쪽 8번의 변형 심화 유형
접근 >> 두 상자에 담은 전체 사과의 양의 합을 1로 생각합니다.

전체 사과를 양을 1이라고 하고 ㉠ 상자에 담을 수 있는 사과를 양을 □, ㉡ 상자에 담을 수 있는 사과를 양을 △라 하면 $\square + \triangle = \frac{1}{48}$ 이고, $\square \times 36 + \triangle \times 70 = 1$ 입니다.

$$\square \times 36 + \triangle \times 36 = (\square + \triangle) \times 36 = \frac{1}{48} \times 36 = \frac{3}{4} \text{이므로}$$

$$\square \times 36 + \triangle \times 70 = \square \times 36 + \triangle \times 36 + \triangle \times 34 = \frac{3}{4} + \triangle \times 34 = 1 \text{이고,}$$

$$\triangle \times 34 = 1 - \frac{3}{4} = \frac{1}{4}, \triangle = \frac{1}{4} \div 34 = \frac{1}{4} \times \frac{1}{34} = \frac{1}{136} \text{입니다.}$$

㉡ 상자에 담을 수 있는 사과를 양이 전체의 $\frac{1}{136}$ 이고, $\frac{1}{136} \times 136 = 1$ 이므로 전체 사과를 ㉡ 상자에만 담으려면 ㉡ 상자는 모두 136개 필요합니다.

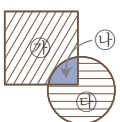
보충 개념

$$\begin{aligned} & (\square + \triangle) \times 36 \\ &= \square \times 36 + \triangle \times 36 \end{aligned}$$

해결 전략

전체 사과 양이 1이므로 ㉡ 상자 하나에 담은 양과 ㉡ 상자의 개수의 곱이 1이 되어야 해요.

7 접근 >> 겹쳐지지 않은 부분은 겹쳐진 부분의 몇 배인지 생각해 봅니다.



왼쪽 그림과 같이 도형을 ㉠, ㉡, ㉢ 세 부분으로 나누면 ㉠ = ㉡ × 7,

㉡ = ㉣ × 6이고, ㉠ + ㉡ + ㉣ = $5\frac{1}{7}$ 입니다.

따라서 $\textcircled{7} + \textcircled{4} + \textcircled{4} = \textcircled{4} \times 7 + \textcircled{4} + \textcircled{4} \times 6 = \textcircled{4} \times 14 = 5\frac{1}{7}$ 이므로

$$\textcircled{4} = 5\frac{1}{7} \div 14 = \frac{36}{7} \times \frac{1}{14} = \frac{18}{49} (\text{m}^2) \text{입니다.}$$

다른 풀이

겹쳐진 부분의 넓이를 $\square \text{m}^2$ 라 하면
 (겹쳐진 도형의 전체 넓이) = (사각형의 넓이) + (원의 넓이) - (겹쳐진 부분의 넓이)

$$= \square \times 8 + \square \times 7 - \square = \square \times 14 = 5\frac{1}{7}$$

$$\rightarrow \square = 5\frac{1}{7} \div 14 = \frac{36}{7} \times \frac{1}{14} = \frac{18}{49} (\text{m}^2)$$

해결 전략

겹쳐진 부분의 넓이를 이용하여 겹쳐지지 않은 부분의 넓이를 식으로 나타내요.

보충 개념

사각형의 넓이가 $\textcircled{4}$ 의 넓이의 8배이므로 사각형에서 겹쳐지지 않은 부분의 넓이는 $\textcircled{4}$ 의 넓이의 $8 - 1 = 7$ (배)예요.

8 21쪽 8번의 변형 심화 유형
접근 >> 물탱크를 가득 채우는 물의 양을 1로 생각합니다.

30분 만에 물탱크가 가득 차므로 1분 동안 받는 물의 양은 $1 \div 30 = \frac{1}{30}$ 입니다.

예정 시간보다 4분 늦게 물탱크가 가득 찼으므로 새 물의 양은 4분 동안 받은 양인

$$\frac{1}{30} \times 4 = \frac{2}{15} \text{이고, 물이 16분 동안 새어 나갔으므로 1분 동안 새 물의 양은}$$

$$\frac{2}{15} \div 16 = \frac{1}{15} \times \frac{1}{16} = \frac{1}{120} \text{입니다.}$$

(물이 새는 1분 동안 받는 물의 양) = (1분 동안 받는 물의 양) - (1분 동안 새 물의 양)

$$= \frac{1}{30} - \frac{1}{120} = \frac{4}{120} - \frac{1}{120} = \frac{3}{120} = \frac{1}{40}$$
이고, $\frac{1}{40} \times 40 = 1$ 이므로 물이 새는 곳을 막지 않았을 때 물탱크를 가득 채우려면 40분이 걸립니다.
 따라서 처음 예정 시간보다 $40 - 30 = 10$ (분) 더 걸립니다.

다른 풀이

수도로 1분 동안 받는 물의 양을 1이라 하면 30분 동안 물탱크를 가득 채운 물의 양은 30입니다.
 새는 곳을 막은 뒤 $30 - 16 + 4 = 18$ (분) 동안 물을 더 받았으므로 이때 받은 물의 양은 18입니다.

(새는 곳을 막기 전 16분 동안 받은 물의 양)

$$= (\text{물탱크를 가득 채운 물의 양}) - (\text{새는 곳을 막고 18분 동안 받은 물의 양}) = 30 - 18 = 12$$

 이므로 새는 곳을 막기 전 16분 동안 받은 물의 양은 1분 동안 $12 \div 16 = \frac{12}{16} = \frac{3}{4}$ 씩 받은 것과 같습니다.

1분 동안 받은 물의 양이 $\frac{3}{4}$ 이므로 4분 동안 받은 물의 양은 3입니다. 4분 동안 물을 3만큼 받으므로 30만큼의 물을 받으려면 40분이 걸립니다. 따라서 예정 시간보다 $40 - 30 = 10$ (분) 더 걸립니다.

해결 전략

얼마만큼의 물이 몇 분 동안 샐는지 알아봐요.

보충 개념

- (물탱크를 가득 채우는 물의 양) = 1
- (수도로 물탱크를 가득 채우는 데 걸린 시간) = ■분
- (수도로 1분 동안 받는 물의 양) = $1 \div \blacksquare = \frac{1}{\blacksquare}$

주의

물을 틀었을 때부터 물이 새는 것을 발견하기까지(16분 동안) 물이 샐어요.

2 각기둥과 각뿔

BASIC TEST

1 각기둥 35쪽

- | | | |
|-------------|---------|---------|
| 1 ㉠, ㉡ | 2 풀이 참조 | 3 47 cm |
| 4 12, 8, 18 | 5 삼각형 | 6 46개 |

- 1 ㉠ 밑면의 모양은 삼각형, 사각형, 오각형 등으로 여러 가지가 될 수 있습니다.
 ㉡ 두 밑면은 서로 평행합니다.
 ㉢ 두 밑면은 서로 합동이지만 옆면은 모두 직사각형일 뿐 합동이 아닐 수도 있습니다.

- 2 예 주어진 도형은 변의 수가 5개이므로 오각형입니다. 따라서 밑면의 모양이 오각형인 각기둥의 이름은 오각기둥입니다.

보충 개념
 밑면의 모양에 따라 각기둥의 이름이 결정됩니다.

- 3 모서리는 면과 면이 만나는 선분이므로 모든 모서리의 길이의 합은
 $(5 + 5 + 3) \times 2 + (7 \times 3) = 26 + 21 = 47$ (cm)입니다.

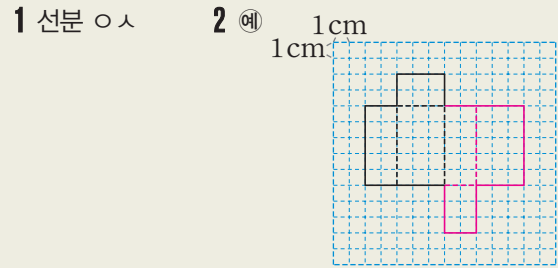
- 4 밑면의 모양이 육각형이므로 육각기둥입니다.
 (각기둥의 꼭짓점의 수)
 $= (\text{한 밑면의 변의 수}) \times 2 = 6 \times 2 = 12$ (개)
 (각기둥의 면의 수)
 $= (\text{한 밑면의 변의 수}) + 2 = 6 + 2 = 8$ (개)
 (각기둥의 모서리의 수)
 $= (\text{한 밑면의 변의 수}) \times 3 = 6 \times 3 = 18$ (개)

- 5 옆면의 모양이 모두 직사각형이므로 각기둥이고, (각기둥의 면의 수)
 $= (\text{한 밑면의 변의 수}) + 2 = 5$ (개)이므로
 $(\text{한 밑면의 변의 수}) = 5 - 2 = 3$ (개)입니다.
 따라서 이 입체도형의 밑면의 모양은 삼각형입니다.

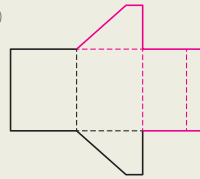
보충 개념
 밑면의 모양이 삼각형인 각기둥이므로 이 입체도형은 삼각기둥입니다.

- 6 ㉣: (각기둥의 모서리의 수)
 $= (\text{한 밑면의 변의 수}) \times 3 = 10 \times 3 = 30$ (개)
 ㉤: (각기둥의 꼭짓점의 수)
 $= (\text{한 밑면의 변의 수}) \times 2 = 8 \times 2 = 16$ (개)
 $\rightarrow ㉣ + ㉤ = 30 + 16 = 46$ (개)

2 각기둥의 전개도 37쪽



- 3 (위에서부터) 6, 10 4 ㉠
 5 예 6 ㉡



- 1 전개도를 접었을 때의 모양을 생각해 보면 점 \square 과 점 \circ 사이 만나게 되고, 점 \square 과 점 \circ 이 만나게 되므로 선분 \square 과 맞닿는 선분은 선분 \circ 입니다.

- 2 맞닿는 모서리의 길이는 같게, 두 밑면은 서로 합동으로 그립니다.

보충 개념
 전개도는 모서리를 자르는 방법에 따라 여러 가지 모양으로 그릴 수 있습니다.

- 3 삼각기둥의 높이가 11 cm이므로 밑면의 가장 짧은 변의 길이는 $(23 - 11) \div 2 = 6$ (cm)이고, 밑면의 가장 긴 변의 길이는 $16 - 6 = 10$ (cm)입니다.

- 4 오각기둥의 옆면은 5개입니다.
 ㉡은 옆면이 4개이므로 접어서 오각기둥을 만들 수 없습니다.

- 5 밑면의 각 변의 길이에 유의하여 옆면이 4개가 되도록 점선 부분에 이어서 그립니다.

6 ㉠에 나머지 한 면을 그리면 접었을 때 두 면이 서로 겹쳐집니다.

3 각뿔

39쪽

- 1 ㉠, ㉡ 2 ㉢, ㉣
 3 (위에서부터) 5, 6 / 6, 7 / 10, 12
 4 ㉤ 5 칠각뿔 6 108 cm

- 1 ㉠은 모서리이고 ㉡은 꼭짓점입니다.
 2 ㉢ 옆면과 밑면은 수직으로 만나지 않습니다.
 ㉣ 각뿔의 높이는 각뿔의 꼭짓점에서 밑면에 수직인 선분의 길이입니다.
 3 (각뿔의 옆면의 수)=(밑면의 변의 수)
 (각뿔의 꼭짓점의 수)=(밑면의 변의 수)+1
 (각뿔의 모서리의 수)=(밑면의 변의 수)×2

각뿔	오각뿔	육각뿔
옆면의 수(개)	5	6
꼭짓점의 수(개)	5+1=6	6+1=7
모서리의 수(개)	5×2=10	6×2=12

- 4 ㉤ (모서리의 수)=(밑면의 변의 수)×2이고
 (꼭짓점의 수)=(밑면의 변의 수)+1이므로
 (모서리의 수)>(꼭짓점의 수)입니다.

다른 풀이

사각뿔을 예로 하여 알아봅시다.

- ① (옆면의 수)=(밑면의 변의 수)=4
 ② (면의 수)=(꼭짓점의 수)=4+1=5
 ③ (꼭짓점의 수)=5>(밑면의 변의 수)=4
 ④ (모서리의 수)=8>(꼭짓점의 수)=5
 ⑤ (옆면의 수)=4<(꼭짓점의 수)=5
 → 옳지 않은 것은 ④입니다.

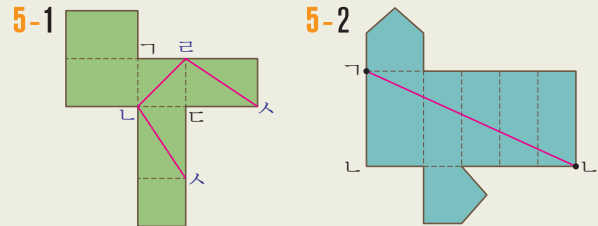
- 5 옆면의 모양이 삼각형이므로 각뿔입니다.
 (각뿔의 모서리의 수)=(밑면의 변의 수)×2=14
 이므로 (밑면의 변의 수)=14÷2=7(개)입니다.
 따라서 밑면의 모양이 칠각형인 각뿔이므로 칠각뿔입니다.

- 6 정육각뿔은 밑면의 모양이 정육각형이고, 옆면의 모양이 합동인 삼각형 6개로 이루어져 있습니다. 따라서 모든 모서리의 길이의 합은
 $(8 \times 6) + (10 \times 6) = 48 + 60 = 108$ (cm)입니다.

MATH TOPIC

40~48쪽

- 1-1 18개 1-2 16개, 10개 1-3 십이각형
 2-1 19개 2-2 30 cm 2-3 팔각뿔
 3-1 45 cm 3-2 60 cm 3-3 76 cm
 4-1 3가지 4-2 ㉠, ㉡, ㉢



- 6-1 180 cm 6-2 90 cm
 7-1 18개 7-2 1개 7-3 4개
 8-1 90 cm 8-2 7 cm 8-3 120 cm
 심화 9 20 / 20, 60 / 60 9-1 179.2 cm

- 1-1 밑면이 2개이고 옆면의 모양이 직사각형이므로 각기둥입니다.
 (각기둥의 꼭짓점의 수)
 =(한 밑면의 변의 수)×2=12이므로
 (한 밑면의 변의 수)=12÷2=6(개)입니다.
 따라서 주어진 입체도형은 육각기둥이므로
 모서리의 수는
 (한 밑면의 변의 수)×3=6×3=18(개)입니다.

- 1-2 옆면의 수는 한 밑면의 변의 수와 같으므로 옆면이 8개인 각기둥은 팔각기둥입니다.
 팔각기둥의 꼭짓점의 수는
 (한 밑면의 변의 수)×2=8×2=16(개)이고,
 면의 수는
 (한 밑면의 변의 수)+2=8+2=10(개)입니다.

1-3 각기둥은 밑면과 옆면이 수직으로 만나므로 옆면과 옆면이 만나는 모서리의 길이가 높이와 같습니다. 즉 설명하는 입체도형은 각기둥입니다. 각기둥의 한 밑면의 변의 수를 □개라 하면 면의 수는 (□+2)개, 모서리의 수는 (□×3)개, 꼭짓점의 수는 (□×2)개이므로 모두 더하면 $(\square+2)+(\square\times 3)+(\square\times 2)=74$, $\square+2+\square+\square+\square+\square+\square=74$, $\square\times 6+2=74$, $\square\times 6=72$, $\square=72\div 6=12(\text{개})$ 입니다. 따라서 한 밑면의 변의 수가 12개이므로 밑면은 십이각형입니다.

2-1 옆면의 모양이 모두 삼각형이므로 이 입체도형은 각뿔이고, 옆면이 6개이므로 육각뿔입니다. (각뿔의 꼭짓점의 수)=(밑면의 변의 수)+1이므로 육각뿔의 꼭짓점의 수는 6+1=7(개)이고, (각뿔의 모서리의 수)=(밑면의 변의 수)×2이므로 육각뿔의 모서리의 수는 6×2=12(개)입니다. 따라서 육각뿔의 꼭짓점의 수와 모서리의 수의 합은 7+12=19(개)입니다.

2-2 옆면의 모양이 모두 삼각형이므로 이 입체도형은 각뿔이고, 밑면의 모양이 삼각형이므로 삼각뿔입니다. (각뿔의 모서리의 수)=(밑면의 변의 수)×2이므로 삼각뿔의 모서리의 수는 3×2=6(개)입니다. 한 모서리의 길이는 5 cm이므로 삼각뿔의 모든 모서리의 길이의 합은 5×6=30 (cm)입니다.

보충 개념

정삼각뿔은 모든 면이 합동이므로 모든 면이 밑면이 될 수 있습니다.

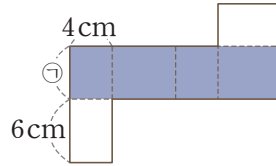
2-3 밑면의 변의 수를 □개라 하면 (모든 모서리의 길이의 합) $= (6\times \square) + (9\times \square) = 120$, $15\times \square = 120$, $\square = 120\div 15 = 8(\text{개})$ 입니다. 따라서 밑면의 변의 수가 8개인 각뿔은 팔각뿔입니다.

보충 개념

밑면의 각 변의 길이가 모두 6 cm로 같으므로 밑면은 정팔각형입니다.

3-1 정오각형의 한 변의 길이가 2 cm이므로 한 밑면의 둘레는 $2\times 5=10$ (cm)입니다. 주어진 오각기둥의 높이가 5 cm이므로 모든 모서리의 길이의 합은 $(10\times 2) + (5\times 5) = 20 + 25 = 45$ (cm)입니다.

3-2

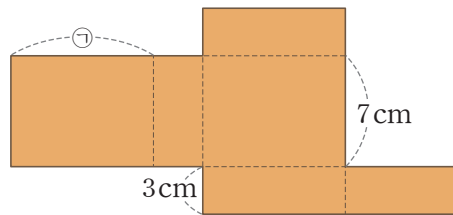


색칠한 부분의 가로는 $4+6+4+6=20$ (cm)이고 넓이는 100 cm^2 이므로 세로를 ① cm라 하면 $20\times \textcircled{1}=100$, $\textcircled{1}=5$ (cm)입니다. 따라서 사각기둥의 모든 모서리의 길이의 합은 $(4+6+4+6)\times 2 + (5\times 4) = 40 + 20 = 60$ (cm)입니다.

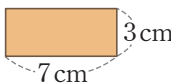
주의

전개도의 둘레를 구하지 않도록 합니다.

3-3

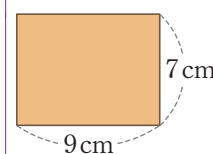


전개도의 둘레에는 길이가 7 cm인 선분이 4개, 3 cm인 선분이 6개, ①과 길이가 같은 선분이 4개 있습니다. 전개도의 둘레의 길이는 $(7\times 4) + (3\times 6) + (\textcircled{1}\times 4) = 82$, $28 + 18 + (\textcircled{1}\times 4) = 82$, $46 + (\textcircled{1}\times 4) = 82$, $\textcircled{1}\times 4 = 36$, $\textcircled{1} = 9$ (cm)입니다.

따라서 주어진 사각기둥의 밑면을 

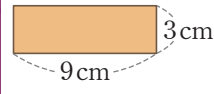
로 보면 사각기둥의 모든 모서리의 길이의 합은 $(7+3+7+3)\times 2 + (9\times 4) = 40 + 36 = 76$ (cm)입니다.

다른 풀이 1



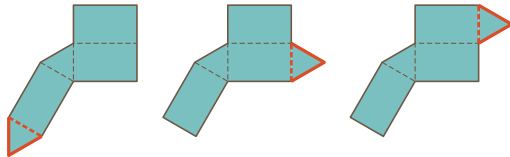
왼쪽에 그린 면을 주어진 사각기둥의 밑면으로 보면 모든 모서리의 길이의 합은 $(9+7+9+7)\times 2 + (3\times 4) = 76$ (cm)입니다.

다른 풀이 2

 3cm
9cm
왼쪽에 그린 면을 주어진 사각기둥의 밑면으로 보면 모든 모서리의 길이의 합은
 $(9 + 3 + 9 + 3) \times 2 + (7 \times 4) = 76$ (cm)입니다.

4-1 삼각기둥은 삼각형 모양 밑면이 2개, 직사각형 모양 옆면이 3개 있습니다. 주어진 전개도에는 밑면이 1개, 옆면이 3개이므로 밑면 하나를 더 그려야 합니다.

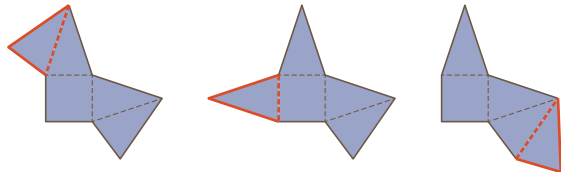
삼각형 모양의 밑면을 맞닿는 모서리의 길이가 같도록 그려 보면 다음과 같습니다.



따라서 전개도를 완성할 수 있는 방법은 모두 3가지입니다.

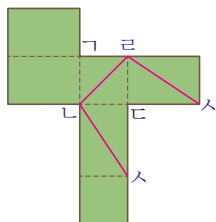
4-2 사각뿔은 사각형 모양의 밑면이 1개, 삼각형 모양의 옆면이 4개 있습니다.

주어진 전개도에는 옆면이 하나 부족하므로 옆면을 그려 넣을 수 있는 곳을 찾아봅니다.

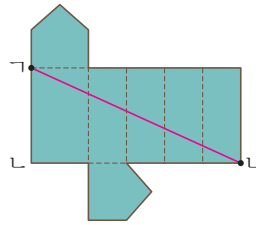


따라서 나머지 한 면을 그려 넣을 수 있는 곳은 ㉠, ㉡, ㉢입니다.

5-1 선이 지나는 꼭짓점인 점 Γ , 점 Δ , 점 Σ 를 전개도에 표시합니다. 점 Γ 과 점 Δ , 점 Γ 과 점 Σ , 점 Δ 과 점 Σ 를 각각 선분으로 연결합니다.



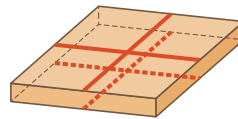
5-2 점 Γ 에서부터 점 Δ 까지 옆면 5개를 지나가도록 선분을 긋습니다.



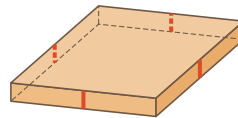
보충 개념

입체도형에서 면 위의 두 점을 잇는 가장 짧은 거리는 전개도 위의 두 점을 잇는 선분의 길이와 같습니다.

6-1



40 cm인 모서리와 길이가 같은 부분
→ 4군데



5 cm인 모서리와 길이가 같은 부분
→ 4군데

따라서 필요한 리본의 길이는

$$(40 \times 4) + (5 \times 4) = 160 + 20 = 180 \text{ (cm)입니다.}$$

해결 전략

상자의 가로, 세로, 높이의 길이가 각각 40 cm, 40 cm, 5 cm이므로 40 cm, 5 cm인 모서리와 길이가 같은 부분이 각각 몇 군데인지 알아봅니다.

6-2 두 군데에 붙일 색 테이프의 길이의 합이 40 cm이므로 한 군데에 붙일 색 테이프의 길이는 20 cm입니다. 20 cm는 한 밑면의 둘레와 같고 오각기둥의 높이는 10 cm이므로 오각기둥의 모든 모서리의 길이의 합은

$$(20 \times 2) + (10 \times 5) = 40 + 50 = 90 \text{ (cm)입니다.}$$

7-1 색칠한 면을 따라 자르면 밑면의 모양이 오각형과 사각형으로 나누어지므로 오각기둥과 사각기둥이 생깁니다.

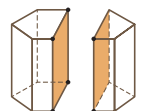
$$(\text{오각기둥의 꼭짓점의 수}) = 5 \times 2 = 10(\text{개})$$

$$(\text{사각기둥의 꼭짓점의 수}) = 4 \times 2 = 8(\text{개})$$

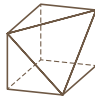
$$\begin{aligned} &\rightarrow (\text{두 각기둥의 꼭짓점 수의 합}) \\ &= 10 + 8 = 18(\text{개}) \end{aligned}$$

다른 풀이

육각기둥의 꼭짓점은 12개이고 자른 후에 새로 늘어난 꼭짓점이 6개이므로 두 각기둥의 꼭짓점의 수의 합은 18개입니다.



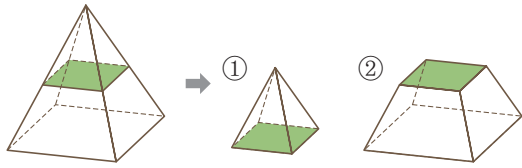
7-2 자르기 전 사각기둥의 면의 수는 6개입니다. 색칠한

부분만큼 잘라내고 남은 입체도형은  이므로

면의 수는 7개입니다.

따라서 원래 면의 수보다 $7 - 6 = 1$ (개) 더 많습니다.

7-3 밑면과 평행하게 자르면 다음 그림과 같이 두 개의 입체도형이 생깁니다.



①의 모서리의 수: $4 \times 2 = 8$ (개)

②의 모서리의 수: $4 \times 3 = 12$ (개)

→ (①과 ②의 모서리의 수의 차) = $12 - 8 = 4$ (개)

보충 개념

각뿔의 윗부분을 밑면에 평행하게 잘라 내고 남은 입체도형의 면의 수, 모서리의 수, 꼭짓점의 수는 각기둥의 면의 수, 모서리의 수, 꼭짓점의 수와 각각 같습니다.

8-1 밑면의 모양이 정육각형이므로 전개도를 접으면 육각뿔이 됩니다. 정육각형은 6개의 변의 길이가 모두 같으므로 주어진 육각뿔의 모든 모서리의 길이의 합은

$$(6 \times 6) + (9 \times 6) = 36 + 54 = 90 \text{ (cm)입니다.}$$

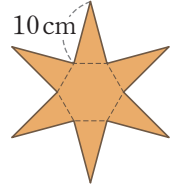
8-2 밑면의 모양이 정오각형이므로 전개도를 접으면 오각뿔이 됩니다.

정오각형은 5개의 변의 길이가 모두 같으므로 주어진 오각뿔의 모든 모서리의 길이의 합은

$$(4 \times 5) + (\textcircled{5} \times 5) = 55 \text{ (cm)이므로}$$

$$20 + \textcircled{5} \times 5 = 55, \textcircled{5} \times 5 = 35, \textcircled{5} = 7 \text{ (cm)입니다.}$$

8-3 주어진 각뿔에서 옆면의 모서리의 길이가 모두 10 cm이므로 옆면의 모서리를 모두 잘라 만든 육각뿔의 전개도는 오른쪽과 같습니다.

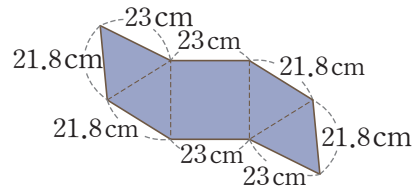


전개도의 둘레는 길이가 10 cm인 선분 12개로 이루어져 있으므로 $10 \times 12 = 120$ (cm)입니다.

보충 개념

각뿔의 옆면은 모두 이등변삼각형입니다.

9-1 서로 맞닿는 모서리의 길이는 같으므로 전개도의 모든 변의 길이는 다음과 같습니다.



→ (전개도의 둘레)

$$= 21.8 \times 4 + 23 \times 4 = 87.2 + 92$$

$$= 179.2 \text{ (cm)}$$

LEVEL UP TEST

49~53쪽

1 14개

2 30개

3 4개

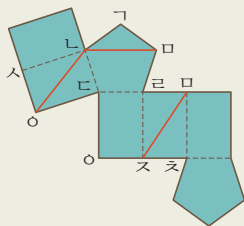
4 ⑥, ⑦

5 8 cm

6 22 cm

7 34 cm

8



9 16 cm

10 88 cm

11 7개, 12개, 7개

12 6개

13 6 cm

14 4가지

15 6개

1 41쪽 2번의 변형 심화 유형

접근 >> 주어진 설명을 읽고 어떤 입체도형인지 먼저 알아봅니다.

각뿔은 밑면이 1개이고, 옆면이 모두 한 점(각뿔의 꼭짓점)에 만나므로 각뿔입니다.
 각뿔의 밑면의 변의 수를 □개라 하면
 $(\text{면의 수}) + (\text{모서리의 수}) + (\text{꼭짓점의 수}) = (\square + 1) + (\square \times 2) + (\square + 1) = 30,$
 $\square + 1 + \square + \square + \square + 1 = 30, \square \times 4 + 2 = 30, \square \times 4 = 28, \square = 7(\text{개})$ 입니다.
 따라서 밑면의 변의 수가 7개이므로 칠각뿔이고 칠각뿔의 모서리의 수는
 $7 \times 2 = 14(\text{개})$ 입니다.

해결 전략

각뿔에서 밑면의 변의 수를 □개라 하면
 • (면의 수) = $(\square + 1)$ (개)
 • (모서리의 수) = $(\square \times 2)$ (개)
 • (꼭짓점의 수) = $(\square + 1)$ (개)

2 접근 >> 구멍 안에 4개의 면이 생깁니다.

면과 면이 만나는 선분은 모서리입니다. 사각기둥 모양으로 구멍을 뚫으면 모서리의 수가 사각기둥의 모서리의 수만큼 늘어납니다.
 육각기둥의 모서리의 수는 $6 \times 3 = 18(\text{개})$ 이고 사각기둥의 모서리의 수는
 $4 \times 3 = 12(\text{개})$ 입니다.
 따라서 입체도형에서 면과 면이 만나는 선분은 모두 $18 + 12 = 30(\text{개})$ 입니다.

보충 개념

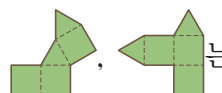
구멍을 뚫으면 한 밑면에 모서리가 각각 4개씩 생기고, 구멍 안쪽에는 모서리가 4개 생겨요.

3 43쪽 4번의 변형 심화 유형

접근 >> 전개도에 밑면과 옆면이 모두 있는지 먼저 살펴봅니다.

삼각기둥은 삼각형 모양의 밑면이 2개이고, 직사각형 모양의 옆면이 3개 있습니다.

따라서  는 삼각기둥의 전개도가 아닙니다.
 ↑ 옆면 2개 ↑ 옆면 4개

또  는 겹치는 면이 생기거나 두 밑면이 평행하지 않으므로 접어서

삼각기둥을 만들 수 없습니다.
 따라서 삼각기둥 모양이 될 수 없는 것은 4개입니다.

해결 전략

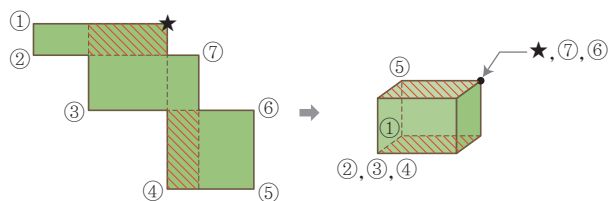
밑면과 옆면의 개수가 맞지 않거나, 접어서 겹치는 면이 생기는 전개도를 골라냅니다.

주의

밑면이 2개, 옆면이 3개 있어도 겹치는 면이 생길 수 있어요.

4 접근 >> 접었을 때 만나는 점을 생각해 봅니다.

빛금 친 두 면을 밑면으로 생각하여 전개도를 접어 사각기둥을 만들어 봅니다.



따라서 ★ 표시한 점과 만나는 점을 모두 찾으면 ⑥, ⑦입니다.

보충 개념

각기둥의 전개도를 접었을 때 맞닿는 부분의 길이는 같고 두 밑면은 합동이에요.

5 40쪽 1번의 변형 심화 유형
접근 >> 칠각기둥에서 높리와 길이가 같은 모서리는 7개입니다.

(각기둥의 모든 모서리의 길이의 합)
 = (한 밑면의 둘레) × 2 + (높이) × (한 밑면의 변의 수)이므로
 (한 밑면의 둘레) × 2 + 9 × 7 = 175, (한 밑면의 둘레) × 2 + 63 = 175,
 (한 밑면의 둘레) × 2 = 112, (한 밑면의 둘레) = 112 ÷ 2 = 56 (cm)입니다.
 따라서 정칠각형의 둘레가 56 cm이므로 밑면의 한 변의 길이는
 56 ÷ 7 = 8 (cm)입니다.

보충 개념

밑면의 모양이 정칠각형이므로 밑면의 한 변의 길이는 모두 같아요.

서술형 6 접근 >> 길이가 주어진 선분과 맞닿는 선분의 길이를 생각해 봅시다.

예) (면 ㉑의 넓이) = (선분 가ㅎ) × (선분 가ㄴ) = 4 × (선분 가ㄴ) = 36이므로
 (선분 가ㄴ) = 9 cm입니다.
 (면 ㉒의 넓이) = (선분 흥ㅋ) × (선분 흥ㄷ) = (선분 흥ㅋ) × 9 = 63이므로
 (선분 흥ㅋ) = 7 cm입니다.
 (선분 ㅋㅅ) = (선분 가ㅎ) = 4 cm, (선분 ㅅㅈ) = (선분 흥ㅋ) = 7 cm이므로
 (선분 가ㅈ) = 4 + 7 + 4 + 7 = 22 (cm)입니다.

보충 개념

(선분 가ㅎ) = (선분 표ㅎ)
 = (선분 ㅌㅋ) = (선분 ㅋㅅ)
 = 4 cm

채점 기준	배점
직사각형의 넓이를 이용하여 선분 가ㄴ과 선분 흥ㅋ의 길이를 구할 수 있나요?	3점
선분 가ㅈ의 길이를 구할 수 있나요?	2점

7 42쪽 3번의 변형 심화 유형
접근 >> 전개도를 접으면 선분 가ㄴ이 각기둥의 높리가 됩니다.

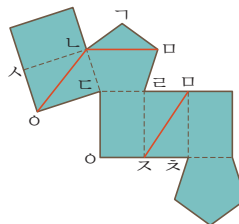
주어진 전개도를 접으면 밑면이 정육각형인 육각기둥이 됩니다. 육각기둥의 높이를 □ cm라 하면 모든 모서리의 길이의 합은 (3 × 6) × 2 + (□ × 6) = 84이므로
 36 + (□ × 6) = 84, □ × 6 = 48, □ = 8 (cm)입니다.
 (선분 가ㄴ) = (선분 나ㄷ) = 8 cm이고 (선분 가ㄴ) = (선분 ㄹㄷ) = 3 × 3 = 9 (cm)
 이므로 사각형 가ㄴㄷㄹ의 둘레는 8 + 9 + 8 + 9 = 34 (cm)입니다.

해결 전략

모서리의 길이의 합과 밑면의 둘레를 이용하여 각기둥의 높이를 구하면, 사각형 가ㄴㄷㄹ의 둘레를 구할 수 있어요.

8 44쪽 5번의 변형 심화 유형
접근 >> 그 선이 지나는 꼭짓점을 전개도에서 모두 찾아봅시다.

선이 지나는 꼭짓점인 점 나, 점 모, 점 ㅇ, 점 ㅈ을 전개도에 표시합니다.
 점 나과 점 모, 점 나과 점 ㅇ, 점 모과 점 ㅈ을 각각 선분으로 연결합니다.



주의

전개도에서는 떨어져 있어도, 접었을 때 만나는 점은 모두 같은 기호로 표시해요.

9 접근 » 먼저 사각기둥의 모든 모서리의 길이의 합이 몇 cm인지 알아봅시다.

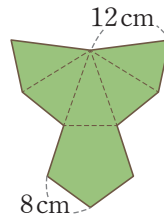
사각기둥의 꼭짓점은 8개이고 꼭짓점마다 철사가 2 cm씩 쓰였으므로 꼭짓점에서 연결하는 데 쓰인 철사의 길이는 모두 $2 \times 8 = 16$ (cm)입니다. 철사가 모두 168 cm 쓰였으므로 사각기둥의 모든 모서리의 길이의 합은 $168 - 16 = 152$ (cm)입니다. 밑면의 한 변의 길이는 11 cm이므로 높이를 □cm라 하면 $(11 \times 4) \times 2 + (\square \times 4) = 152$, $88 + (\square \times 4) = 152$, $\square \times 4 = 64$, $\square = 64 \div 4 = 16$ (cm)입니다.

주의

연결한 꼭짓점 부분에 쓰인 철사의 길이를 빼고 생각해야 해요.

10 접근 » 어느 모서리를 자르는가에 따라 전개도의 모양과 둘레가 달라집니다.

둘레가 가장 짧도록 전개도를 그리면 오른쪽과 같습니다. 전개도의 둘레에서 8 cm인 부분은 8군데이고, 12 cm인 부분은 2군데입니다. 따라서 전개도의 둘레는 $(8 \times 8) + (12 \times 2) = 64 + 24 = 88$ (cm)입니다.



해결 전략

전개도의 둘레에 길이가 12 cm인 모서리가 최대한 적게 오도록 해야 전개도의 둘레가 짧아지므로, 길이가 8 cm인 모서리를 잘라서 전개도를 그려야 해요.

11 접근 » 전개도를 접어서 각각 어떤 도형이 만들어지는지 알아봅시다.

㉠을 접어 만든 입체도형은 삼각뿔이고 ㉡을 접어 만든 입체도형은 삼각기둥이므로 ㉠과 ㉡의 빗금 친 부분을 만나게 붙이면 오른쪽과 같은 모양이 됩니다.

따라서 붙여 만든 입체도형의 면의 수는 7개, 모서리의 수는 12개, 꼭짓점의 수는 7개입니다.

다른 풀이

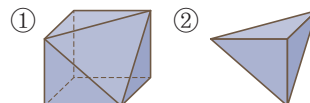
삼각뿔의 면의 수는 4개, 모서리의 수는 6개, 꼭짓점의 수는 4개이고, 삼각기둥의 면의 수는 5개, 모서리의 수는 9개, 꼭짓점의 수는 6개입니다. 두 면을 붙인 입체도형은 붙이기 전보다 면의 수는 2개, 모서리의 수는 3개, 꼭짓점의 수는 3개 줄어듭니다. 따라서 붙여 만든 입체도형의 면의 수는 $4 + 5 - 2 = 7$ (개), 모서리의 수는 $6 + 9 - 3 = 12$ (개), 꼭짓점의 수는 $4 + 6 - 3 = 7$ (개)입니다.

주의

빗금 친 두 면끼리 만나게 붙이면 빗금 친 면은 없어져요.

12 46쪽 7번의 변형 심화 유형 접근 » 잘라서 생긴 두 입체도형의 겨냥도를 그려 봅시다.

면 ㄱ나을 따라 자르면 오른쪽 그림과 같은 두 개의 입체도형이 생깁니다. ①의 모서리의 수는 12개이고 ②는 삼각뿔이므로 모서리의 수는 $3 \times 2 = 6$ (개)입니다. 따라서 두 입체도형의 모서리의 수의 차는 $12 - 6 = 6$ (개)입니다.



보충 개념

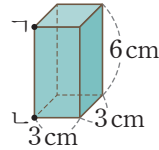
주어진 삼각뿔 모양만큼 자르면 ①의 면의 수는 1개 늘어나고, 모서리의 수는 변함이 없어요.

다른 풀이

두 입체도형에서 공통인 모서리 ㄱ, ㄴ, ㄷ을 제외한 모서리의 수의 차를 구합니다.
 → (두 입체도형의 모서리의 수의 차) = $9 - 3 = 6$ (개)

13 접근 » 전개도를 접었을 때의 겨냥도를 그려 봅니다.

사각기둥의 전개도를 접어 사각기둥을 만들면 오른쪽과 같습니다.
 이 사각기둥의 높이는 6cm이므로 두 점 사이의 거리는 6cm입니다.

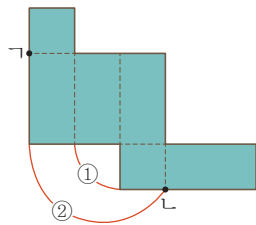


주의

전개도에서 두 점 사이의 거리를 구하지 않도록 해요.

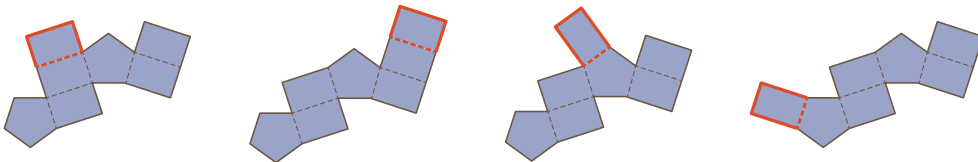
지도 가이드

2차원의 전개도만 보고 3차원의 입체도형을 한 번에 상상하는 건 쉽지 않습니다. 머릿속으로 맞닿는 선분을 하나씩 붙여나가며 모든 면이 연결된 입체도형으로 만드는 훈련이 필요합니다. 접었을 때 만나게 되는 꼭짓점끼리 선으로 연결하면 실수를 줄일 수 있습니다. 먼저 가장 가까이 있는 점 중 만나는 두 점을 연결하면(①), 연결한 두 점과 이웃하는 다른 두 점끼리도 만나는 것을 쉽게 알 수 있습니다.(②)



14 43쪽 4번의 변형 심화 유형 접근 » 전개도에서 밑면과 옆면의 개수를 확인해 봅니다.

오각기둥은 밑면이 2개, 옆면이 5개 있습니다. 주어진 전개도에는 밑면이 2개, 옆면이 4개이므로 옆면 하나를 더 그려야 합니다.
 옆면을 맞닿는 모서리의 길이가 같게 그려 보면 다음과 같습니다.



따라서 전개도를 완성할 수 있는 방법은 모두 4가지입니다.

해결 전략

주어진 전개도의 둘레를 따라 옆면 1개가 놓일 수 있는 위치를 찾아봐요.

경시
기출
문제

15 접근 » 꼭짓점 한 군데를 자를 때마다 새로운 꼭짓점, 모서리, 면이 생깁니다.

자른 꼭짓점에 3개의 면이 모여 있으므로 한 번 자를 때 꼭짓점의 수는 1개 줄어들고, 3개 늘어납니다. 즉 한 번 자를 때 꼭짓점이 2개씩 늘어납니다. 따라서 세 꼭짓점을 잘라내면 잘라내고 남은 입체도형의 꼭짓점의 수는 잘라내기 전보다 $2 \times 3 = 6$ (개) 더 많습니다.

다른 풀이

잘라내고 남은 입체도형의 꼭짓점의 수는 12개이고, 자르기 전 삼각기둥의 꼭짓점의 수는 6개이므로 그 차는 $12 - 6 = 6$ (개)입니다.

해결 전략

꼭짓점 부분을 잘라낼 때 꼭짓점이 몇 개씩 생기는지를 따져 봐요.

없어지는 꼭짓점: 1개

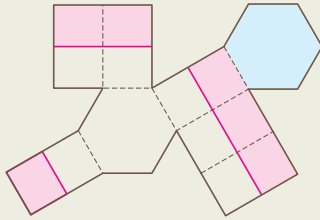


생기는 꼭짓점: 3개

1 435 cm

2 ㉠

3



4 51 cm

5 10개

6 288 cm²

7 이십사각기둥

8 풀이 참조

9 5 cm

서술형

1 접근 » 먼저 어떤 입체도형인지 알아봅니다.

예 옆면의 모양이 모두 직사각형인 입체도형은 각기둥입니다.
 (각기둥의 꼭짓점의 수) = (한 밑면의 변의 수) × 2 = 30이므로
 (한 밑면의 변의 수) = 30 ÷ 2 = 15(개)입니다.
 따라서 이 입체도형은 십오각기둥이고, 밑면의 한 변의 길이는 모두 9 cm이므로 모
 든 모서리의 길이의 합을 구하면
 (9 × 15) × 2 + (11 × 15) = 270 + 165 = 435 (cm)입니다.

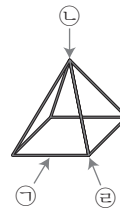
보충 개념

밑면의 모양이 정다각형이고 옆면의 가로가 9 cm이므로 밑면의 한 변의 길이는 모두 9 cm예요.

채점 기준	배점
어떤 입체도형인지 알 수 있나요?	2점
모든 모서리의 길이의 합을 구할 수 있나요?	3점

2 접근 » 사각뿔의 모서리가 모두 보일 때, 여러 방향에서 본 모양을 생각해 봅니다.

㉠, ㉡, ㉢은 밑면의 모양이 정사각형인 사각뿔을 각각 화살표 방향에서 본 모양을 그린 것입니다.
 ㉣은 밑면의 모양이 정삼각형인 삼각뿔을 위에서 본 모양이므로 잘못 그렸습니다.



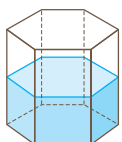
주의

철사로 만든 사각뿔은 바라보는 방향에서 뒤쪽에 있는 모서리도 보여요.

지도 가이드

옆면의 모양이 삼각형인 것만 보고 답을 ㉣으로 생각할 수 있습니다. 각뿔의 옆면은 삼각형 모양이고 각뿔의 이름은 밑면의 모양에 따라 결정된다는 것을 알려주세요. 정사각뿔의 밑면은 정사각형이므로 위에서 내려다 보면 ㉠과 같은 형태가 보입니다.

3 44쪽 5번의 변형 심화 유형
접근 » 물에 닿은 부분이 전개도에서 어느 부분인지 생각해 봅니다.



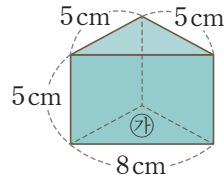
통의 절반만큼 물을 채웠으므로 육각형 모양의 한 밑면 전체와 모든 옆면의 절반만큼이 물감으로 칠해집니다. 따라서 옆면을 반으로 나눴을 때, 물감을 칠한 밑면 쪽 절반을 색칠합니다.

해결 전략

전개도에서 물이 닿은 한 밑면과, 그 면의 각 변과 맞닿은 옆면을 찾아봐요.

4 접근 >> 밑면의 모양이 삼각형이고, 옆면의 모양이 직사각형인 입체도형을 생각해 봅시다.

㉠ 모양 2장과 ㉡ 모양 2장, ㉢ 모양 1장을 모두 사용하여 오른쪽 그림과 같이 ㉣를 밑면으로 하고 높이가 5cm인 삼각기둥을 만들 수 있습니다.



해결 전략

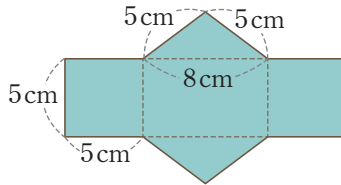
길이가 같은 부분끼리 맞닿도록 종이를 붙여 삼각기둥을 만들어요.

따라서 모든 모서리의 길이의 합은

$$(8 + 5 + 5) \times 2 + (5 \times 3) = 36 + 15 = 51 \text{ (cm)입니다.}$$

지도 가이드

주어진 종이를 모두 사용하여 만든 입체도형을 곧바로 떠올리기는 어렵습니다. 5장의 종이를 직접 오려서 붙여볼 수 없다면, 길이가 같은 부분끼리 맞닿도록 전개도를 그려 보는 것도 좋은 방법입니다.



5 45쪽 7번의 변형 심화 유형 접근 >> 잘라서 생긴 두 입체도형의 겨냥도를 그려 봅시다.

각뿔을 밑면과 평행하게 자르면 각뿔 하나와, 두 밑면의 크기가 다르고 옆면의 모양이 사다리꼴인 각뿔대 하나로 나누어집니다. 둘 중 면의 수가 더 많은 것은 각뿔대입니다. 각뿔대의 밑면의 변의 수를 □개라 하면 각뿔대의 모서리의 개수가 15개이므로 $\square \times 3 = 15$, $\square = 5$ (개)로, 각뿔의 밑면의 모양은 오각형입니다.

따라서 나머지 입체도형은 오각뿔이므로 모서리의 수는 $5 \times 2 = 10$ (개)입니다.

보충 개념 1

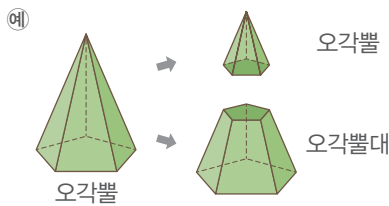
- 오각뿔의 면의 수: 6개
- 오각뿔대의 면의 수: 7개

보충 개념 2

- 각뿔대의 모서리의 수는
- 각기둥의 모서리의 수와 같아요.

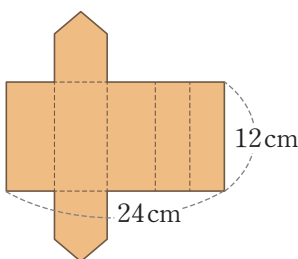
지도 가이드

각뿔을 밑면과 평행하게 자르면 다음과 같이 각뿔대가 만들어집니다.



각뿔대는 중등에서 본격적인 학습을 하게 되므로 용어를 사용하지 않더라도 각뿔대의 모양을 살펴보고 □각뿔대와 □각기둥의 면의 수, 모서리의 수, 꼭짓점의 수가 각각 같음을 알 수 있게 지도해 주세요.

6 접근 >> 주어진 각기둥의 한 밑면의 둘레를 구해 봅시다.



각기둥의 모든 모서리의 길이의 합이 108 cm이므로

$$(\text{한 밑면의 둘레}) \times 2 + 12 \times 5 = 108,$$

$$(\text{한 밑면의 둘레}) \times 2 + 60 = 108,$$

$$(\text{한 밑면의 둘레}) \times 2 = 48,$$

$$(\text{한 밑면의 둘레}) = 24 \text{ cm입니다.}$$

각기둥의 옆면의 넓이는 $24 \times 12 = 288 \text{ (cm}^2\text{)}$ 입니다.

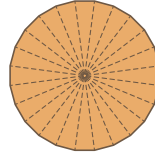
따라서 필요한 포장지의 넓이는 적어도 288 cm^2 입니다.

해결 전략

$$\begin{aligned} & (\text{각기둥의 옆면의 넓이}) \\ &= (\text{한 밑면의 둘레}) \times (\text{높이}) \end{aligned}$$

7 접근 >> 한 바퀴는 360°입니다.

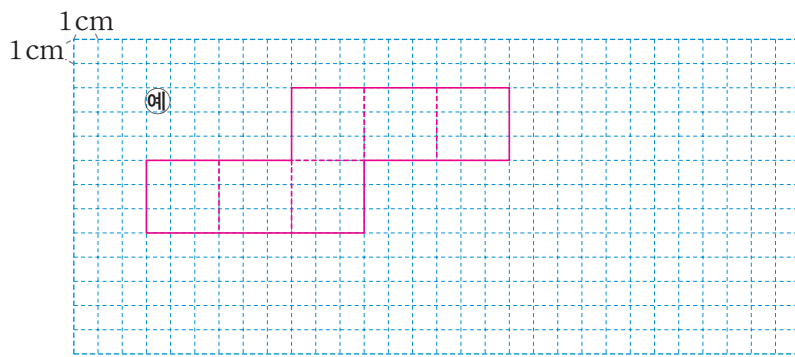
한 바퀴는 360°이고 $360^\circ \div 15^\circ = 24$ 입니다. 즉 밑면의 한 각의 크기가 15°인 삼각기둥을 오른쪽 그림과 같이 한 바퀴 이어 붙이려면 24개의 삼각기둥이 필요합니다. 따라서 24개의 삼각기둥을 이어 붙이면 밑면은 이십사각형이 되므로 만들어진 입체도형은 이십사각기둥입니다.



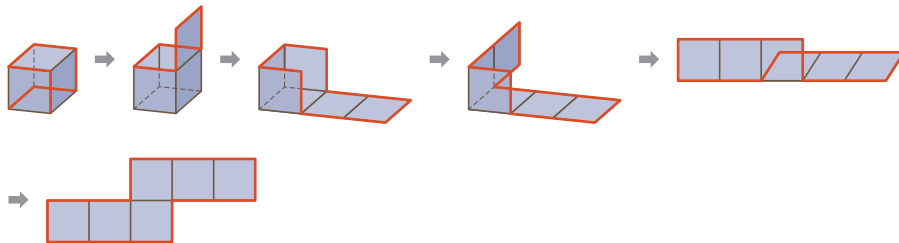
해결 전략

한 바퀴를 이어 붙이려면 삼각기둥이 몇 개 필요한지 알아봐요.

8 접근 >> 잘랐을 때 6개의 면이 어떻게 연결되어 있는지 그려 봅시다.



빨간색 모서리를 따라 자르면 다음과 같이 펼쳐집니다.



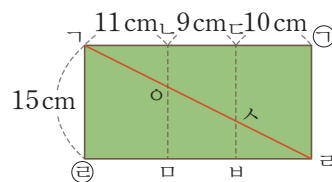
해결 전략

한 모서리씩 잘라가며, 펼쳤을 때의 모양을 차례로 생각해 봐요.

9 44쪽 5번의 변형 심화 유형 접근 >> 주어진 삼각기둥의 옆면을 직사각형 모양의 전개도로 나타내 봅시다.

연결한 선의 길이가 가장 짧을 경우의 옆면의 전개도에 선을 나타내면 오른쪽과 같습니다. 선분 ㉔ 의 길이 10cm는 선분 ㉓ 의 길이 30cm를 삼등분한 것 중의 하나이고, 사각형 ㉒ 은 사각형 ㉑ 을 삼등분한 것 중의 하나와 같습니다.

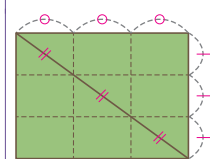
따라서 선분 ㉒ 은 높이 15cm의 $\frac{1}{3}$ 인 5cm입니다.



해결 전략

입체도형의 겉면을 따라 두 점을 잇는 가장 짧은 거리는 전개도 위의 두 점을 잇는 선분의 길이와 같아요.

보충 개념



3 소수의 나눗셈

◎ BASIC TEST

1 (소수) ÷ (자연수) (1) 61쪽

- 1 (1) 25.1, 2.51 (2) 5.2, 0.52
 2 864, 288, 2.88 3 ㉠, ㉡, ㉢
 4 5.13 L 5 2.96 cm
 6 0.49 kg

1 나누는 수가 같을 때, 나누어지는 수가 $\frac{1}{10}$ 배가 되면 몫도 $\frac{1}{10}$ 배가 되고, 나누어지는 수가 $\frac{1}{100}$ 배가 되면 몫도 $\frac{1}{100}$ 배가 됩니다.

2 ■의 $\frac{1}{100}$ 배가 8.64이므로 ■는 864입니다.
 $864 \div 3 = 288$ 이고, 나누어지는 수 864가 $\frac{1}{100}$ 배가 되면 몫 288도 $\frac{1}{100}$ 배가 됩니다.
 → $8.64 \div 3 = 2.88$
 따라서 ■ = 864, ▲ = 288, ★ = 2.88입니다.

- 3 ㉠ $\begin{array}{r} 4.5 \\ 7 \overline{) 31.5} \\ \underline{28} \\ 35 \\ \underline{35} \\ 0 \end{array}$ ㉡ $\begin{array}{r} 0.46 \\ 13 \overline{) 5.98} \\ \underline{52} \\ 78 \\ \underline{78} \\ 0 \end{array}$ ㉢ $\begin{array}{r} 4.25 \\ 5 \overline{) 21.25} \\ \underline{20} \\ 12 \\ \underline{10} \\ 25 \\ \underline{25} \\ 0 \end{array}$

→ $4.5 > 4.25 > 0.46$ 이므로 몫이 큰 것부터 차례대로 기호를 쓰면 ㉠, ㉢, ㉡입니다.

4 15분 동안 76.95 L의 물이 나오므로 1분 동안 나오는 물의 양은 $76.95 \div 15 = 5.13$ (L)입니다.
 5 평행사변형의 밑변이 4 cm, 높이가 □ cm이므로 넓이는 $4 \times \square = 11.84$ 입니다.
 따라서 $\square = 11.84 \div 4 = 2.96$ (cm)입니다.

보충 개념
 (평행사변형의 넓이) = (밑변) × (높이)이므로
 (높이) = (넓이) ÷ (밑변)입니다.

6 $200 \text{ g} = 0.2 \text{ kg}$ 이므로 밥을 짓고 남은 쌀은 $6.08 - 0.2 = 5.88$ (kg)입니다.
 남은 쌀을 12개의 봉투에 나누어 담았으므로 봉투 하나에 담은 쌀의 양은 $5.88 \div 12 = 0.49$ (kg)입니다.

보충 개념
 $1 \text{ g} = 0.001 \text{ kg}$ 이므로 $200 \text{ g} = 0.2 \text{ kg}$ 입니다.

2 (소수) ÷ (자연수) (2) 63쪽

- 1 (위에서부터) 1060, 265 / 2.65
 2 $\begin{array}{r} 8.06 \\ 5 \overline{) 40.3} \\ \underline{40} \\ 30 \\ \underline{30} \\ 0 \end{array}$ 3 ㉠, ㉡
 4 0.965 5 11.55 cm
 6 0.7 mm

1 $106 \div 4$ 는 나누어떨어지지 않으므로 $1060 \div 4$ 로 계산합니다.

보충 개념
 나누는 수가 같을 때, 나누어지는 수가 $\frac{1}{100}$ 배가 되면 몫도 $\frac{1}{100}$ 배가 됩니다.

2 나누어떨어지지 않는 경우 몫에 0을 쓴 다음 소수의 오른쪽 끝자리에 0이 계속 있는 것으로 생각하고 0을 내려 계산합니다.

- 3 ㉠ $\begin{array}{r} 2.23 \\ 14 \overline{) 31.22} \\ \underline{28} \\ 32 \\ \underline{28} \\ 42 \\ \underline{42} \\ 0 \end{array}$ ㉡ $\begin{array}{r} 0.095 \\ 8 \overline{) 0.760} \\ \underline{72} \\ 40 \\ \underline{40} \\ 0 \end{array}$
 ㉢ $\begin{array}{r} 6.02 \\ 15 \overline{) 90.30} \\ \underline{90} \\ 30 \\ \underline{30} \\ 0 \end{array}$ ㉣ $\begin{array}{r} 17.8 \\ 3 \overline{) 53.4} \\ \underline{3} \\ 23 \\ \underline{21} \\ 24 \\ \underline{24} \\ 0 \end{array}$

4 (어떤 수) × 4 = 3.86

→ (어떤 수) = 3.86 ÷ 4 = 0.965

$$\begin{array}{r} 0.965 \\ 4 \overline{) 3.860} \\ \underline{36} \\ 26 \\ \underline{24} \\ 20 \\ \underline{20} \\ 0 \end{array}$$

5 끈을 3번 자르면 모두 4도막이 됩니다.

따라서 끈 한 도막의 길이는

46.2 ÷ 4 = 11.55 (cm)입니다.

보충 개념

끈을 ■번 자르면 (■ + 1)도막이 됩니다.

6 1시간은 60분이므로 1분 동안 탄 양초의 길이는

4.2 ÷ 60 = 0.07 (cm) = 0.7 (mm)입니다.

보충 개념

1 cm = 10 mm이므로 0.07 cm = 0.7 mm입니다.

3 (자연수) ÷ (자연수), 몫을 어렵하기

65쪽

1 (1) 7.5 / 0.75 (2) 22.5 / 2.25

2 (1) 81 ÷ 5 = 16.2에 ○표
(2) 8.82 ÷ 3 = 2.94에 ○표

3 6.25 cm

4 6.5 ÷ 5 / 65 ÷ 50 / 65 ÷ 10 ○표

5 3분 45초 6 10

1 나누는 수가 같을 때, 나누어지는 수가 $\frac{1}{10}$ 배가 되면 몫도 $\frac{1}{10}$ 배가 되고, 나누어지는 수가 $\frac{1}{100}$ 배가 되면 몫도 $\frac{1}{100}$ 배가 됩니다.

2 (1) 80 ÷ 5 = 16이므로 81 ÷ 5의 몫은 16으로 어렵 할 수 있습니다. 주어진 몫 중 16과 가장 가까운 값은 16.2입니다.

(2) 9 ÷ 3 = 3이므로 8.82 ÷ 3의 몫은 3으로 어렵 할 수 있습니다. 주어진 몫 중 3과 가장 가까운 값은

2.94입니다.

3 도형의 둘레는 정삼각형의 한 변의 길이의 8배와 같습니다. 도형의 둘레가 50 cm이므로 정삼각형의 한 변의 길이는 50 ÷ 8 = 6.25 (cm)입니다.

4 나누어지는 수가 나누는 수보다 크면 몫이 1보다 큼니다. 따라서 몫이 1보다 큰 식은 6.5 ÷ 5, 65 ÷ 50, 65 ÷ 10입니다.

보충 개념

6.5 ÷ 5 = 1.3
65 ÷ 50 = 1.3
65 ÷ 10 = 6.5

5 채연이의 시계는 12일 동안 45분 늦어지므로 하루에 45 ÷ 12 = 3.75(분)씩 늦어집니다.

→ 3.75분 = 3 $\frac{75}{100}$ 분 = 3 $\frac{3}{4}$ 분 = 3 $\frac{45}{60}$ 분
= 3분 45초

보충 개념

1분 = 60초이므로 $\frac{■}{60}$ 분은 ■초입니다.

6 12 ÷ 5 = 2.4이고 282 ÷ 40 = 7.05입니다. 2.4 < □ < 7.05이므로 □ 안에 들어갈 수 있는 자연수는 3, 4, 5, 6, 7입니다. 가장 작은 자연수는 3이고, 가장 큰 자연수는 7이므로 두 수의 합은 3 + 7 = 10입니다.

MATH TOPIC	MATH TOPIC			66~73쪽	
1-1	10.38	1-2	3.32	1-3	33.5
2-1	8 cm	2-2	25.6 cm	2-3	6.9 cm
3-1	24.4	3-2	4.375		
4-1	10.8 cm ²	4-2	350 cm ²	4-3	1.5 cm
5-1	220 cm	5-2	5.15 m		
6-1	16.75 km	6-2	67.5 m	6-3	101 m
7-1	오후 4시 17분 30초	7-2	오전 10시 55분		
7-3	오후 1시 24분 12초				
심화 8	20, 10.2 / 11, 87.4 / 87.4, 148580 / 148580				
8-1	16240원				

- 1-1 어떤 수를 □라 하면 $\square \times 4 = 166.08$ 이므로
 $\square = 166.08 \div 4 = 41.52$ 입니다.
 어떤 수는 41.52이므로 바르게 계산한 몫은
 $41.52 \div 4 = 10.38$ 입니다.
- 1-2 어떤 수를 □라 하면 $16.6 + \square = 21.6$ 이므로
 $\square = 21.6 - 16.6 = 5$ 입니다.
 어떤 수는 5이므로 바르게 계산한 몫은
 $16.6 \div 5 = 3.32$ 입니다.
- 1-3 어떤 수를 □라 하면 $\square \div 21 = 19 \cdots 3$ 이므로
 $\square = 21 \times 19 + 3 = 402$ 입니다.
 어떤 수는 402이므로 바르게 계산한 몫은
 $402 \div 12 = 33.5$ 입니다.
- 2-1 모눈 한 칸의 길이를 단위길이라고 생각합니다.
 빨간색 직사각형의 둘레는 모눈 한 칸의 길이의 12
 배와 같으므로 모눈 한 칸의 길이는
 $9.6 \div 12 = 0.8$ (cm)입니다.
 보라색 직사각형의 둘레는 모눈 한 칸의 길이의 10
 배이므로 보라색 직사각형의 둘레는
 $0.8 \times 10 = 8$ (cm)입니다.
- 2-2 정사각형의 한 변의 길이의 반만큼을 단위길이라고
 생각합니다.
 전체 도형의 둘레는 단위길이의 20배와 같으므로
 단위길이는 $64 \div 20 = 3.2$ (cm)입니다.
 정사각형 한 개의 둘레는 단위길이의 8배이므로 정
 사각형의 둘레는 $3.2 \times 8 = 25.6$ (cm)입니다.
- 2-3 선분 \overline{AB} 은 원의 반지름의 6배와 같으므로 원의
 반지름은 $20.7 \div 6 = 3.45$ (cm)입니다.
 원의 지름은 반지름의 2배이므로 원의 지름은
 $3.45 \times 2 = 6.9$ (cm)입니다.
- 3-1 나누어지는 수가 클수록, 나누는 수가 작을수록 나
 몫셈의 몫이 커집니다.
 나누는 수는 가장 작은 수이어야 하므로 4입니다.
 나누어지는 수는 나머지 수 7, 9, 6으로 만들 수 있
 는 가장 큰 소수 한 자리 수이어야 하므로 97.6입
 니다.

따라서 가장 큰 몫은 $97.6 \div 4 = 24.4$ 입니다.

- 3-2 나누는 수는 가장 큰 수이어야 하므로 8입니다.
 나누어지는 수는 가장 작은 두 자리 수이어야 하
 로 35입니다.
 따라서 가장 작은 몫은 $35 \div 8 = 4.375$ 입니다.

- 4-1 가장 큰 직사각형의 세로는
 $26.8 \div 2 - 8 = 13.4 - 8 = 5.4$ (cm)이므로
 가장 큰 직사각형의 넓이는 $8 \times 5.4 = 43.2$ (cm²)
 입니다.
 색칠한 부분의 넓이는 가장 큰 직사각형의 넓이를
 4등분 한 것 중 하나이므로
 $43.2 \div 4 = 10.8$ (cm²)입니다.

다른 풀이

$$\begin{aligned} \text{(가장 큰 직사각형의 세로)} &= 26.8 \div 2 - 8 \\ &= 13.4 - 8 = 5.4 \text{ (cm)} \\ \text{(색칠한 부분의 가로)} &= 8 \div 2 = 4 \text{ (cm)} \\ \text{(색칠한 부분의 세로)} &= 5.4 \div 2 = 2.7 \text{ (cm)} \\ \Rightarrow \text{(색칠한 부분의 넓이)} &= 4 \times 2.7 = 10.8 \text{ (cm}^2\text{)} \end{aligned}$$

- 4-2 삼각형 $\triangle ABC$ 의 밑변을 32 cm, 높이를 □cm라
 하면, 삼각형 $\triangle ABC$ 의 넓이는
 $32 \times \square \div 2 = 200$,
 $\square = 200 \times 2 \div 32 = 12.5$ (cm)입니다.
 따라서 사다리꼴 $ABCD$ 의 넓이는
 $(24 + 32) \times 12.5 \div 2 = 350$ (cm²)입니다.

보충 개념

$$\text{(사다리꼴의 넓이)} = ((\text{윗변}) + (\text{아랫변})) \times (\text{높이}) \div 2$$

다른 풀이

$$\begin{aligned} \text{삼각형 } \triangle ABC \text{와 삼각형 } \triangle BCD \text{의 높이가 같고 밑변이} \\ \text{각각 } 32 \text{ cm, } 24 \text{ cm이므로} \\ \text{(삼각형 } \triangle BCD \text{의 넓이)} \\ &= (\text{삼각형 } \triangle ABC \text{의 넓이}) \times \frac{24}{32} \\ &= 200 \times \frac{3}{4} = 150 \text{ (cm}^2\text{)} \text{입니다.} \\ \Rightarrow \text{(사다리꼴 } ABCD \text{의 넓이)} &= 200 + 150 = 350 \text{ (cm}^2\text{)} \end{aligned}$$

- 4-3 (처음 직사각형의 넓이) = $15 \times 23.4 = 351$ (cm²)
 새로 그린 직사각형의 넓이는 처음 직사각형과 같
 아야 하고, 세로는 $23.4 + 2.6 = 26$ (cm)입니다.
 (새로 그린 직사각형의 넓이) = (가로) $\times 26 = 351$,

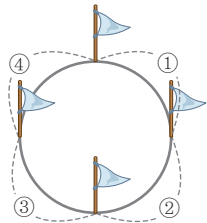
(가로) = $351 \div 26 = 13.5$ (cm)
 따라서 가로는 처음 직사각형보다
 $15 - 13.5 = 1.5$ (cm) 짧게 그려야 합니다.

5-1 양초 30개를 같은 간격으로 놓으면 양초 사이의 간격은 $30 - 1 = 29$ (군데) 생깁니다.
 따라서 양초 사이의 간격은
 $63.8 \div 29 = 2.2$ (m)입니다.
 $1 \text{ m} = 100 \text{ cm}$ 이므로 $2.2 \text{ m} = 220 \text{ cm}$ 입니다.

5-2 연못의 둘레에 깃발 40개를 같은 간격으로 꽂으면 깃발과 깃발 사이의 간격은 40군데 생깁니다.
 따라서 깃발과 깃발 사이의 간격은
 $206 \div 40 = 5.15$ (m)입니다.

주의

맞닿은 길의 둘레에 깃발 \blacksquare 개를 꽂으면 깃발 사이의 간격은 \blacksquare 군데입니다.



깃발 4개를 꽂으면 간격이 4군데 생깁니다.

6-1 한 시간에 67 km를 가므로 30분 동안에는
 $67 \div 2 = 33.5$ (km)만큼 갑니다.
 33.5 km 를 자전거로 2시간 만에 가려면 자전거로
 한 시간에 $33.5 \div 2 = 16.75$ (km)를 가야 합니다.

6-2 1분에 90 m씩 걷는 빠르기로 공원 산책로를 한 바퀴 도는 데
 $10 \text{ 분 } 30 \text{ 초} = 10 \frac{30}{60} \text{ 분} = 10 \frac{1}{2} \text{ 분} = 10.5 \text{ 분}$
 이 걸렸으므로 공원 산책로의 거리는
 $90 \times 10.5 = 945$ (m)입니다.
 선규가 945 m를 걷는 데 14분이 걸렸으므로 선규가 1분 동안 걷는 거리는 $945 \div 14 = 67.5$ (m)입니다.

보충 개념

1분은 60초이므로 \blacksquare 분 \blacktriangle 초를 대분수로 나타내면
 $\blacksquare \frac{\blacktriangle}{60}$ 분입니다.

6-3 하랑이는 3분 동안 482.4 m씩 걸으므로 하랑이가 1분 동안 걷는 거리는 $482.4 \div 3 = 160.8$ (m)입니다.

수아는 5분 동안 753.5 m씩 걸으므로 수아가 1분 동안 걷는 거리는 $753.5 \div 5 = 150.7$ (m)입니다.
 하랑이는 1분 동안 160.8 m씩 걸으므로 10분 동안 $160.8 \times 10 = 1608$ (m)를 걷고, 수아는 1분 동안 150.7 m씩 걸으므로 10분 동안 $150.7 \times 10 = 1507$ (m)를 걷습니다.
 따라서 출발한 지 10분 후에 두 사람 사이의 거리는 $1608 - 1507 = 101$ (m)입니다.

다른 풀이

(하랑이가 1분 동안 걷는 거리) = $482.4 \div 3 = 160.8$ (m),
 (수아가 1분 동안 걷는 거리) = $753.5 \div 5 = 150.7$ (m)
 이므로 출발한 지 1분 후에 두 사람 사이의 거리는
 $160.8 - 150.7 = 10.1$ (m)입니다.
 따라서 출발한 지 10분 후에 두 사람 사이의 거리는
 $10.1 \times 10 = 101$ (m)입니다.

7-1 일주일(7일) 동안 24.5분씩 빨라지므로 하루에
 $24.5 \div 7 = 3.5$ (분)씩 빨라집니다.
 하루에 3.5분씩 빨라지므로 5일 동안은
 $3.5 \times 5 = 17.5$ (분) 빨라집니다.
 5일 동안 17.5분 = 17분 30초 빨라지므로 5일 뒤 오후 4시에 이 시계가 가리키는 시각은 오후 4시 17분 30초입니다.

보충 개념

빨라지는 시계는 정확한 시각에서 빨라진 시간만큼 더 지난 시각을 가리킵니다.

7-2 16일 동안 20분씩 느려지므로 하루에
 $20 \div 16 = 1.25$ (분)씩 느려집니다.
 월요일 오전 11시부터 그 주 금요일 오전 11시까지 4일입니다. 하루에 1.25분씩 느려지므로 4일 동안은 $1.25 \times 4 = 5$ (분) 느려집니다.
 따라서 그 주 금요일 오전 11시에 이 시계가 가리키는 시각은 오전 10시 55분입니다.

보충 개념

느려지는 시계는 정확한 시각에서 느려진 시간만큼 덜 간 시각을 가리킵니다.

7-3 30일 동안 33분씩 빨라지므로 하루에 $33 \div 30 = 1.1$ (분)씩 빨라집니다.
 10월 1일 오후 1시부터 10월 23일 오후 1시까지
 는 22일입니다.
 하루에 1.1분씩 빨라지므로 22일 동안은
 $1.1 \times 22 = 24.2$ (분) 빨라집니다.
 22일 동안
 $24.2\text{분} = 24\frac{2}{10}\text{분} = 24\frac{12}{60}\text{분} = 24\text{분 } 12\text{초}$
 빨라지므로 10월 23일 오후 1시에 이 시계가 가리
 키는 시각은 오후 1시 24분 12초입니다.

8-1 (할머니 댁까지의 왕복 거리)
 $= 60.9 \times 2 = 121.8$ (km)
 은호네 자동차는 1 L의 휘발유로 12 km를 갈 수
 있으므로 이 자동차로 121.8 km를 가는 데 필요
 한 휘발유의 양은 $121.8 \div 12 = 10.15$ (L)입니다.
 휘발유가 1 L당 1600원이므로 필요한 휘발유
 10.15 L의 값은 $10.15 \times 1600 = 16240$ (원)입
 니다.

보충 개념

(필요한 휘발유의 양) = (전체 거리) ÷ (1 L의 휘발유로 갈 수 있는 거리)

LEVEL UP TEST						74~78쪽
1 민아	2 1.28	3 6.25 cm	4 8	5 1.69 cm ²	6 310 m	
7 891장	8 6.25 cm	9 8.54 kg	10 11.25 g	11 5.06 cm ²	12 5.2 cm	
13 837.2 km	14 1.25배	15 6분 30초 후				

1 접근 >> 두 사람의 1분당 통화 요금을 각각 알아봅니다.

(희찬이의 1분당 휴대폰 통화 요금) = $2841 \div 20 = 142.05$ (원)
 (민아의 1분당 휴대폰 통화 요금) = $2133 \div 15 = 142.2$ (원)
 $142.05 < 142.2$ 이므로 민아의 1분당 휴대폰 통화 요금이 더 비쌉니다.
 따라서 똑같은 시간 동안 통화했을 때 요금이 더 많이 나오는 사람은 민아입니다.

주의

1분당 통화 요금을 구했기 때문에 '30분'이라는 통화 시간은 굳이 따지지 않아도 돼요.

서술형 2 68쪽 3번의 변형 심화 유형
접근 >> ㉠과 ㉡에 들어갈 수 있는 자연수의 범위부터 생각해 봅니다.

예) ㉠이 될 수 있는 자연수는 32, 33, 34, 35, 36, 37, 38, 39, 40이고, ㉡이 될 수 있는 자연수는 18, 19, 20, 21, 22, 23, 24, 25입니다.
 ㉠ ÷ ㉡의 몫이 가장 작으려면 나누어지는 수 ㉠은 가장 작아야 하고, 나누는 수 ㉡은 가장 커야 합니다.
 따라서 ㉠ ÷ ㉡의 몫이 가장 작은 경우는 ㉠ = 32, ㉡ = 25인 경우입니다.
 → $32 \div 25 = 1.28$

보충 개념

나누어지는 수가 작을수록, 나누는 수가 클수록 나눗셈의 몫이 작아집니다.

채점 기준	배점
㉠ ÷ ㉡의 몫이 가장 작은 경우를 식으로 나타낼 수 있나요?	3점
㉠ ÷ ㉡의 가장 작은 몫을 구할 수 있나요?	2점

3 접근 >> 양초가 1분 동안 몇 cm씩 타는지 알아봅시다.

양초가 4분 동안 2.5 cm씩 타므로 1분 동안은 $2.5 \div 4 = 0.625$ (cm)씩 탑니다.
 양초가 1분 동안 0.625 cm씩 타므로 14분 동안은 $0.625 \times 14 = 8.75$ (cm)만큼
 탑니다.
 따라서 불을 붙인 지 14분 후에 타고 남은 양초의 길이는 $15 - 8.75 = 6.25$ (cm)
 입니다.

보충 개념

(양초가 1분 동안 타는 길이)
 $= (\text{양초가 } \blacksquare \text{분 동안 타는}$
 $\text{길이}) \div \blacksquare$

4 접근 >> 소수점 아래에서 나누어떨어지지 않으면 0을 계속 내려 계산합니다.

$$\begin{array}{r}
 0.4814814 \dots \\
 27 \overline{) 13.0000000} \\
 \underline{108} \\
 220 \\
 \underline{216} \\
 40 \\
 \underline{27} \\
 130 \\
 \underline{108} \\
 220 \\
 \underline{216} \\
 40 \\
 \underline{27} \\
 13 \\
 \vdots
 \end{array}$$

$13 \div 27$ 의 몫을 구해 보면 0.481481……로 소수
 점 아래에 숫자 4, 8, 1이 반복됩니다.
 $20 \div 3 = 6 \dots 2$ 이므로 소수 20번째 자리 숫자는
 반복되는 숫자 중 두 번째 숫자인 8입니다.

보충 개념

몫이 나누어떨어지지 않는 경
 우에는 몫을 분수로 나타내는
 것이 정확해요.

예 $13 \div 27 = \frac{13}{27}$

5 접근 >> 정육면체의 모서리의 길이는 모두 같습니다.

정육면체의 모서리는 12개이고 모서리의 길이는 모두 같으므로 처음 정육면체의 한
 모서리의 길이는 $62.4 \div 12 = 5.2$ (cm)입니다.
 각 모서리의 길이를 $\frac{1}{4}$ 로 줄인 정육면체의 한 모서리의 길이는 $5.2 \div 4 = 1.3$ (cm)
 입니다. 따라서 줄인 정육면체의 한 면의 넓이는 $1.3 \times 1.3 = 1.69$ (cm²)입니다.

해결 전략

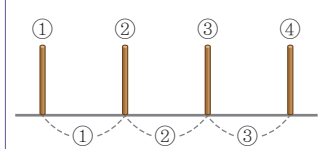
처음 정육면체의 한 모서리의
 길이를 구하여, 줄인 정육면
 체의 한 모서리의 길이를 구
 해요.

6 70쪽 5번의 변형 심화 유형 접근 >> 가로등 사이의 간격이 몇 군데인지 알아봅시다.

50개의 가로등을 도로의 양쪽에 설치하므로 한쪽에 $50 \div 2 = 25$ (개)씩 설치하게 됩
 니다. 가로등 25개를 같은 간격으로 설치하면 가로등 사이의 간격은
 $25 - 1 = 24$ (군데) 생깁니다. 따라서 가로등 사이의 간격은 $7.44 \div 24 = 0.31$ (km)
 입니다. 1 km = 1000 m이므로 0.31 km = 310 m입니다.

보충 개념

■개를 나란히 놓으면 간격은
 (■ - 1)군데 생겨요.



7 접근 » 가로와 세로에 각각 장판을 몇 장씩 놓아야 하는지 알아봅니다.

장판의 한 변이 2m이므로 강당의 가로에는 장판이 $65 \div 2 = 32.5$ (장) \rightarrow 33장씩 필요하고, 강당의 세로에는 장판이 $54 \div 2 = 27$ (장)씩 필요합니다.
따라서 장판은 적어도 $33 \times 27 = 891$ (장) 필요합니다.

지도 가이드

실생활에서 (자연수) \div (자연수)의 나눗셈을 할 때는 몫이 자연수로 나누어떨어지지 않는 경우가 더 많습니다. 이 문제의 경우에는 몫이 소수일 때 몫의 일의 자리 미만을 올림하였지만 문제의 상황에 따라 몫의 일의 자리 미만을 버림해야 하는 경우도 있습니다. 따라서 구한 몫을 주어진 상황에 맞게 해석하는 연습이 필요합니다.

해결 전략

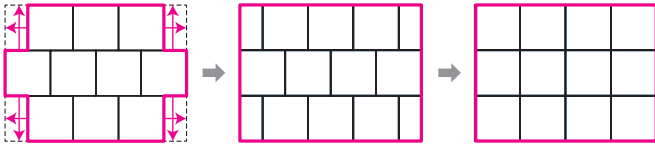
32.5장은 32장을 놓고 0.5장을 더 놓아야 하므로 33장이 필요해요.

주의

가로에 장판을 32장씩 놓으면 바닥에 빈 공간이 생겨요.

8 67쪽 2번의 변형 심화 유형
접근 » 도형의 둘레가 정사각형 한 변의 몇 배인지 살펴봅니다.

도형의 변의 일부를 그림과 같이 옮겨서 직사각형 모양으로 나타내 봅니다.



전체 도형의 둘레는 정사각형의 한 변의 길이의 14배와 같습니다.
따라서 정사각형의 한 변의 길이는 $87.5 \div 14 = 6.25$ (cm)입니다.

지도 가이드

도형의 둘레가 단위길이의 몇 배인지를 이용하여 해결하는 문제로, 이 문제에서는 정사각형의 한 변의 길이를 단위길이라고 생각했습니다. 둘레 중 단위길이가 셀 수 없는 부분에서는 변의 일부를 옮기는 과정이 필요합니다. 단위길이가 잘린 부분을 옮겨서 직사각형 모양을 만들 수 있도록 유도해 주세요. 변의 일부를 평행이동하면 도형의 모양은 바뀌지만 둘레의 길이는 변하지 않습니다.

해결 전략

도형의 변의 일부를 옮겨서 직사각형 모양으로 나타내요.

주의

도형의 둘레는 일반적으로 도형 안쪽에 있는 길이는 포함하지 않고, 바깥쪽을 둘러싼 부분의 길이만을 의미해요.

9 접근 » 책 5권을 꺼내고 다시 무게를 재면, 책 5권의 무게만큼이 덜 나갑니다.

(책 5권의 무게)
= (책 21권이 들어 있는 상자의 무게) - (책 5권을 꺼낸 후 다시 재 무게)
= $24.22 - 18.62 = 5.6$ (kg)
책 5권의 무게가 5.6 kg이므로 책 한 권의 무게는 $5.6 \div 5 = 1.12$ (kg)입니다.
책 21권의 무게는 $1.12 \times 21 = 23.52$ (kg)이므로 빈 상자의 무게는 $24.22 - 23.52 = 0.7$ (kg)입니다.
따라서 책 7권이 들어 있는 상자의 무게는 $1.12 \times 7 + 0.7 = 7.84 + 0.7 = 8.54$ (kg)입니다.

해결 전략

무게의 차를 이용해 책 5권의 무게를 먼저 구하면 나눗셈으로 책 한 권의 무게를 구할 수 있어요.

주의

빈 상자의 무게를 빠뜨리지 않도록 해요.

10 접근 » 먼저 금 한 냥의 무게가 몇 kg인지 알아봅시다.

금 5냥의 무게가 187.5g이므로 금 한 냥의 무게는 $187.5 \div 5 = 37.5$ (g)입니다.

금 10돈의 무게가 금 한 냥의 무게인 37.5g과 같으므로 금 한 돈의 무게는

$37.5 \div 10 = 3.75$ (g)입니다.

따라서 금 3돈으로 만든 팔찌의 무게는 $3.75 \times 3 = 11.25$ (g)입니다.

다른 풀이

금 한 냥의 무게가 금 10돈의 무게와 같으므로 금 5냥의 무게는 금 50돈의 무게와 같습니다.

금 50돈(=5냥)의 무게가 187.5g이므로 금 한 돈의 무게는 $187.5 \div 50 = 3.75$ (g)입니다.

따라서 금 3돈으로 만든 팔찌의 무게는 $3.75 \times 3 = 11.25$ (g)입니다.

해결 전략

(한 돈의 무게)

$= (\text{한 냥의 무게}) \div 10$

11 접근 » 정사각형의 넓이를 $\square \text{cm}^2$ 로 하여 식을 만들어 봅시다.

(정사각형의 넓이) = (한 변) \times (한 변) = $\square \text{cm}^2$ 이라 하면 새로 그린 직사각형의 넓이

는 (한 변) $\times 0.8 \times$ (한 변) $\times 5 =$ (한 변) \times (한 변) $\times 4 = \square \times 4$ 로 나타낼 수 있습니

다. 새로 그린 직사각형의 넓이가 정사각형의 넓이보다 15.18cm^2 만큼 늘었으므로

$\square \times 4 = \square + 15.18$ 이고, $\square + \square + \square + \square = \square + 15.18$, $\square + \square + \square = 15.18$

이므로 $\square \times 3 = 15.18$, $\square = 15.18 \div 3 = 5.06$ (cm^2)입니다.

다른 풀이

정사각형의 한 변을 $\square \text{cm}$ 라 하면 새로 그린 직사각형의 넓이는

$\square \times 0.8 \times \square \times 5 = \square \times \square \times 4$ 로 나타낼 수 있습니다.

새로 그린 직사각형의 넓이가 정사각형의 넓이보다 15.18cm^2 만큼 늘었으므로

$\square \times \square \times 4 = \square \times \square + 15.18$ 입니다. $\square \times \square$ 는 정사각형의 넓이이므로

(정사각형의 넓이) $\times 4 =$ (정사각형의 넓이) $+ 15.18$, (정사각형의 넓이) $\times 3 = 15.18$ 이므로

(정사각형의 넓이) = $15.18 \div 3 = 5.06$ (cm^2)입니다.

보충 개념

양쪽에서 같은 수를 빼도 등식은 성립해요.

$$\blacksquare + \blacksquare + \blacksquare + \blacksquare = \blacksquare + \bullet$$

$$\rightarrow \blacksquare + \blacksquare + \blacksquare = \bullet$$



12 접근 » 변 cm 은 평행사변형의 높이이면서 삼각형의 높이입니다.

예) 평행사변형 ㄱ 의 밑변이 13cm 이고 넓이가 182cm^2 이므로

(평행사변형 ㄱ 의 넓이) = $13 \times$ (높이) = 182 , (높이) = $182 \div 13 = 14$ (cm)

입니다.

삼각형 ㄴ 의 넓이는 평행사변형 ㄱ 의 넓이의 $\frac{1}{5}$ 이므로

$182 \div 5 = 36.4$ (cm^2)입니다.

평행사변형 ㄱ 과 삼각형 ㄴ 의 높이가 14cm 로 같으므로

(삼각형 ㄴ 의 넓이) = (선분 ㄷ) $\times 14 \div 2 = 36.4$,

(선분 ㄷ) = $36.4 \times 2 \div 14 = 5.2$ (cm)입니다.

해결 전략

구한 평행사변형의 높이를 삼각형의 높이로 생각하여 삼각형의 밑변을 구해요.

채점 기준	배점
평행사변형 ㄱ 의 높이를 구할 수 있나요?	1점
삼각형 ㄴ 의 넓이를 구할 수 있나요?	2점
선분 ㄷ 의 길이를 구할 수 있나요?	2점

다른 풀이

예) 평행사변형 $ㄱ$ 과 삼각형 $ㄴ$ 의 높이가 같고 삼각형 $ㄴ$ 의 넓이가 평행사변형 $ㄱ$ 의 넓이의 $\frac{1}{5}$ 이므로 선분 $ㄴ$ 의 길이를 \square cm라 하면
 $13 \times (\cancel{\text{높이}}) \times \frac{1}{5} = \square \times (\cancel{\text{높이}}) \div 2$, $13 \times \frac{1}{5} = \square \div 2$, $\square = \frac{13}{5} \times 2 = \frac{26}{5} = \frac{52}{10} = 5.2$ (cm)
 입니다.

13 73쪽 8번의 변형 심화 유형
접근 \gg (■ L의 연료로 간 거리) \div (1 L의 연료로 간 거리) = ■

A 자동차는 연료 1 L로 12 km를 갈 수 있으므로 966 km를 가는 데 필요한 연료의 양은 $966 \div 12 = 80.5$ (L)입니다.
 B 자동차는 연료 1 L로 20.8 km를 갈 수 있으므로 $80.5 \div 2 = 40.25$ (L)의 연료로 $40.25 \times 20.8 = 837.2$ (km)를 갈 수 있습니다.

보충 개념

A 자동차로 966 km를 가는 데 필요한 연료의 양을 구한 다음, B 자동차가 그 절반의 연료로 갈 수 있는 거리를 구해요.

지도 가이드

몇 km를 가는 데 필요한 연료의 양(L)을 구하는 문제입니다. 수치가 크고 여러 가지 단위가 나오면 어렵게 생각하는 경우가 많으니, 먼저 뒷이 나누어떨어지는 간단한 수치로 바꾸어 질문해 주세요. “연료 1 L로 12 km를 갈 수 있는 자동차로 24 km를 가려면 연료가 몇 L 필요하지?” 라는 질문에 “2 L”라고 대답하면, $24 \div 12 = 2$ 라는 나눗셈식을 어떻게 세웠는지 거꾸로 생각해 보도록 시간을 주세요. 전체 간 거리에서 1 L의 연료로 갈 수 있는 거리만큼을 덜어내면 덜어낸 횟수가 연료의 양이 되는 개념입니다.

14 접근 \gg 전체 도형이 작은 직사각형 몇 개로 이루어졌는지 세어 봅니다.

작은 직사각형의 가로는 $18 \div 4 = 4.5$ (cm)이므로 작은 직사각형의 넓이는 $4.5 \times 3 = 13.5$ (cm^2)입니다. 전체 도형의 넓이는 작은 직사각형 10개의 넓이와 같으므로 $13.5 \times 10 = 135$ (cm^2)이고, 삼각형 $ㄱ$ 의 넓이는 작은 직사각형 8개의 넓이와 같으므로 $13.5 \times 8 = 108$ (cm^2)입니다.
 따라서 전체 도형의 넓이는 삼각형 $ㄱ$ 의 넓이의 $135 \div 108 = 1.25$ (배)입니다.

다른 풀이 1

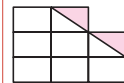
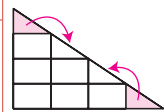
작은 직사각형의 가로는 $18 \div 4 = 4.5$ (cm)이므로 작은 직사각형의 넓이는 $4.5 \times 3 = 13.5$ (cm^2)입니다. 전체 도형의 넓이는 작은 직사각형 10개의 넓이와 같으므로 $13.5 \times 10 = 135$ (cm^2)이고, 삼각형 $ㄱ$ 의 넓이는 $18 \times 12 \div 2 = 108$ (cm^2)입니다.
 따라서 전체 도형의 넓이는 삼각형 $ㄱ$ 의 넓이의 $135 \div 108 = 1.25$ (배)입니다.

다른 풀이 2

전체 도형의 넓이는 작은 직사각형 10개의 넓이와 같고, 삼각형의 $ㄱ$ 의 넓이는 작은 직사각형 8개의 넓이와 같습니다.
 따라서 전체 도형의 넓이는 삼각형 $ㄱ$ 의 넓이의 $10 \div 8 = 1.25$ (배)입니다.

해결 전략

색칠된 부분을 옮겨서 직사각형으로 만들어요.



작은 직사각형 8개

15 7쪽 6번의 변형 심화 유형

접근 >> 출발한 지 1분 후, 두 사람 사이의 거리를 생각해 봅시다.

지환이는 2분 동안 400.4 m를 걸으므로 지환이가 1분 동안 걷는 거리는 $400.4 \div 2 = 200.2$ (m)이고, 다혜는 3분 동안 347.4 m를 걸으므로 다혜가 1분 동안 걷는 거리는 $347.4 \div 3 = 115.8$ (m)입니다.

두 사람이 같은 지점에서 동시에 출발하여 반대 방향으로 걸으면 1분이 지날 때마다 $200.2 + 115.8 = 316$ (m)씩 멀어집니다.

산책로의 둘레가 $2 \text{ km } 54 \text{ m} = 2054 \text{ m}$ 이므로 두 사람은 출발한 지

$$2054 \div 316 = 6.5(\text{분}) = 6\frac{5}{10}(\text{분}) = 6\frac{30}{60}(\text{분}) = 6\text{분 } 30\text{초 후에 만나게 됩니다.}$$

해결 전략

두 사람이 걸은 거리의 합이 산책로의 둘레와 같아지는 때를 구해요.

주의

서로 반대 방향으로 걸으면 거리가 멀어지지만, 원 모양의 산책로의 경우에는 한 점에서 만나게 돼요.

HIGH LEVEL

79~81쪽

- | | | | | | |
|--------------------------------|----------------|--------------------------------|------------------|-----------------|------------------|
| 1 4.15 | 2 5.27 | 3 49.44 cm ² | 4 11.2 cm | 5 1분 48초 | 6 0.62 km |
| 7 39.375 m ² | 8 0.905 | 9 21분 24초 | | | |

1 접근 >> $\frac{\blacktriangle}{\blacksquare} = \blacktriangle \div \blacksquare$

만들 수 있는 가장 큰 대분수는 $5\frac{3}{4}$ 이고, 가장 작은 대분수는 $1\frac{3}{5}$ 입니다.

$$3 \div 4 = 0.75 \text{이므로 } 5\frac{3}{4} = 5.75 \text{이고, } 3 \div 5 = 0.6 \text{이므로 } 1\frac{3}{5} = 1.6 \text{입니다.}$$

따라서 두 수의 차는 $5.75 - 1.6 = 4.15$ 입니다.

다른 풀이

만들 수 있는 가장 큰 대분수는 $5\frac{3}{4}$ 이고, 가장 작은 대분수는 $1\frac{3}{5}$ 입니다.

$$5\frac{3}{4} = \frac{23}{4} \rightarrow 23 \div 4 = 5.75 \text{이고, } 1\frac{3}{5} = \frac{8}{5} \rightarrow 8 \div 5 = 1.6 \text{입니다.}$$

따라서 두 수의 차는 $5.75 - 1.6 = 4.15$ 입니다.

보충 개념

가장 큰 수 5를 자연수 자리에 놓고, 나머지 수 4, 3, 1로 가장 큰 진분수를 만들어요.

해결 전략

대분수에서 진분수 부분을 소수로 바꾸어 나타내요.

$$\frac{\blacktriangle}{\bullet} = \blacktriangle \div \bullet$$

2 접근 >> \blacksquare 를 \blacktriangle 에 대한 식으로 나타내 봅시다.

$\blacksquare \div \blacktriangle = 12$ 이므로 $\blacksquare = 12 \times \blacktriangle$ 입니다. $\blacksquare + \blacktriangle = 68.51$ 에서

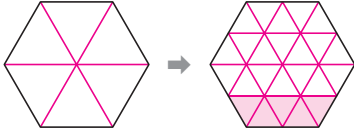
$$12 \times \blacktriangle + \blacktriangle = 68.51, 13 \times \blacktriangle = 68.51, \blacktriangle = 68.51 \div 13 = 5.27 \text{입니다.}$$

보충 개념

$12 \times \blacktriangle = \blacktriangle \times 12$ 이므로 \blacktriangle 를 12번 더한 수예요.

3 69쪽 4번의 변형 심화 유형
접근 >> 정육각형을 똑같은 모양 여러 개로 나누어 봅니다.

정육각형은 그림과 같이 정삼각형 6개로 나눌 수 있고, 정삼각형은 다시 작은 정삼각형 4개로 나눌 수 있습니다. 즉 정육각형은 작은 정삼각형 24개로 나눌 수 있습니다.



색칠한 부분의 넓이는 작은 정삼각형 5개의 넓이와 같으므로 작은 정삼각형 하나의 넓이는 $10.3 \div 5 = 2.06 \text{ (cm}^2\text{)}$ 입니다.

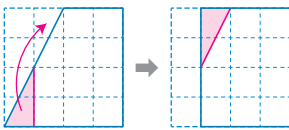
전체 정육각형의 넓이는 작은 정삼각형 24개의 넓이와 같으므로

전체 정육각형의 넓이는 $2.06 \times 24 = 49.44 \text{ (cm}^2\text{)}$ 입니다.

해결 전략

각 변의 이등분점을 이용하여 정육각형을 작은 정삼각형 여러 개로 나누고, 색칠한 부분이 작은 정삼각형 몇 개로 이루어졌는지 알아봐요.

4 67쪽 2번의 변형 심화 유형
접근 >> 사다리꼴이 모눈 몇 칸으로 이루어졌는지 세어 봅니다.



사다리꼴의 넓이는 모눈 한 칸의 넓이의 12배와 같으므로 모눈 한 칸의 넓이는 $23.52 \div 12 = 1.96 \text{ (cm}^2\text{)}$ 입니다.

모눈 한 칸은 정사각형이므로 모눈 한 칸의

길이를 $\square \text{ cm}$ 라 하면 $\square \times \square = 1.96 \text{ (cm}^2\text{)}$ 이고 $1.4 \times 1.4 = 1.96$ 이므로

모눈 한 칸의 길이는 1.4 cm입니다. 빨간색 선은 모눈 한 칸의 길이의 8배이므로

$1.4 \times 8 = 11.2 \text{ (cm)}$ 입니다.

해결 전략

모눈 한 칸의 넓이를 구한 다음 모눈 한 칸의 길이를 구해요.

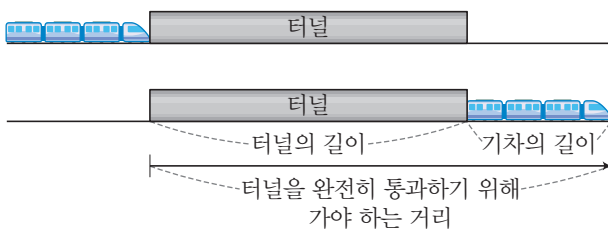
보충 개념

$14 \times 14 = 196$ 이므로

$\square \times \square = 1.96$ 이 되는 \square 는 1.4예요.

5 71쪽 6번의 변형 심화 유형
접근 >> 기차가 터널을 완전히 통과하려면 얼마나 움직여야 하는지 생각해 봅니다.

기차가 터널을 완전히 통과하려면 (터널의 길이) + (기차의 길이)만큼 달려야 합니다.



기차가 터널을 통과하기 위해서는 $1200 + 240 = 1440 \text{ (m)}$ 를 가야 합니다.

기차가 1분에 800 m씩 가므로 기차가 1440 m를 가는 데 걸리는 시간은

$1440 \div 800 = 1.8 \text{ (분)}$ 입니다.

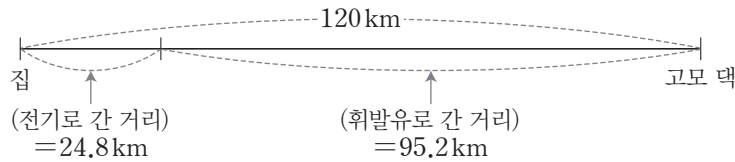
따라서 기차가 터널을 완전히 통과하는 데 $1.8 \text{ 분} = 1 \frac{8}{10} \text{ 분} = 1 \frac{48}{60} \text{ 분} = 1 \text{ 분 } 48 \text{ 초}$ 가 걸립니다.

주의

기차의 꼬리 부분까지 터널을 빠져나와야 터널을 완전히 통과한 것이예요.

6 73쪽 8번의 변형 심화 유형

접근 >> 휘발유로 간 거리를 먼저 구합니다.



(1 L의 휘발유로 갈 수 있는 거리) = $40.8 \div 6 = 6.8$ (km)
 (14 L의 휘발유로 간 거리) = $14 \times 6.8 = 95.2$ (km)
 (전기를 사용하여 간 거리) = $120 - 95.2 = 24.8$ (km)
 (전기를 사용하여 간 시간) = 1시간 50분 - 1시간 10분 = 40분
 (전기를 사용하여 1분 동안 간 거리) = $24.8 \div 40 = 0.62$ (km)

해결 전략

휘발유로 간 거리 → 전기로 간 거리 → 전기로 1분 동안 간 거리 순서로 구해요.

7 접근 >> 규칙을 생각하여 색칠된 부분의 넓이를 식으로 나타내 봅니다.

(첫 번째 모양의 색칠된 부분의 넓이) = (정사각형의 넓이) $\div 4$
 (두 번째 모양의 색칠된 부분의 넓이)
 = (정사각형의 넓이 $\div 4$) + (정사각형의 넓이 $\div 4 \div 4$)
 (세 번째 모양의 색칠된 부분의 넓이)
 = (정사각형의 넓이 $\div 4$) + (정사각형의 넓이 $\div 4 \div 4$) + (정사각형의 넓이 $\div 4 \div 4 \div 4$)
 = $(120 \div 4) + (120 \div 4 \div 4) + (120 \div 4 \div 4 \div 4)$
 = $30 + 7.5 + 1.875 = 39.375$ (m²)

주의

이전에 색칠한 부분의 넓이도 빠뜨리지 않고 더해요.

8 접근 >> (소수) = (자연수 부분) + (소수 부분)

소수는 자연수 부분과 소수 부분의 합으로 나타낼 수 있습니다.

→ (어떤 소수) = ● + ▲

$7 \times \bullet + 7 \times \blacktriangle$ 는 ●를 7번 더한 값과 ▲를 7번 더한 값의 합이므로 ●와 ▲의 합을 7번 더한 것과 같습니다. → $7 \times \bullet + 7 \times \blacktriangle = (\bullet + \blacktriangle) \times 7$

$7 \times \bullet + 7 \times \blacktriangle = (\bullet + \blacktriangle) \times 7 = 25.34$ 이므로 $\bullet + \blacktriangle = 25.34 \div 7 = 3.62$ 입니다.

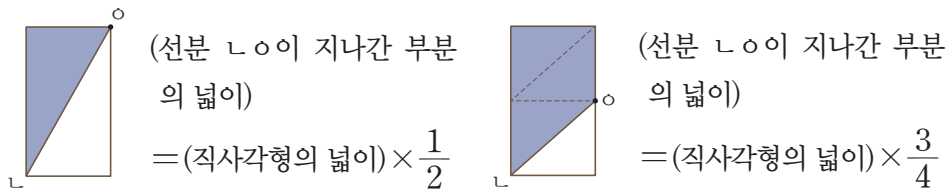
어떤 소수는 3.62이므로 3.62를 4로 나눈 몫은 $3.62 \div 4 = 0.905$ 입니다.

해결 전략

식을 변형하여 (● + ▲)에 대한 식으로 나타내요.

9 접근 >> 점 ○의 움직임에 따라 선분 ㄴ○이 지나간 부분의 넓이가 변합니다.

점 ○이 점 ㄹ에 왔을 때, 선분 ㄴ○이 지나간 부분의 넓이는 직사각형의 넓이의 $\frac{1}{2}$ 입니다. 선분 ㄴ○이 지나간 부분의 넓이가 직사각형의 넓이의 $\frac{3}{4}$ 이 되는 때는 점 ○이 변 ㄴㄹ의 중간 지점에 왔을 때입니다.



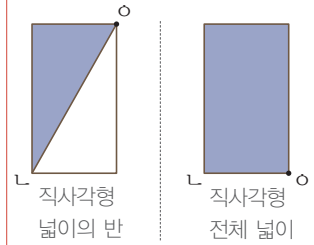
점 O 이 점 L 에서 점 R 을 지나 변 DC 의 중간 지점까지 움직인 거리는 $136.4 + (240.8 \div 2) = 136.4 + 120.4 = 256.8$ (cm)입니다.

점 O 이 1분에 12 cm씩 움직이므로 256.8 cm를 움직이는 데 걸리는 시간은 $256.8 \div 12 = 21.4$ (분)입니다.

$\Rightarrow 21.4 \text{분} = 21 \frac{4}{10} \text{분} = 21 \frac{24}{60} \text{분} = 21 \text{분 } 24 \text{초}$

해결 전략

점 O 이 직사각형의 꼭짓점에 있을 때 선분 \overline{LO} 이 지나간 부분의 넓이를 생각해 봐요.



\Rightarrow 직사각형 넓이의 $\frac{3}{4}$ 이 되려면, 점 O 이 점 R 과 점 C 사이에 있어야 해요.

연필 없이 생각 톡

82쪽

정답: ③

4 비와 비율

BASIC TEST

1 비, 비율

87쪽

1 ㉠

2 (위에서부터) $16, 40, \frac{16}{40} (\frac{2}{5}, 0.4) /$

$6, 8, \frac{6}{8} (\frac{3}{4}, 0.75) /$

$42, 15, \frac{42}{15} (2\frac{4}{5}, 2.8)$

3 $13 : 20$

4 ㉡, ㉢

5 $\frac{3}{4}$

6 $\frac{5}{8}$

1 전체에 대한 색칠한 부분의 비가 $3 : 8$ 이므로 8칸 중 3칸이 색칠되어야 합니다. ㉠은 8칸 중 4칸이 색칠되어 있습니다.

2 비를 나타낼 때 기호 $:$ 의 오른쪽에 기준량, 왼쪽에 비교하는 양을 둡니다.

(비율) = $\frac{\text{(비교하는 양)}}{\text{(기준량)}}$ 이고, 분수 또는 소수로 나타낼 수 있습니다.

3 전체 읽은 책의 수는 20권이고, 그중 위인전의 수는 $20 - 7 = 13$ (권)이므로 전체 읽은 책 수에 대한 위인전 수의 비는 $13 : 20$ 입니다.

보충 개념

전체 읽은 책의 수가 기준량, 위인전의 수가 비교하는 양입니다.

4 모두 분수로 나타내면 ㉠ $\frac{5}{4} = 1\frac{1}{4}$, ㉡ $\frac{98}{100}$,

㉢ $\frac{7}{12}$, ㉣ $1.5 = 1\frac{1}{2}$ 입니다.

따라서 분수로 나타냈을 때 1보다 큰 것은 ㉠, ㉣입니다.

다른 풀이

모두 비로 나타내면 ㉠ $5 : 4$, ㉡ $98 : 100$, ㉢ $7 : 12$, ㉣ $3 : 2$ 에서 기호 $:$ 의 오른쪽에 있는 수가 기준량이고 기호 $:$ 의 왼쪽에 있는 수가 비교하는 양이므로 기준량이 비교하는 양보다 작은 것은 ㉠, ㉢입니다.

보충 개념

$\blacksquare : \blacktriangle \rightarrow \frac{\blacksquare}{\blacktriangle}$ 이므로 $\blacksquare > \blacktriangle$ 일 때 비율 $\frac{\blacksquare}{\blacktriangle}$ 는 1보다 크고,
 $\blacksquare < \blacktriangle$ 일 때 비율 $\frac{\blacksquare}{\blacktriangle}$ 는 1보다 작습니다.

5 (면 ㉡의 넓이) = $20 \times 10 = 200$ (cm²)

(면 ㉣의 넓이) = $15 \times 10 = 150$ (cm²)

(면 ㉣의 넓이) : (면 ㉡의 넓이) = $150 : 200$

$$\rightarrow \frac{150}{200} = \frac{3}{4}$$

다른 풀이

면 ㉡와 면 ㉣는 세로가 10 cm로 같으므로 넓이의 비는 두 면의 가로에 비와 같습니다.

따라서 비율은 $15 : 20 \rightarrow \frac{15}{20} = \frac{3}{4}$ 입니다.

6 여학생 수에 대한 남학생 수의 비율이 $1.6 = \frac{16}{10}$ 이므로 비로 나타내면 $16 : 10$ 입니다. 따라서 남학생 수에 대한 여학생 수의 비는 $10 : 16$ 이므로 비율을 기약분수로 나타내면 $\frac{10}{16} = \frac{5}{8}$ 입니다.

2 비율이 사용되는 경우

89쪽

1 윤하, 수호, 단우 2 0.375, 0.25 3 $\frac{1}{2000}$

4 34150명 5 재우 6 60 cm

1 걸린 시간에 대한 간 거리의 비율을 각각 구합니다.

$$\text{단우: } \frac{150}{30} = 5, \text{ 윤하: } \frac{560}{70} = 8, \text{ 수호: } \frac{34}{6} = 5\frac{2}{3}$$

따라서 걸린 시간에 대한 간 거리의 비율이 큰 사람부터 차례대로 이름을 쓰면 윤하, 수호, 단우입니다.

2 A 선수의 타율은 $\frac{15}{40} = \frac{3}{8}$ 으로

소수로 나타내면 $3 \div 8 = 0.375$ 입니다.

B 선수의 타율은 $\frac{9}{36} = \frac{1}{4}$ 로

소수로 나타내면 $1 \div 4 = 0.25$ 입니다.

보충 개념

$$(\text{타율}) = \frac{(\text{안타 수})}{(\text{전체 타수})}$$

3 100 m = 10000 cm입니다. 실제 거리 10000 cm를 지도에서 5 cm로 나타냈으므로

$$(\text{축척}) = \frac{(\text{지도에서 거리})}{(\text{실제 거리})} = \frac{5}{10000} = \frac{1}{2000}$$

입니다.

다른 풀이

5 cm = 0.05 m입니다.

실제 거리 100 m를 지도에서 0.05 m로 나타냈으므로

$$(\text{축척}) = \frac{(\text{지도에서 거리})}{(\text{실제 거리})} = (\text{지도에서 거리}) \div (\text{실제 거리})$$

$$= 0.05 \div 100 = 0.0005 = \frac{5}{10000} = \frac{1}{2000}$$

입니다.

4 넓이에 대한 인구의 비율이 31이고 넓이가

$$1050 \text{ km}^2 \text{이므로 } \frac{(\text{인구})}{1050} = 31,$$

$$(\text{인구}) = 31 \times 1050 = 32550 (\text{명}) \text{입니다.}$$

따라서 A도시의 인구가 지금보다 1600명 늘어나면 모두 $32550 + 1600 = 34150$ (명)이 됩니다.

5 흰색 페인트 양에 대한 검은색 페인트 양의 비율이 클수록 만들어진 회색이 어둡습니다. 두 사람의 흰색 페인트 양에 대한 검은색 페인트 양의 비율을 구하면 $\frac{40}{50} = \frac{4}{5}$, $\frac{65}{75} = \frac{13}{15}$ 이고 $\frac{4}{5} < \frac{13}{15}$ 이므로 재우가 만든 회색이 더 어둡습니다.

6 같은 시각에 막대의 길이에 대한 그림자 길이의 비율은 서로 같습니다. $2 \text{ m} = 200 \text{ cm}$ 이므로

왼쪽 막대의 길이에 대한 그림자 길이의 비율은

$$\frac{80}{200} = \frac{2}{5} \text{입니다.}$$

오른쪽 막대의 길이는 $1.5 \text{ m} = 150 \text{ cm}$ 이고

$$\frac{2}{5} = \frac{60}{150} \text{이므로 그림자의 길이는 } 60 \text{ cm} \text{입니다.}$$

3 백분율, 백분율이 사용되는 경우

91쪽

1 40 %, 62.5 % 2 풀이 참조 3 20 %

4 ㉠ 5 48.1 kg 6 달빛 은행

1 (1) 전체 50칸 중 20칸에 색칠했으므로

$$\frac{20}{50} \times 100 = 40 (\%) \text{입니다.}$$

(2) 전체 8칸 중 5칸에 색칠했으므로

$$\frac{5}{8} \times 100 = 62.5 (\%) \text{입니다.}$$

기약분수	소수	백분율
$\frac{7}{20}$	0.35	35 %
$\frac{1}{25}$	0.04	4 %
$\frac{41}{50}$	0.82	82 %
$\frac{1}{8}$	0.125	12.5 %

$$\frac{7}{20} = \frac{35}{100} = 0.35, 0.35 \times 100 = 35 (\%)$$

$$0.04 = \frac{4}{100} = \frac{1}{25}, 0.04 \times 100 = 4 (\%)$$

$$82 \% \rightarrow 0.82 = \frac{82}{100} = \frac{41}{50}$$

$$\frac{1}{8} = \frac{125}{1000} = 0.125, 0.125 \times 100 = 12.5 (\%)$$

3 (할인 금액) = $6000 - 4800 = 1200$ (원)

$$(\text{할인율}) = \frac{(\text{할인 금액})}{(\text{원래 가격})} = \frac{1200}{6000} = \frac{1}{5}$$

$$\rightarrow \frac{1}{5} \times 100 = 20 (\%)$$

$$4 \text{ (㉠ 소금물의 진하기)} = \frac{(\text{소금 양})}{(\text{소금물 양})} = \frac{50}{250} = \frac{1}{5}$$

$$\rightarrow \frac{1}{5} \times 100 = 20 (\%)$$

$$4 \text{ (㉡ 소금물의 진하기)} = \frac{(\text{소금 양})}{(\text{소금물 양})} = \frac{40}{120 + 40}$$

$$= \frac{40}{160} = \frac{1}{4}$$

$$\rightarrow \frac{1}{4} \times 100 = 25 (\%)$$

따라서 ㉡ 소금물이 더 진합니다.

5 65 %를 비율로 나타내면 0.65입니다.

$$(\text{현수의 몸무게}) = 74 \times 0.65 = 48.1 (\text{kg})$$

$$6 \text{ (이자율)} = \frac{(\text{이자})}{(\text{예금한 금액})} \text{이므로}$$

(이자) = (예금한 금액) × (이자율)입니다.
 (햇살 은행에서 받을 이자) = 36000×0.07
 $= 2520$ (원)
 (달빛 은행에서 받을 이자) = 51000×0.05
 $= 2550$ (원)
 따라서 달빛 은행에서 더 많은 이자를 받습니다.

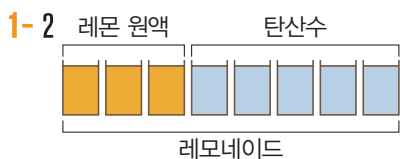
주의

이자율은 비율(분수와 소수)로 바꾸어 곱해야 합니다.

MATH TOPIC 92~98쪽

1-1 0.25	1-2 $\frac{5}{8}$	1-3 $\frac{12}{13}$
2-1 44번	2-2 244개	2-3 16표
3-1 1380원	3-2 561 cm^2	3-3 945 g
4-1 ㉔	4-2 12.5 %	4-3 16원
5-1 대한 은행, 5 %	5-2 5632원	
5-3 257500원		
6-1 12 %	6-2 25 %	6-3 10 %
심화 7 25, 1500 / 6500 / 1500, 7500 / 6500, 7500		
7-1 3000원		

1-1 전체 과일 수는 $4 + 5 + 7 = 16$ (개)이므로 전체 과일 수에 대한 사과 수의 비는 4 : 16입니다.
 비율을 소수로 나타내면
 $4 : 16 \Rightarrow \frac{4}{16} = \frac{1}{4} = \frac{25}{100} = 0.25$ 입니다.



탄산수 양에 대한 레몬 원액 양의 비가 3 : 5이므로 레모네이드 양에 대한 탄산수 양의 비는 5 : 8입니다.
 비율을 기약분수로 나타내면 $5 : 8 \Rightarrow \frac{5}{8}$ 입니다.

1-3 ㉔의 모든 모서리의 길이의 합
 $= (5 \times 4) \times 2 + 3 \times 4 = 40 + 12 = 52$ (cm)

㉔의 모든 모서리의 길이의 합 = 4×12
 $= 48$ (cm)

㉔의 모든 모서리의 길이의 합에 대한 ㉔의 모든 모서리의 길이의 합의 비는 48 : 52이고, 비율을 기약분수로 나타내면 $48 : 52 \Rightarrow \frac{48}{52} = \frac{12}{13}$ 입니다.

2-1 450타수 중에서 안타를 99개 쳤으므로 이 선수의 (타율) = $\frac{\text{안타 수}}{\text{전체 타수}} = \frac{99}{450} = \frac{11}{50}$ 입니다.

이 선수가 200타수를 $\frac{11}{50}$ 의 타율로 쳤으므로 200타수의 $\frac{11}{50}$ 만큼이 안타가 됩니다. 따라서 200타수를 치면 안타를 $200 \times \frac{11}{50} = 44$ (번) 치게 됩니다.

2-2 오늘 생산된 물건 중 불량품의 개수는 $250 \times \frac{3}{125} = 6$ (개)입니다. 따라서 판매할 수 있는 물건은 $250 - 6 = 244$ (개)입니다.

다른 풀이

불량품의 비율이 $\frac{3}{125}$ 이므로 판매할 수 있는 물건의 비율은 $1 - \frac{3}{125} = \frac{122}{125}$ 입니다.
 따라서 판매할 수 있는 물건은 $250 \times \frac{122}{125} = 244$ (개)입니다.

2-3 세 명의 후보가 각각 전체의 46 %, 28 %, 24 %만큼 득표하였으므로 무효표는 전체의 $100 - 46 - 28 - 24 = 2$ (%)입니다.
 800명이 투표에 참여했고 전체 표수에 대한 무효표의 비율이 2 % $\Rightarrow 0.02$ 이므로 800표의 0.02만큼이 무효표입니다. 따라서 이 선거에서 무효표는 $800 \times 0.02 = 16$ (표)입니다.

3-1 현재 지하철 요금이 1200원이고 다음 달에는 15 % $\Rightarrow 0.15$ 만큼 인상되므로 인상되는 금액은 $1200 \times 0.15 = 180$ (원)입니다.
 180원이 인상되므로 다음 달의 지하철 요금은 $1200 + 180 = 1380$ (원)이 됩니다.

다른 풀이

$100 + 15 = 115(\%) \Rightarrow 1.15$ 이므로 다음 달의 지하철 요금은 $1200 \times 1.15 = 1380(\text{원})$ 이 됩니다.

3-2 직사각형의 가로는 $10\% \Rightarrow 0.1$ 만큼 늘이고, 세로는 $15\% \Rightarrow 0.15$ 만큼 줄입니다.

$$\begin{aligned} (\text{늘어난 가로}) &= 30 + 30 \times 0.1 \\ &= 30 + 3 = 33(\text{cm}), \\ (\text{줄어든 세로}) &= 20 - 20 \times 0.15 \\ &= 20 - 3 = 17(\text{cm}) \end{aligned}$$

따라서 새로 그린 직사각형의 넓이는 $33 \times 17 = 561(\text{cm}^2)$ 입니다.

3-3 (6월 몸무게)

$$\begin{aligned} &= (\text{5월 몸무게}) + (\text{5월 몸무게}) \times 0.4 \\ &= 500 + 500 \times 0.4 = 500 + 200 = 700(\text{g}) \end{aligned}$$

(7월 몸무게)

$$\begin{aligned} &= (\text{6월 몸무게}) + (\text{6월 몸무게}) \times 0.35 \\ &= 700 + 700 \times 0.35 = 700 + 245 = 945(\text{g}) \end{aligned}$$

따라서 7월에 연희네 강아지의 몸무게는 945g입니다.

4-1 ㉠ 약기 가게의 할인 금액) = $7200 - 5400 = 1800(\text{원})$,

㉡ 약기 가게의 할인율)

$$\begin{aligned} &= \frac{(\text{할인 금액})}{(\text{원래 가격})} = \frac{1800}{7200} = \frac{1}{4} \\ &\Rightarrow \frac{1}{4} \times 100 = 25(\%) \end{aligned}$$

㉢ 약기 가게의 할인 금액) = $9000 - 7200 = 1800(\text{원})$

㉣ 약기 가게의 할인율)

$$\begin{aligned} &= \frac{(\text{할인 금액})}{(\text{원래 가격})} = \frac{1800}{9000} = \frac{1}{5} \\ &\Rightarrow \frac{1}{5} \times 100 = 20(\%) \end{aligned}$$

따라서 할인율이 더 높은 가게는 ㉠입니다.

4-2 (지난주 캐러멜 한 개의 가격) = $4000 \div 5 = 800(\text{원})$

(이번 주 캐러멜 한 개의 가격) = $4900 \div 7 = 700(\text{원})$

캐러멜 한 개의 가격이 $800 - 700 = 100(\text{원})$ 할인되었으므로 이번 주에 캐러멜 한 개의 할인율은

$$\begin{aligned} \frac{(\text{할인 금액})}{(\text{원래 가격})} &= \frac{100}{800} = \frac{1}{8} \\ &\Rightarrow \frac{1}{8} \times 100 = 12.5(\%) \text{입니다.} \end{aligned}$$

4-3 (빵 한 개의 정가) = (원가) + (이익)

$$= 400 + (400 \times \frac{30}{100}) = 400 + 120 = 520(\text{원})$$

(할인된 판매 가격) = (정가) - (할인 금액)

$$= 520 - (520 \times \frac{20}{100}) = 520 - 104 = 416(\text{원})$$

(빵 한 개를 팔아 얻는 이익) =

$$(\text{할인된 판매 가격}) - (\text{원가}) = 416 - 400 = 16(\text{원})$$

5-1 대한 은행: 이자가 $50400 - 48000 = 2400(\text{원})$

$$\text{이므로 이자율은 } \frac{2400}{48000} = \frac{1}{20}$$

$$\Rightarrow \frac{1}{20} \times 100 = 5(\%) \text{입니다.}$$

가야 은행: 이자가 $78000 - 75000 = 3000(\text{원})$

$$\text{이므로 이자율은 } \frac{3000}{75000} = \frac{1}{25}$$

$$\Rightarrow \frac{1}{25} \times 100 = 4(\%) \text{입니다.}$$

따라서 대한 은행의 이자율이 5%로 더 높습니다.

5-2 이자율이 6.8% $\Rightarrow 0.068$ 이므로 1년 후에 찾는

$$\text{돈은 } 24000 + 24000 \times 0.068$$

$$= 24000 + 1632 = 25632(\text{원}) \text{입니다.}$$

따라서 20000원짜리 책가방을 산다면 남는 돈은

$$25632 - 20000 = 5632(\text{원}) \text{입니다.}$$

5-3 160000원을 1년 동안 예금하여 붙은 이자는

$$164800 - 160000 = 4800(\text{원}) \text{입니다.}$$

$$(\text{이자율}) = \frac{(\text{이자})}{(\text{예금한 금액})} = \frac{4800}{160000} = \frac{3}{100}$$

따라서 250000원을 1년 동안 예금할 때의 이자는

$$250000 \times \frac{3}{100} = 7500(\text{원}) \text{이므로 1년 후에 찾}$$

을 수 있는 돈은 모두

$$250000 + 7500 = 257500(\text{원}) \text{입니다.}$$

보충 개념

$$(\text{이자}) = (\text{예금한 금액}) \times (\text{이자율})$$

6-1 소금물 180g 중 소금의 양이 24g이므로 물의 양은 $180 - 24 = 156$ (g)입니다. 여기에 물을 20g 더 부으면 물의 양은 $156 + 20 = 176$ (g)이 됩니다. 따라서 새로 만든 소금물의 진하기는

$$\frac{(\text{소금 양})}{(\text{소금물 양})} = \frac{(\text{소금 양})}{(\text{물 양}) + (\text{소금양})} = \frac{24}{176 + 24} = \frac{24}{200} = \frac{12}{100} = 12\% \text{입니다.}$$

다른 풀이

새로 만든 소금물의 진하기는

$$\frac{(\text{소금 양})}{(\text{소금물 양})} = \frac{24}{180 + 20} = \frac{24}{200} = \frac{12}{100} = 12\% \text{입니다.}$$

6-2 진하기가 10% \Rightarrow 0.1인 소금물 250g에 녹아 있는 소금의 양은 $250 \times 0.1 = 25$ (g)입니다. 새로 만든 소금물의 양은 $250 + 50 = 300$ (g), 소금의 양은 $25 + 50 = 75$ (g)이 됩니다.

따라서 새로 만든 소금물의 진하기는

$$\frac{(\text{소금 양})}{(\text{소금물 양})} = \frac{75}{300} = \frac{25}{100} = 25\% \text{입니다.}$$

해결 전략

소금물에 녹아 있는 소금의 양을 먼저 구합니다.

6-3 진하기가 20% \Rightarrow 0.2인 소금물 150g에 녹아 있는 소금의 양은 $150 \times 0.2 = 30$ (g)이고, 진하기가 5% \Rightarrow 0.05인 소금물 300g에 녹아 있는 소금의 양은 $300 \times 0.05 = 15$ (g)이므로 합한 소금의 양은 $30 + 15 = 45$ (g)입니다. 합한 소금물의 양이 $150 + 300 = 450$ (g)이므로 합한 소금물의 진하기는

$$\frac{(\text{소금 양})}{(\text{소금물 양})} = \frac{45}{450} = \frac{1}{10}$$

$$\Rightarrow \frac{1}{10} \times 100 = 10\% \text{입니다.}$$

7-1 (2010년의 기본요금) = (2004년의 기본요금) + (2004년의 기본요금) \times 0.5
 (2010년의 기본요금) = $1600 + 1600 \times 0.5 = 1600 + 800 = 2400$ (원)
 (2013년의 기본요금) = (2010년의 기본요금) + (2010년의 기본요금) \times 0.25
 (2013년의 기본요금) = $2400 + 2400 \times 0.25 = 2400 + 600 = 3000$ (원)

LEVEL UP TEST						99~103쪽
1 ㉠, ㉡, ㉢	2 108쪽	3 5	4 132명	5 242상자	6 49	
7 25%	8 15000원	9 2.16 m	10 1%	11 337969가구	12 300 g	
13 221명	14 20%	15 750 m				

1 접근 \gg 모두 (비교하는 양) : (기준량)으로 나타냅니다.

㉠ $7 : 5$ ㉡ $115\% = \frac{115}{100} \Rightarrow 115 : 100$ ㉢ 13에 대한 12의 비 $\Rightarrow 12 : 13$

㉣ 3의 4에 대한 비 $\Rightarrow 3 : 4$ ㉤ $\frac{997}{1000} \Rightarrow 997 : 1000$

㉥ $1.01 = \frac{101}{100} \Rightarrow 101 : 100$

따라서 비교하는 양이 기준량보다 작은 것은 ㉠, ㉡, ㉤입니다.

보충 개념



주의

백분율의 기준량은 100이요.

$$\blacksquare \% = \frac{\blacksquare}{100}$$

다른 풀이

(비율) = $\frac{\text{(비교하는 양)}}{\text{(기준량)}}$ 이므로 비율을 분수로 나타내어 분자가 분모보다 작은 것을 찾습니다.

㉠ $7 : 5 \rightarrow \frac{7}{5}$ ㉡ $115\% = \frac{115}{100} = \frac{23}{20}$ ㉢ $12 : 13 \rightarrow \frac{12}{13}$

㉣ $3 : 4 \rightarrow \frac{3}{4}$ ㉤ $\frac{997}{1000}$ ㉥ $1.01 = \frac{101}{100}$

따라서 비교하는 양이 기준량보다 작은 것은 ㉡, ㉣, ㉤입니다.

서술형

2 접근 >> 어제 읽은 쪽수를 알아야 오늘 읽은 쪽수를 구할 수 있습니다.

예) 어제 전체의 25% $\rightarrow 0.25$ 를 읽었으므로
 어제 읽은 쪽수는 $360 \times 0.25 = 90$ (쪽)이고
 오늘 읽은 쪽수는 $(360 - 90) \times 0.6 = 270 \times 0.6 = 162$ (쪽)입니다.
 따라서 더 읽어야 하는 쪽수는 $360 - 90 - 162 = 108$ (쪽)입니다.

주의

오늘은 어제 읽고 남은 나머지 0.6을 읽었어요.

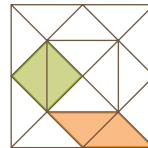
다른 풀이

윤정이가 더 읽어야 할 쪽수는 전체의 $100 - 25 = 75$ (%)의 $1 - 0.6 = 0.4$ 입니다.
 따라서 더 읽어야 하는 쪽수는 $360 \times 0.75 \times 0.4 = 108$ (쪽)

채점 기준	배점
어제와 오늘 읽은 쪽수를 각각 구할 수 있나요?	3점
더 읽어야 하는 쪽수를 구할 수 있나요?	2점

3 접근 >> 칠교판 전체를 가장 작은 삼각형 조각 여러 개로 나누어 봅니다.

칠교판 전체는 오른쪽 그림과 같이 작은 삼각형 조각 16개로 나눌 수 있고, 작은 정사각형과 평행사변형은 각각 작은 삼각형 2개로 이루어져 있습니다.



전체 정사각형의 넓이에 대한 작은 정사각형과 평행사변형 넓이의 합의 비율을 기약분수로 나타내면 $\frac{4}{16} = \frac{1}{4} = \frac{\blacksquare}{\blacktriangle}$ 이므로 $\blacksquare + \blacktriangle = 1 + 4 = 5$ 입니다.

보충 개념

칠교판 전체를 덮으려면 가장 작은 삼각형 조각이 모두 16개 필요해요.

4 93쪽 2번의 변형 심화 유형
접근 >> 주어진 비를 비율로 나타냅니다.

경쟁률이 5 : 1이므로 합격률은 $\frac{1}{5}$ 입니다.

따라서 합격한 학생은 $165 \times \frac{1}{5} = 33$ (명)이므로 불합격한 학생은 $165 - 33 = 132$ (명)입니다.

주의

경쟁률 5 : 1을 1명 중에 5명이라고 생각하지 않도록 해요.

다른 풀이

참가한 학생 수에 대한 불합격한 학생 수의 비는 4 : 5이고 비율은 $\frac{4}{5}$ 이므로
불합격한 학생 수는 $165 \times \frac{4}{5} = 132$ (명)입니다.

5 94쪽 3번의 변형 심화 유형
접근 >> 작년 사과 수확량을 먼저 알아봅시다.

작년 사과 수확량과 배 수확량의 비가 5 : 11이므로 전체 수확량에 대한 사과 수확량의 비율은 $5 : 16 \Rightarrow \frac{5}{16}$ 입니다. 작년 전체 수확량이 640상자이므로 작년 사과 수확량은 $640 \times \frac{5}{16} = 200$ (상자)입니다. 작년 사과 수확량이 200상자이고 올해에는 21% 늘었으므로 늘어난 수확량은 $200 \times 0.21 = 42$ (상자)입니다. 수확량이 42상자 늘어났으므로 올해의 사과 수확량은 $200 + 42 = 242$ (상자)입니다.

다른 풀이

$100 + 21 = 121$ (%)이므로 올해의 사과 수확량은 $200 \times 1.21 = 242$ (상자)입니다.

해결 전략

작년 사과 수확량을 구하고, 작년보다 21% 늘어난 올해 수확량을 구해요.

보충 개념

(사과) : (배) = 5 : 11
 \Rightarrow (사과) : (전체)
= 5 : (5 + 11)
= 5 : 16

6 접근 >> 인구와 인구 밀도를 알면 넓이를 구할 수 있습니다.

㉠ 나라의 인구가 4240000명이고 인구 밀도가 4이므로
(㉠ 나라의 인구 밀도) = $\frac{(\text{인구})}{(\text{넓이})} = \frac{4240000}{(\text{넓이})} = 4$, (넓이) $\times 4 = 4240000$,
(넓이) = 1060000 (km²)입니다.
㉡ 나라의 넓이는 ㉠ 나라의 넓이의 2배이므로
(㉡ 나라의 넓이) = (㉠ 나라의 넓이) $\div 2 = 1060000 \div 2 = 530000$ (km²)입니다.
따라서 ㉡ 나라의 인구 밀도는 $\frac{(\text{인구})}{(\text{넓이})} = \frac{25970000}{530000} = 49$ (명/km²)입니다.

보충 개념

(인구 밀도) = $\frac{(\text{인구})}{(\text{넓이})}$



7 95쪽 4번의 변형 심화 유형
접근 >> 원래 빵 한 개의 가격과 오늘 빵 한 개의 가격을 비교해 봅시다.

예) 3개에 4800원이므로 원래 빵 한 개의 가격은 $4800 \div 3 = 1600$ (원)입니다.
오늘 사면 빵을 한 개 더 주므로 오늘 빵 한 개의 가격은 $4800 \div 4 = 1200$ (원)입니다.
 $1600 - 1200 = 400$ (원)이 할인되므로 오늘 빵 한 개의
할인율은 $\frac{400}{1600} = \frac{1}{4} \Rightarrow \frac{1}{4} \times 100 = 25$ (%)입니다.

주의

할인율을 구할 때, 원래 빵 한 개의 가격인 1600원이 기준량이예요.

채점 기준	배점
오늘 빵 한 개의 할인 금액을 구할 수 있나요?	2점
오늘 빵 한 개의 할인율을 구할 수 있나요?	3점

8 접근 >> 20% 할인된 판매 가격은 원래 가격의 80%입니다.

20% 할인하였으므로 할인된 판매 가격은 원래 가격의 $100 - 20 = 80$ (%)입니다. 원래 가격의 80%가 12000원이므로 원래 가격의 10%는 $12000 \div 8 = 1500$ (원)입니다. 따라서 원래 가격은 $1500 \times 10 = 15000$ (원)입니다.

해결 전략

$$\begin{aligned} & (\text{전체의 } 80\%) \div 8 \\ & \quad = (\text{전체의 } 10\%) \\ & (\text{전체의 } 10\%) \times 10 \\ & \quad = (\text{전체 } 100\%) \end{aligned}$$

지도 가이드

교과 지도서에서는 '비율과 기준량을 알고 있을 때 비교하는 양을 구하거나 비율과 비교하는 양을 알고 있을 때 기준량을 구하는 활동은 이후 비례식을 학습할 때 다루도록' 제한하고 있습니다. 하지만 (비율) = $\frac{\text{비교하는 양}}{\text{기준량}}$ 임을 이해하면 곱셈식을 이용해 충분히 비교하는 양이나

기준량을 구할 수 있고 실생활에서 앞의 두 경우를 자주 접할 수 있어서, 최상위 수학에서는 두 경우를 모두 다루었습니다. 다만 기준량을 구할 때 (기준량) = (비교하는 양) ÷ (비율)을 이용하면, 나누는 수가 소수인 나눗셈이 등장하여 아직 연산이 불가능합니다. 따라서 기준량을 구할 때 전체의 10%나 20%, 25%, 50%가 얼마만큼인지 파악하여, 이 값을 몇 배 하여 전체를 구하는 방법을 사용했습니다. 이 문제는 할인율(비율)과 할인된 판매 가격(비교하는 양)이 주어지고 원래 가격(기준량)을 구하는 경우입니다. 원래 가격의 10%가 얼마인지 알아내, 이 값을 10배하여 원래 가격(100%)을 구하도록 지도해 주세요. 비슷한 문제를 풀 때 20%의 5배, 25%의 4배, 50%의 2배가 100%가 됨을 이용할 수 있습니다.

9 접근 >> 첫 번째로 튀어오른 높이부터 차례대로 구해 봅니다.

공이 떨어진 높이의 60% → 0.6만큼 튀어오르므로 첫 번째로 튀어오른 높이는 $10 \times 0.6 = 6$ (m)입니다. 두 번째로 튀어오른 높이는 첫 번째로 튀어오른 높이의 0.6이므로 $6 \times 0.6 = 3.6$ (m)이고, 세 번째로 튀어오른 높이는 두 번째로 튀어오른 높이의 0.6이므로 $3.6 \times 0.6 = 2.16$ (m)입니다.

해결 전략

$$\begin{aligned} & (\text{첫 번째로 튀어오른 높이}) = \\ & \quad (\text{두 번째로 떨어진 높이}), \\ & (\text{두 번째로 튀어오른 높이}) = \\ & \quad (\text{세 번째로 떨어진 높이}) \end{aligned}$$

10 94쪽 3번의 변형 심화 유형 접근 >> 늘어난 후의 몸무게, 줄인 후의 몸무게를 차례로 구해 봅니다.

몸무게가 50 kg이었던 사람이 몸무게가 10% → 0.1 증가하였으므로 늘어난 후의 몸무게는 $50 + 50 \times 0.1 = 50 + 5 = 55$ (kg)입니다. 55 kg에서 10% → 0.1을 줄였으므로 줄인 후의 몸무게는 $55 - 55 \times 0.1 = 55 - 5.5 = 49.5$ (kg)입니다.

늘기 전 몸무게는 50 kg이었고 줄인 후 몸무게는 49.5 kg이므로 몸무게가 $50 - 49.5 = 0.5$ (kg) 줄었습니다.

50 kg에서 0.5 kg이 줄어든 것이므로 줄인 후 몸무게는 늘기 전 몸무게보다 $0.5 \div 50 = 0.01 \rightarrow 1\%$ 줄어든 것입니다.

주의

늘어난 후의 몸무게가 아니라, 늘기 전 몸무게에 대한 줄인 몸무게의 비율을 생각해야 해요.

보충 개념

50 kg에 대한 0.5 kg의 비율을 분수로 나타내면 $\frac{0.5}{50} = \frac{5}{500} = \frac{1}{100}$ 이므로 1%예요.

다른 풀이

몸무게가 50 kg이었던 사람이 몸무게가 10% 증가하여 110% → 1.1배가 되었으므로 (늘어난 후의 몸무게) = $50 \times 1.1 = 55$ (kg)입니다. 55 kg에서 10% 줄어 90% → 0.9배가 되었으므로 (줄인 후의 몸무게) = $55 \times 0.9 = 49.5$ (kg)입니다. 늘기 전 몸무게는 50 kg이었고 줄인 후 몸무게는 49.5 kg이므로 늘기 전 몸무게에 대한 줄인 후 몸무게를 백분율로 나타내면 $49.5 \div 50 = 0.99 \rightarrow 99\%$ 입니다. 따라서 줄인 후 몸무게는 늘기 전 몸무게보다 1% 줄어든 것입니다.

11 접근 >> 표의 세로에서 연도를 찾고, 표의 가로에서 가구원 수별 비율을 찾습니다.

2005년의 5인 가구 비율이 7.7% → 0.077이므로
 2005년의 5인 가구 수는 $15887000 \times 0.077 = 1223299$ (가구)입니다.
 2015년의 5인 가구 비율이 4.5% → 0.045이므로
 2015년의 5인 가구 수는 $19674000 \times 0.045 = 885330$ (가구)입니다.
 따라서 2015년의 5인 가구 수는 2005년의 5인 가구 수보다
 $1223299 - 885330 = 337969$ (가구) 줄었습니다.

보충 개념

(5인 가구 수)
 $= (\text{총 가구 수}) \times (\text{5인 가구의 비율})$

주의

백분율은 반드시 분수나 소수로 바꾸어 곱해야 해요.

12 97쪽 6번의 변형 심화 유형 접근 >> 물을 더 부어도 소금의 양은 변하지 않습니다.

진하기가 8% → $\frac{8}{100}$ 인 소금물 300g에 녹아 있는 소금의 양은

$$300 \times \frac{8}{100} = 24 \text{ (g)입니다.}$$

더 부은 물의 양을 □g이라 하면 물을 더 넣은 소금물의 진하기는

$$\frac{(\text{소금 양})}{(\text{소금물 양})} = \frac{24}{300 + \square} = \frac{4}{100} \text{이므로}$$

$$\frac{24}{300 + \square} = \frac{24}{600}, 300 + \square = 600, \square = 300 \text{ (g)입니다.}$$

따라서 더 넣은 물의 양은 300g입니다.

해결 전략

더 부은 물의 양을 □g이라 하고 새로 만든 소금물의 진하기를 식으로 나타내 보아요.

13 93쪽 2번의 변형 심화 유형 접근 >> 전체 학생 수의 10%가 몇 명인지 생각해 봅니다.

전체 학생의 20%가 68명이므로 전체 학생의 10%는 $68 \div 2 = 34$ (명)입니다. 즉 전체 학생은 $34 \times 10 = 340$ (명)입니다. 전체 학생 340명 중에 35% → 0.35가 안경을 썼으므로 안경을 쓴 학생은 $340 \times 0.35 = 119$ (명)입니다. 따라서 경훈이네 학교에서 안경을 쓰지 않은 학생은 $340 - 119 = 221$ (명)입니다.

다른 풀이

전체 학생의 20%가 68명이므로 전체 학생은 $68 \times 5 = 340$ (명)입니다. 전체 학생 340명 중에 35%가 안경을 썼으므로 안경을 쓰지 않은 학생은 $100 - 35 = 65$ (%) → 0.65입니다. 따라서 경훈이네 학교에서 안경을 쓰지 않은 학생은 $340 \times 0.65 = 221$ (명)입니다.

보충 개념

전체의 10% ⇨ ■명
 전체 100% ⇨ (■ × 10)명

해결 전략

전체의 10%를 구해 전체 학생 수를 알아내고, 안경을 쓴 학생의 백분율을 이용해 안경을 쓰지 않은 학생 수를 구해요.

14 95쪽 4번의 변형 심화 유형 접근 >> 원가보다 싸게 팔면 손해를 봅니다.

원가의 25% → 0.25인 $4000 \times 0.25 = 1000$ (원)만큼 이익을 붙여서 정가를 $4000 + 1000 = 5000$ (원)으로 정했습니다.

손해를 보지 않으려면 이익만큼인 1000원까지 할인하여 팔 수 있습니다.

따라서 최대 $\frac{1000}{5000} = \frac{1}{5} \rightarrow \frac{1}{5} \times 100 = 20$ (%)까지 할인하여 팔 수 있습니다.

해결 전략

이익만큼인 1000원보다 더 할인하여 팔면 손해를 봐요.

주의

원가가 아니라, 정가에 대한 이익의 비율을 생각해요.

15 접근 » 승용차를 타고 간 거리와 버스를 타고 간 거리는 같습니다.

$$(\text{속력}) = \frac{(\text{간 거리})}{(\text{걸린 시간})} \Rightarrow (\text{간 거리}) = (\text{속력}) \times (\text{걸린 시간}) \text{이므로}$$

승용차를 타고 간 거리는 $60 \times 1.5 = 90$ (km)입니다.

버스를 타고 간 거리도 90 km이고 버스를 타고 가는 데 걸린 시간은 2시간이므로

$$(\text{버스의 속력}) = \frac{(\text{간 거리})}{(\text{걸린 시간})} = \frac{90}{2} = 45 \text{ (km/시)입니다.}$$

버스가 1시간에 45 km를 가므로 1분에는 $45 \div 60 = 0.75$ (km) = 750 (m)를 가는 셈입니다.

지도 가이드

어떤 생물이든 물체의 빠르기, 즉 속력은 걸린 시간에 대한 간 거리의 비율로 나타냅니다. 교과 지도서에서는 '속력을 직접적으로 구하는 문제는 다루지 않도록' 하고 있습니다. 하지만 최상위 수학에서는 $(\text{속력}) = \frac{(\text{간 거리})}{(\text{걸린 시간})}$ 의 식을 간 거리에 대해 나타낼 수 있으면 중등 수준의 속력 문제 일부를 접해 볼 수 있다고 생각하여 level up test에 관련 문제를 출제하였습니다. 이 문제에서는 $(\text{속력}) = \frac{(\text{간 거리})}{(\text{걸린 시간})} \Rightarrow (\text{간 거리}) = (\text{속력}) \times (\text{걸린 시간})$ 을 이용하여 승용차의 속력과 걸린 시간의 곱으로 학교에서 놀이공원까지 거리를 구해야 합니다. 그 다음 버스로 간 거리도 같다는 것을 이용하여 버스의 속력(시속)을 구하고, 구한 시속을 분속으로 바꾸도록 지도해주세요.

해결 전략

승용차의 속력과 걸린 시간을 이용해 간 거리를 구한 다음, 버스로 간 거리와 걸린 시간을 이용해 버스의 속력을 구해요.

보충 개념

1시간 = 60분이므로 1분에는 $45 \div 60 = 0.75$ (km)만큼 가요.

HIGH LEVEL

104~106쪽

1 20, 12

2 64.8kg 이상 72.9kg 미만

3 25.4 %

4 0.24

5 2명

6 2500개

7 $1\frac{1}{3}$ km

8 106000원, 106090원

9 32 %

서술형

1 접근 » 비율을 분수로 나타내면 분모가 기준량, 분자가 비교하는 양이 됩니다.

예) 비율이 60 % $\Rightarrow \frac{60}{100} = \frac{3}{5}$ 이고, $\frac{3}{5} = \frac{6}{10} = \frac{9}{15} = \frac{12}{20} = \dots$ 이므로 이 중

기준량과 비교하는 양의 합이 32인 경우는 $\frac{12}{20}$ 입니다.

따라서 기준량은 20, 비교하는 양은 12입니다.

해결 전략

백분율을 분수로 나타낸 다음, 크기가 같은 분수를 나열하여 분모와 분자의 합이 32가 되는 경우를 찾아요.

채점 기준	배점
백분율을 분수로 나타낼 수 있나요?	1점
기준량과 비교하는 양의 합이 32인 경우를 찾을 수 있나요?	4점

2 접근 » 키가 160 cm인 사람의 표준 몸무게부터 알아봅니다.

키가 160 cm인 사람의 표준 몸무게는 $(160 - 100) \times 0.9 = 60 \times 0.9 = 54$ (kg)입니다. 경도비만 몸무게가 될 수 있는 몸무게의 범위는 표준 몸무게의 120% → 1.2 이상 135% → 1.35 미만이므로 $54 \times 1.2 = 64.8$ (kg) 이상 $54 \times 1.35 = 72.9$ (kg) 미만입니다.

주의

백분율을 소수로 바꾸어 곱해요.

3 접근 » 2016년의 다운로드 수를 몰라도 2년 동안 몇 % 증가했는지는 알 수 있습니다.

2016년의 다운로드 수를 □회라 하면 2017년의 다운로드 수는 2016년보다 14% 증가했으므로 2016년의 114% → 1.14가 됩니다.
 (2017년의 다운로드 수) = □ × 1.14
 2018년의 다운로드 수는 2017년보다 10% 증가했으므로 2017년의 110% → 1.1이 됩니다.
 (2018년의 다운로드 수) = (2017년의 다운로드 수) × 1.1 = □ × 1.14 × 1.1
 = □ × 1.254
 □ × 1.254는 □의 125.4%이므로 2년 동안 다운로드 수가 모두 25.4% 증가한 것입니다.

해결 전략

몇 % 증가했는지를 비율을 곱하여 나타내요.

보충 개념

전체 100%에서 25.4%만큼 증가하면 125.4%가 돼요.

4 접근 » $\frac{\text{㉠}}{\text{㉡}} = \frac{\text{㉠}}{\text{㉢}} \times \frac{\text{㉢}}{\text{㉡}}$

㉠의 ㉢에 대한 비율을 분수로 나타내면 $\frac{\text{㉠}}{\text{㉢}} = \frac{4}{9}$ 이고, ㉡에 대한 ㉢의 비율을 분수로 나타내면 $\frac{\text{㉢}}{\text{㉡}} = 0.54 = \frac{54}{100} = \frac{27}{50}$ 입니다.
 ㉡에 대한 ㉠의 비율은 $\frac{\text{㉠}}{\text{㉡}}$ 이고 이는 $\frac{\text{㉠}}{\text{㉡}} = \frac{\text{㉠}}{\text{㉢}} \times \frac{\text{㉢}}{\text{㉡}}$ 으로 나타낼 수 있습니다.
 따라서 ㉡에 대한 ㉠의 비율은 $\frac{\text{㉠}}{\text{㉡}} = \frac{4}{9} \times \frac{27}{50} = \frac{6}{25} = \frac{24}{100} = 0.24$ 입니다.

해결 전략

주어진 비율과 구하려는 비율을 모두 ㉠, ㉢, ㉡을 이용한 분수로 나타낸 다음, 분수의 곱셈식을 세우고 약분을 이용하여 $\frac{\text{㉠}}{\text{㉡}}$ 의 값을 구해요.

5 접근 » 여학생 수는 변하지 않고 남학생 수만 줄어들었습니다.

올해 남학생과 여학생 수의 비가 8 : 9이므로 전체 학생에 대한 남학생의 비율은 $\frac{8}{17}$, 전체 학생에 대한 여학생의 비율은 $\frac{9}{17}$ 입니다. 올해 전체 학생은 340명이므로 올해 남학생은 $340 \times \frac{8}{17} = 160$ (명), 여학생은 $340 \times \frac{9}{17} = 180$ (명)입니다.
 여학생은 한 명도 전학가지 않았으므로 여학생은 작년에도 180명이었습니다.

보충 개념

전체의 10% → ■명
 전체 100% → (■ × 10)명

작년 전체 학생에 대한 남학생의 비율은 $\frac{9}{19}$, 전체 학생에 대한 여학생의 비율은 $\frac{10}{19}$ 입니다. 전체의 $\frac{10}{19}$ 이 180명이므로 전체의 $\frac{1}{19}$ 은 $180 \div 10 = 18$ (명)이고 전체의 $\frac{9}{19}$ 인 남학생 수는 $18 \times 9 = 162$ (명)입니다. 따라서 올해 전학 간 남학생은 $162 - 160 = 2$ (명)입니다.

해결 전략

올해 여학생 수가 작년과 같음을 이용하여 작년 남학생 수를 구해요.

6 101쪽 8번의 변형 심화 유형
접근 » ■보다 30%만큼 줄어든 양은 ■의 70%와 같습니다.

7월 판매량은 6월 판매량보다 30%만큼 줄었으므로 7월 판매량 875개는 6월 판매량의 $100 - 30 = 70$ (%)와 같습니다. 6월 판매량의 70%가 875개이므로 6월 판매량의 10%는 $875 \div 7 = 125$ (개)입니다. 즉 6월 판매량은 $125 \times 10 = 1250$ (개)입니다.

주의

6월 판매량은 5월 판매량보다 '5월 판매량의' 50%만큼 줄었어요.

6월 판매량은 5월 판매량보다 50%만큼 줄었으므로 5월 판매량의 $100 - 50 = 50$ (%)와 같습니다. 5월 판매량의 50%가 1250개이므로 5월 판매량은 $1250 \times 2 = 2500$ (개)입니다.

7 103쪽 15번의 변형 심화 유형
접근 » 뛰어서 가는 시간이 자전거를 타고 가는 시간보다 20분 더 길다.

$$(\text{속력}) = \frac{(\text{간 거리})}{(\text{걸린 시간})} \Rightarrow (\text{걸린 시간}) = (\text{간 거리}) \div (\text{속력}) = \frac{(\text{간 거리})}{(\text{속력})} \text{이므로}$$

간 거리를 □km라 하면, 뛰어서 가는 데 걸리는 시간은 $\frac{\square}{3}$, 자전거를 타고 가는 데

걸리는 시간은 $\frac{\square}{12}$ 입니다. 뛰어서 가는 것보다 자전거를 타고 가는 것이

$$20\text{분} = \frac{20}{60}\text{시간} = \frac{1}{3}\text{시간 더 빨리 도착하므로}$$

$$(\text{뛰어서 가는 데 걸리는 시간}) - (\text{자전거를 타고 가는 데 걸리는 시간}) = \frac{1}{3}\text{입니다.}$$

$$\frac{\square}{3} - \frac{\square}{12} = \frac{1}{3}, \frac{\square \times 4}{12} - \frac{\square}{12} = \frac{4}{12}, (\square \times 4) - \square = 4,$$

$$\square + \square + \square + \square - \square = 4, \square \times 3 = 4, \square = 4 \div 3 = \frac{4}{3} = 1\frac{1}{3} \text{ (km)입니다.}$$

보충 개념

1시간은 60분이므로

$$\blacksquare \text{분} = \frac{\blacksquare}{60} \text{시간이에요.}$$

해결 전략

(뛰어서 가는 데 걸린 시간) - (자전거로 가는 데 걸린 시간) = 20분

지도 가이드

최상위 수학에서는 $(\text{속력}) = \frac{(\text{간 거리})}{(\text{걸린 시간})}$ 의 식을 시간에 대해 나타낼 수 있으면 중등 수준의 속력 문제 일부를 접해 볼 수 있다고 생각하여 high level에 관련 문제를 출제하였습니다. 이 문제를 풀기 위해서는 뛰어서 가는 데 걸린 시간과 자전거를 타고 가는 데 걸린 시간의 차가 20분임을 식으로 나타내어야 합니다. 이때 $(\text{속력}) = \frac{(\text{간 거리})}{(\text{걸린 시간})} \Rightarrow (\text{걸린 시간}) = \frac{(\text{간 거리})}{(\text{속력})}$ 를 이용하여 걸린 시간을 각각 분수로 나타내는 것이 해결 전략입니다.

8 접근 >> 복리법으로 계산할 때는 1년 후부터 매년 원금이 늘어납니다.

• 단리법으로 계산할 경우

$$(2년 동안의 이자) = (1년 동안의 이자) \times 2$$

$$(2년 동안의 이자) = (100000 \times 0.03) \times 2 = 3000 \times 2 = 6000(\text{원})$$

따라서 2년 후에 찾을 수 있는 금액은 모두 $100000 + 6000 = 106000(\text{원})$ 입니다.

• 복리법으로 계산할 경우

$$(2년 동안의 이자) = (\text{처음 1년 동안의 이자}) + (\text{나중 1년 동안의 이자})$$

$$(2년 동안의 이자) = \underbrace{100000 \times 0.03}_{=3000} + \underbrace{103000 \times 0.03}_{\substack{\text{(원금)} + \text{(처음 1년 동안의 이자)} \\ = 100000 + 3000}} = 3000 + 3090 = 6090(\text{원})$$

따라서 2년 후에 찾을 수 있는 금액은 모두 $100000 + 6090 = 106090(\text{원})$ 입니다.

다른 풀이

• 복리법으로 계산할 경우

$$(1년 후에 찾을 수 있는 금액) = 100000 + 100000 \times 0.03 = 100000 \times 1.03 = 103000(\text{원})$$

$$(2년 후에 찾을 수 있는 금액) = \underbrace{103000}_{\substack{\text{(원금)} + \text{(처음 1년 동안의 이자)}}} + 103000 \times 0.03 = 103000 \times 1.03 = 106090(\text{원})$$

보충 개념

복리법으로 계산할 경우

$$(1년 후의 원금) = (\text{원금})$$

$$+ (\text{처음 1년 동안의 이자})$$

이므로 단리법보다 복리법으로 계산할 때 이자가 많이 붙어요.

9 접근 >> 접은 부분과 넓이가 같은 곳을 찾아봅니다.

$$(\text{전체 직사각형의 넓이}) = 4 \times 5 = 20(\text{cm}^2),$$

$$(\text{빨간색 선으로 표시한 부분의 넓이}) = 20 \times 0.6 = 12(\text{cm}^2)$$

삼각형 $\triangle ABC$ 와 삼각형 $\triangle ADE$ 의 넓이가 같으므로

$$(\text{삼각형 } \triangle ABC \text{의 넓이}) = (20 - 12) \div 2 = 8 \div 2 = 4(\text{cm}^2) \text{입니다.}$$

$$(\text{변 } AB) = (\text{변 } AD) = (\text{변 } BC) = 5 \text{cm} \text{이고}$$

$$(\text{삼각형 } \triangle ABC \text{의 넓이}) = (\text{변 } AB) \times (\text{변 } BC) \div 2 = 4 \text{이므로}$$

$$5 \times (\text{변 } BC) \div 2 = 4, (\text{변 } BC) = 4 \times 2 \div 5, (\text{변 } BC) = 8 \div 5 = 1.6(\text{cm}) \text{입니다.}$$

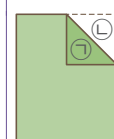
따라서 변 AB 의 길이에 대한 변 BC 의 길이의 비율은 $1.6 \div 5 = 0.32$

$$\rightarrow 0.32 \times 100 = 32(\%) \text{입니다.}$$

해결 전략

접은 부분의 넓이를 이용해 변 BC 의 길이를 구해요.

보충 개념



접었을 때에 생기는 두 삼각형 $\triangle A$ 와 $\triangle B$ 는 합동이에요.

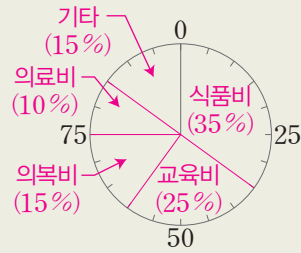
다른 풀이

40명 중 12명이 체육을 좋아하므로 이 표를 전체 길이가 15 cm인 띠그래프로 나타낼 때 체육이 차지하는 길이는 $15 \times \frac{12}{40} = 4.5$ (cm)입니다.

3 원그래프

115쪽

- 1 35 % 2 티셔츠, 바지 3 525명
- 4 7명
- 5 (위에서부터) 25 %, 15 %, 10 %, 15 %
- 6 생활비의 쓰임별 금액



- 1 작은 눈금 한 칸이 5 %를 나타내므로 영국은 20 %, 프랑스는 15 %입니다. $\rightarrow 20 + 15 = 35$ (%)
- 2 치마가 차지하는 백분율은 $100 - (35 + 25 + 15 + 10) = 15$ (%)입니다. 따라서 15 %인 치마보다 더 많이 팔린 옷의 종류는 티셔츠(35 %)와 바지(25 %)입니다.
- 3 학생들이 두 번째로 많이 살고 있는 마을은 나 마을로 나 마을에 살고 있는 학생 수는 $1500 \times \frac{35}{100} = 525$ (명)입니다.
- 4 (치킨을 좋아하는 학생 수) = $140 \times \frac{25}{100} = 35$ (명)
 (떡볶이를 좋아하는 학생 수) = $140 \times \frac{20}{100} = 28$ (명)
 \rightarrow 치킨을 좋아하는 학생이 $35 - 28 = 7$ (명) 더 많습니다.

다른 풀이

치킨을 좋아하는 학생이 $25 - 20 = 5$ (%) 더 많으므로 $140 \times \frac{5}{100} = 7$ (명) 더 많습니다.

5 한 달 전체 생활비는

$70\text{만} + 50\text{만} + 30\text{만} + 20\text{만} + 30\text{만} = 200\text{만원}$ 입니다.

교육비: $\frac{50\text{만}}{200\text{만}} \times 100 = 25$ (%)

의복비: $\frac{30\text{만}}{200\text{만}} \times 100 = 15$ (%)

의료비: $\frac{20\text{만}}{200\text{만}} \times 100 = 10$ (%)

기타: $\frac{30\text{만}}{200\text{만}} \times 100 = 15$ (%)

6 주어진 원그래프의 작은 눈금 한 칸이 5 %를 나타내므로

식품비 35 % \rightarrow 7칸, 교육비 25 % \rightarrow 5칸,
 의복비 15 % \rightarrow 3칸, 의료비 10 % \rightarrow 2칸,
 기타 15 % \rightarrow 3칸이 되도록 선을 그어 원을 나눕니다.

MATH TOPIC

116~124쪽

1-1

동별 쓰레기 배출량



2-1 111500명

3-1 150명

4-1 250명

4-2 18명

5-1 3.2 cm

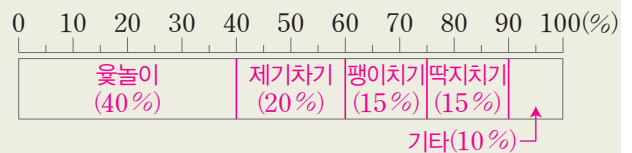
5-2 6 cm

6-1 100명

6-2 39개

7-1

좋아하는 전통놀이





8-1 150잔

8-2 240명

심화 9 90억 / 90억, 4억 5000만 / 4억 5000만

9-1 0.76 %


1-1 는 100 L, 는 10 L를 나타내므로 각 동의 하루 쓰레기 배출량을 알 수 있습니다.


㉠ 동: 140 L, ㉡ 동: 210 L, ㉢ 동: 200 L

네 동의 하루 쓰레기 배출량의 합이 670 L이므로

㉣ 동의 하루 쓰레기 배출량은



$$670 - (140 + 210 + 200) = 120 \text{ (L)입니다.}$$

따라서 ㉣ 동의 하루 쓰레기 배출량은  1개,

 2개로 나타냅니다.

2-1 큰 그림의 수가 가장 많은 지역은 경기도입니다.

10만 명을 나타내는 가 1개, 1만 명을 나타내는

가 1개, 1천 명을 나타내는 가 2개이므로 경기도의 출생아 수는 112000명입니다.

백의 자리에서 반올림한 값이 112000명이므로, 경기도의 실제 출생아 수는 111500명 이상 112500명 미만입니다. 따라서 실제 출생아 수는 적어도 111500명입니다.

3-1 (1학년 중 동물원에 가고 싶은 학생 수)

$$= 150 \times \frac{40}{100} = 60 \text{ (명)}$$

(2학년 중 동물원에 가고 싶은 학생 수)

$$= 200 \times \frac{20}{100} = 40 \text{ (명)}$$

(3학년 중 동물원에 가고 싶은 학생 수)

$$= 250 \times \frac{20}{100} = 50 \text{ (명)}$$

따라서 1, 2, 3학년 전체 학생 중 동물원에 가고 싶은 학생은 모두 $60 + 40 + 50 = 150$ (명)입니다.

4-1 인터넷이 45%, 기타가 5%이므로 TV 또는 신문을 가장 많이 이용하는 사람의 백분율은 $100 - (45 + 5) = 50$ (%)입니다.

신문의 백분율을 □%라 하면 TV의 백분율은

$$(\square \times 4)\% \text{이고, } \square + (\square \times 4) = 50,$$

$$\square + \square + \square + \square + \square = 50, 5 \times \square = 50,$$

$\square = 10$ 이므로 신문을 가장 많이 이용하는 사람의 백분율은 전체의 10%입니다.

따라서 신문을 가장 많이 이용하는 사람 수는

$$2500 \times \frac{10}{100} = 250 \text{ (명)입니다.}$$

4-2 예능 프로그램을 즐겨보는 학생은 음악 프로그램을 즐겨보는 학생의 $\frac{1}{3}$ 이므로 예능 프로그램의 백분율은 $45 \times \frac{1}{3} = 15$ (%)입니다.

만화 프로그램의 백분율은

$$100 - (45 + 15 + 10) = 30 \text{ (%)이므로 만화 프}$$

로그램을 즐겨보는 학생은 $60 \times \frac{30}{100} = 18$ (명)입니다.

5-1 (수첩 값) = $12500 - (5500 + 3000) = 4000$ (원)

$$\text{(수첩 값의 백분율)} = \frac{4000}{12500} \times 100 = 32 \text{ (%)}$$

따라서 전체 길이가 10 cm인 띠그래프로 나타내면 수첩 값이 차지하는 길이는

$$10 \times \frac{32}{100} = 3.2 \text{ (cm)입니다.}$$

5-2 전기요금이 차지하는 길이는 $20 - 11 = 9$ (cm)이

므로 전기요금의 백분율은 $\frac{9}{20} \times 100 = 45$ (%)입니다.

수도요금의 백분율은

$$100 - (45 + 25 + 10) = 20 \text{ (%)입니다.}$$

따라서 전체 길이가 30 cm인 띠그래프로 나타내면 수도요금이 차지하는 길이는

$$30 \times \frac{20}{100} = 6 \text{ (cm)가 됩니다.}$$

6-1 O형이 차지하는 중심각: 108°

$$\rightarrow \text{(O형의 백분율)} = \frac{108^\circ}{360^\circ} \times 100 = 30 \text{ (%)}$$

B형이 차지하는 중심각: 90°

$$\rightarrow \text{(B형의 백분율)} = \frac{90^\circ}{360^\circ} \times 100 = 25 \text{ (%)}$$

A형이 차지하는 중심각: 90°

$$\rightarrow \text{(A형의 백분율)} = \frac{90^\circ}{360^\circ} \times 100 = 25 \text{ (%)}$$

AB형의 백분율은

$$100 - (30 + 25 + 25) = 20 \text{ (%)이므로 AB형은}$$

$$500 \times \frac{20}{100} = 100 \text{ (명)입니다.}$$

다른 풀이

O형이 108°, B형이 90°, A형이 90°를 차지하므로 AB형은 $360^\circ - (108^\circ + 90^\circ + 90^\circ) = 72^\circ$ 를 차지합니다. 따라서 AB형은 $500 \times \frac{72^\circ}{360^\circ} = 100$ (명)입니다.

보충 개념

$$(\text{백분율})(\%) = \frac{(\text{항목의 중심각})}{360^\circ} \times 100$$

6-2 약국이 차지하는 중심각은 144°이므로 약국의 백분율은 $\frac{144^\circ}{360^\circ} \times 100 = 40$ (%)입니다.

한의원 백분율은

$$100 - (40 + 35 + 5 + 5) = 15$$
 (%)이므로

$$\text{한의원은 } 260 \times \frac{15}{100} = 39$$
 (개)입니다.

7-1 팽이치기 또는 딱지치기를 좋아하는 학생은

$100 - (40 + 20 + 10) = 30$ (%)입니다. 팽이치기를 좋아하는 학생과 딱지치기를 좋아하는 학생 수가 같으므로 각각의 백분율은 15 %입니다. 옷놀이 좋아하는 학생은 40 %, 제기차기를 좋아하는 학생은 20 %, 팽이치기를 좋아하는 학생은 15 %, 딱지치기를 좋아하는 학생은 15 %, 기타는 10 %입니다.

보충 개념

주어진 피그그래프에서 작은 눈금 한 칸은 5 %를 나타냅니다.

8-1 커피의 백분율은 $100 - (28 + 20 + 12) = 40$ (%)입니다. 이날 팔린 커피가 60잔이고 이는 전체의 40 %이므로 전체의 10 %는 $60 \div 4 = 15$ (잔)입니다.

전체의 10 %가 15잔이므로 이날 팔린 음료는 모두 $15 \times 10 = 150$ (잔)입니다.

8-2 게임의 백분율은

$$100 - (30 + 29 + 15 + 6) = 20$$
 (%)입니다.

게임을 주로 하는 학생이 160명이고 이는 전체의 20 %이므로 전체의 10 %는 $160 \div 2 = 80$ (명)입니다. 정보 검색을 주로 하는 학생의 백분율은 전체의 30 %이므로 정보 검색을 주로 하는 학생은 $80 \times 3 = 240$ (명)입니다.

보충 개념

$$(\text{전체의 } 10\%) = 80$$
명

$$\Rightarrow (\text{전체의 } 30\%) = 80 \times 3 = 240$$
 (명)

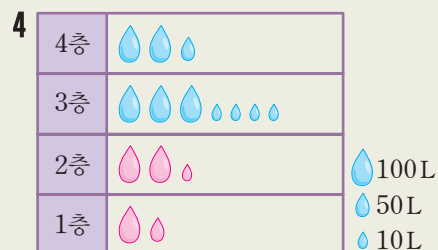
9-1 지구상의 물이 담수와 해수로 이루어져 있고 그 중 해수가 전체의 97.5 %이므로 담수는 전체의 $100 - 97.5 = 2.5$ (%)를 차지합니다. 우리가 일상 생활에서 주로 사용하는 물은 담수 중 지하수와 강과 호수에서 얻은 것이고 이는 담수의 $100 - 69.6 = 30.4$ (%)를 차지합니다.

따라서 지구상의 물 중 우리가 일상 생활에서 사용하는 물은 $0.025 \times 0.304 = 0.0076 = 0.76$ (%)입니다.

LEVEL UP TEST






125~129쪽

- 1 3400대 2 2350 kg 3 50억 6000만 명
- 5 135명 6 @ 7 63명
- 8 33명 9 고령 사회 10 28명
- 11 10500 t 12 35명 13 닭
- 14 60편



1 116쪽 1번의 변형 심화 유형

접근 >> 먼저 그림이 크기별로 각각 몇 대를 나타내는지 알아봅시다.

㉠ 도시의 차량이 4700대이므로 는 1000대, 는 500대, 는 100대를 나타냅니다. 차량이 가장 적은 도시는 큰 그림의 수가 가장 적은 ㉡ 도시입니다. ㉡ 도시의 차량 수는 가 3개, 가 4개이므로 3400대입니다.

보충 개념

큰 그림의 수가 많을수록 수량이 커요.

2

접근 >> 두 사람이 각각 어떤 그림을 몇으로 잘못 알고 있는지 따져 봅니다.

각자 잘못 본 경우를 제외하고 , , 의 양을 몇으로 보고 읽었는지 알아봅시다.
























• 유빈: 를 500 kg으로 읽고, 를 100 kg으로 읽고 를 50 kg으로 읽었습니다.

→ 이 나타내는 양만 잘못 읽었으므로 는 100 kg, 는 50 kg을 나타냅니다.

• 상범: 를 1000 kg으로 읽고, 를 500 kg으로 읽고, 를 50 kg으로 읽었습니다.

→ 이 나타내는 양만 잘못 읽었으므로 는 1000 kg, 는 50 kg을 나타냅니다.

따라서 은 1000 kg, 은 100 kg, 은 50 kg을 나타내므로

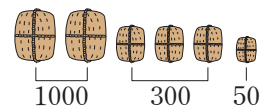
                       은 2350 kg을 나타냅니다.

해결 전략

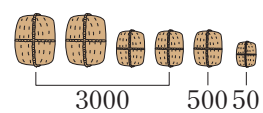
두 사람이 바르게 알고 있는 그림을 골라 이용해요.

보충 개념

• 유빈이가 읽은 방법



• 상범이가 읽은 방법



3 117쪽 2번의 변형 심화 유형

접근 >> 백만의 자리에서 반올림하면 천만의 자리까지 나타낼 수 있습니다.

백만의 자리에서 반올림한 인구는 아시아는 42억 4000만 명, 유럽은 8억 3000만 명입니다. 즉 아시아의 실제 인구의 범위는 42억 3500만 명 이상 42억 4500만 명 미만이고, 유럽의 실제 인구의 범위는 8억 2500만 명 이상 8억 3500만 명 미만입니다. 따라서 아시아 대륙과 유럽 대륙의 인구의 합은 적어도 $42\text{억 } 3500\text{만} + 8\text{억 } 2500\text{만} = 50\text{억 } 6000\text{만(명)}$ 입니다.

주의




그림그래프에 나타낸 양은 반올림한 값이에요.

보충 개념

백만의 자리 숫자가 5 이상이면 올림하고, 5 미만이면 버림해요.






4 116쪽 1번의 변형 심화 유형

접근 >> 먼저 3층과 4층의 물 사용량을 알아봅시다.

는 100 L, 는 50 L, 는 10 L를 나타내므로 3층의 물 사용량은 340 L이고 4층의 물 사용량은 250 L입니다. 1층에서 사용한 물의 양을 □ L라 하면, 2층에서 사용한 물의 양은 (□+60) L라 할 수 있습니다. 이 빌라에서 사용한 물의 양의 합이 950 L이므로 $\square + (\square + 60) + 340 + 250 = 950$, $\square + \square + 650 = 950$, $\square + \square = 300$, $\square = 150$ (L)입니다.

해결 전략

1층에서 사용한 물의 양을 □ L, 2층에서 사용한 물의 양을 (□+60) L로 나타내어 식을 세워 봐요.

1층에서는 물을 150 L 사용했으므로   으로 나타내고, 2층에서는 물을 $150 + 60 = 210$ (L) 사용했으므로    으로 나타냅니다.

5 118쪽 3번의 변형 심화 유형
접근 >> “어려운 편이다”라고 답한 사람이 몇 명인지 알아봅시다.

“어려운 편이다”라고 답한 사람의 수는 $300 \times \frac{14}{100} = 42$ (명)이고

“적당하다”라고 답한 사람의 수는 $300 \times \frac{38}{100} = 114$ (명)입니다.

따라서 “어려운 편이다”라고 답한 사람의 절반이 “적당하다”라고 고쳐 답하면 “적당하다”라고 답한 사람의 수는 $114 + 42 \div 2 = 135$ (명)이 됩니다.

다른 풀이

“어려운 편이다”라고 답한 사람의 백분율이 전체의 14 %이므로 절반은 전체의 7 %입니다. “어려운 편이다”라고 답한 사람의 절반이 “적당하다”라고 고쳐 답하면 “적당하다”라고 답한 사람의 백분율이 $38 + 7 = 45$ (%)가 되므로, “적당하다”라고 답한 사람의 수는 $300 \times \frac{45}{100} = 135$ (명)이 됩니다.

보충 개념

(전체의 ■ %인 항목의 양)
 $=$ (전체 자료의 양) $\times \frac{\blacksquare}{100}$

6 접근 >> 원그래프에서 눈금 한 칸이 나타내는 백분율을 알아봅시다.

게임기를 받고 싶어하는 학생이 전체 340명 중 51명이므로

$$\frac{51}{340} \times 100 = 15 \text{ (%)}$$

주어진 원그래프에서 눈금 한 칸의 크기가 5 %이므로 게임기를 받고 싶어하는 학생을 나타낸 부분은 눈금 $15 \div 5 = 3$ (칸)을 차지하는 ⊙입니다.

보충 개념

25 %가 눈금 5개로 나누어져 있으므로 눈금 한 칸은 $25 \div 5 = 5$ (%)를 나타내요.

121쪽 6번의 변형 심화 유형

7 접근 >> (백분율)(%) = $\frac{\text{항목의 중심각}}{360^\circ} \times 100$

이순신 장군을 존경하는 학생의 백분율은 $\frac{90^\circ}{360^\circ} \times 100 = 25$ (%), 세종대왕을 존경

하는 학생의 백분율은 $100 - (25 + 20 + 10 + 15) = 30$ (%)이므로 세종대왕과 이순신 장군을 존경하는 학생의 백분율의 차는 $30 - 25 = 5$ (%)입니다. 따라서 세종대왕을 존경하는 학생은 이순신 장군을 존경하는 학생보다

$$1260 \times \frac{5}{100} = 63 \text{ (명) 더 많습니다.}$$

다른 풀이

이순신 장군을 존경하는 학생의 백분율은 $\frac{90^\circ}{360^\circ} \times 100 = 25$ (%), 세종대왕을 존경하는 학생의 백분율은 $100 - (25 + 20 + 10 + 15) = 30$ (%)입니다.

해결 전략

세종대왕을 존경하는 학생의 백분율과 이순신 장군을 존경하는 학생의 백분율의 차를 이용하여 학생 수의 차를 구해요.

즉 이순신 장군을 존경하는 학생은 $1260 \times \frac{25}{100} = 315$ (명)이고 세종대왕을 존경하는 학생은 $1260 \times \frac{30}{100} = 378$ (명)입니다. 따라서 세종대왕을 존경하는 학생은 이순신 장군을 존경하는 학생보다 $378 - 315 = 63$ (명) 더 많습니다.

8 접근 >> 전체의 백분율은 100 %입니다.

예) 콜라를 좋아하는 학생의 백분율은 $100 - (40 + 15 + 10 + 10) = 25$ (%)입니다. 전체의 25 %가 55명이므로 전체 학생 수는 $55 \times 4 = 220$ (명)입니다. 따라서 주스를 좋아하는 학생은 $220 \times \frac{15}{100} = 33$ (명)입니다.

보충 개념
 $(\text{전체의 } 25\%) \times 4$
 $= (\text{전체 } 100\%)$

채점 기준	배점
전체 학생 수를 구할 수 있나요?	3점
주스를 좋아하는 학생 수를 구할 수 있나요?	2점

9 접근 >> 14세 이하 인구와 65세 이상 인구의 백분율을 각각 알아봅니다.

15세 이상 64세 이하 백분율이 75 %이므로 14세 이하 백분율과 65세 이상 백분율의 합은 $100 - 75 = 25$ (%)입니다.
 65세 이상 백분율이 14세 이하 백분율의 1.5배이므로 14세 이하 백분율은 10 %이고, 65세 이상 백분율은 15 %가 됩니다.
 따라서 2020년에 우리나라는 UN이 정한 기준 중에서 고령 사회에 속하게 됩니다.

보충 개념
 ■가 ▲의 1.5배이면
 $1.5 = \frac{15}{10} = \frac{3}{2}$ 이므로
 ■ : ▲ = 3 : 2예요.
 15% 10%

10 접근 >> 먼저 원그래프를 보고 약기를 배우고 싶은 학생 수를 알아봅니다.

예) 방학 동안 약기를 배우고 싶은 학생은 280명 중 40 %이므로 $280 \times \frac{40}{100} = 112$ (명)입니다. 따라서 방학 동안 관악기를 배우고 싶은 학생은 112명 중 25 %이므로 $112 \times \frac{25}{100} = 28$ (명)입니다.

해결 전략
 원그래프에서 약기를 배우고 싶은 학생 수를 구하고, 띠그래프에서 그중 관악기를 배우고 싶은 학생 수를 구해요.

채점 기준	배점
방학 동안 약기를 배우고 싶은 학생 수를 구할 수 있나요?	2점
방학 동안 관악기를 배우고 싶은 학생 수를 구할 수 있나요?	3점

지도 가이드

주어진 원그래프는 전체 학생 수를 100 %로 본 것이고, 띠그래프는 그중 약기를 배우고 싶은 학생 수를 100 %로 본 것입니다. 원그래프에서 약기를 배우고 싶은 학생 수를 구한 다음, 그만큼을 100 %로 생각하고 띠그래프에 적용하도록 지도해 주세요.

11 124쪽 9번의 변형 심화 유형

접근 >> 먼저 왼쪽 원그래프를 보고 음식물 쓰레기의 양을 알아봅니다.

$$(\text{생활폐기물 중 음식물의 양}) = 50000 \times \frac{30}{100} = 15000 \text{ (t)}$$

$$(\text{가정 또는 소형 음식점에서 버려지는 음식물 쓰레기의 백분율}) = \frac{252^\circ}{360^\circ} \times 100 = 70 \text{ (\%)}$$

$$(\text{가정 또는 소형 음식점에서 버려지는 음식물 쓰레기의 양}) = 15000 \times \frac{70}{100} = 10500 \text{ (t)}$$

해결 전략

먼저 음식물 쓰레기의 양을 구하고, 음식물 쓰레기의 양 중 가정·소형 음식점에서 버려진 양을 구해요.

보충 개념

$$(\text{백분율})(\%) = \frac{(\text{항목의 중심각})}{360^\circ} \times 100$$

12 접근 >> 영화 감상과 미술의 백분율의 차부터 알아봅니다.

영화 감상이 피그래프의 전체 길이 15 cm 중 4.5 cm를 차지하므로 영화 감상의 백분율은 $4.5 \div 15 \times 100 = 30 \text{ (\%)}$ 입니다. 영화 감상의 백분율은 30 %, 미술의 백분율은 15 %이므로 영화 감상을 좋아하는 학생은 미술을 좋아하는 학생보다 $30 - 15 = 15 \text{ (\%)}$ 더 많습니다. 전체의 15 %가 21명이므로 전체의 5 %는 $21 \div 3 = 7 \text{ (명)}$ 이고, 전체의 5 %가 7명이므로 전체 학생 수는 $7 \times 20 = 140 \text{ (명)}$ 입니다. 과학 탐구의 백분율은 $100 - (30 + 25 + 15 + 5) = 25 \text{ (\%)}$ 이므로 과학 탐구를 좋아하는 학생은 $140 \times \frac{25}{100} = 35 \text{ (명)}$ 입니다.

보충 개념

$$\begin{aligned} (\text{전체의 } 15 \%) \div 3 &= (\text{전체의 } 5 \%) \\ (\text{전체의 } 5 \%) \times 20 &= (\text{전체 } 100 \%) \end{aligned}$$

13 접근 >> 전체의 백분율은 100 %입니다.

소의 백분율은 $100 - (27 + 18 + 15) = 40 \text{ (\%)}$ 입니다.

소는 120마리이고, 이는 전체의 40 %이므로 전체의 10 %는 $120 \div 4 = 30 \text{ (마리)}$ 이고, 전체는 $30 \times 10 = 300 \text{ (마리)}$ 입니다.

54마리인 가축의 백분율은 $\frac{54}{300} \times 100 = 18 \text{ (\%)}$ 이므로 54마리인 가축은 원그래프에서 18 %를 차지하는 닭입니다.

다른 풀이

소는 120마리이고, 이는 전체의 40 %이므로 전체의 1 %는 $120 \div 40 = 3 \text{ (마리)}$ 입니다. 따라서 54마리인 가축은 $54 \div 3 = 18 \text{ (\%)}$ 를 차지하는 닭입니다.

해결 전략

전체의 10 %가 몇 마리인지 알아내어 전체 마리 수를 구해요.

14 접근 >> 항목의 양과 백분율을 알면 전체량을 구할 수 있습니다.

$$(\text{만화 영화의 백분율}) = \frac{1}{5} \times 100 = 20 \text{ (\%)},$$

$$(\text{액션 영화의 백분율}) = 20 \times 1.3 = 26 \text{ (\%)},$$

(드라마의 백분율) = $100 - (26 + 20 + 8 + 6) = 40$ (%)이므로 가장 많이 방영한 장르는 드라마입니다. 공상 과학 영화는 12편이고, 이는 전체의 8%이므로 전체의 40%는 $12 \times 5 = 60$ (편)입니다. 따라서 드라마는 60편 방영하였습니다.

다른 풀이

(만화 영화의 백분율) = $\frac{1}{5} \times 100 = 20$ (%), (액션 영화의 백분율) = $20 \times 1.3 = 26$ (%),
 (드라마의 백분율) = $100 - (26 + 20 + 8 + 6) = 40$ (%)
 12편의 백분율이 전체의 8%이므로 전체의 80%는 120편이고,
 전체의 10%는 $120 \div 8 = 15$ (편), 전체는 $15 \times 10 = 150$ (편)입니다.
 따라서 가장 많이 방영한 장르는 드라마이고, 드라마는 $150 \times \frac{40}{100} = 60$ (편) 방영하였습니다.

해결 전략

공상 과학의 백분율을 이용하여 전체 편수를 구하고, 드라마의 백분율을 이용하여 드라마의 편수를 구해요.

HIGH LEVEL 130~132쪽

1 42 %	2	3 65 %			
4 주혜, $\frac{1}{2}$	5 48명	6 210권	7 17.5 cm	8 8 cm	9 1.8 kg

1 접근 >> 두 항목의 양의 비가 7 : 4이면 두 항목의 백분율의 비도 7 : 4입니다.

(강아지 또는 고양이의 백분율) = $100 - (14 + 12 + 8) = 66$ (%)
 강아지의 백분율을 $(7 \times \square)$ %라 하면 고양이의 백분율은 $(4 \times \square)$ %이므로
 $7 \times \square + 4 \times \square = 66$, $11 \times \square = 66$, $\square = 6$ 입니다.
 따라서 강아지가 차지하는 백분율은 $7 \times 6 = 42$ (%)입니다.

해결 전략

강아지의 백분율을 $(7 \times \square)$ %, 고양이의 백분율을 $(4 \times \square)$ %로 나타내요.

120쪽 5번의 변형 심화 유형

2 접근 >> (백분율)(%) = $\frac{\text{항목이 차지하는 길이}}{\text{띠그래프 전체 길이}} \times 100$

$\textcircled{1} + \textcircled{2} = 100 - (\textcircled{3} + \textcircled{4}) = 100 - (15 + 10) = 75$ (%)입니다.
 길이가 20 cm인 띠그래프에서 3 cm를 차지하는 백분율은 $\frac{3}{20} \times 100 = 15$ (%)이므로 $\textcircled{1}$ 은 $\textcircled{2}$ 보다 15% 더 많습니다. 따라서 $\textcircled{1}$ 의 백분율은 45%, $\textcircled{2}$ 의 백분율은 30%입니다.

보충 개념

$75 - 15 = 60$ (%)이고 60%의 반은 30%이므로 $\textcircled{1}$ 은 $30 + 15 = 45$ (%), $\textcircled{2}$ 은 30%예요.



3 121쪽 6번의 변형 심화 유형

접근 >> 5학년의 백분율을 먼저 알아봅시다.

예 4학년과 5학년이 차지하는 중심각의 크기의 합이 90° 이므로 4학년과 5학년 학생의 백분율은 $\frac{90^\circ}{360^\circ} \times 100 = 25(\%)$ 입니다.

4학년 학생의 백분율은 10%이므로 5학년 학생의 백분율은 $25 - 10 = 15(\%)$ 입니다.

6학년 또는 5학년 학생의 백분율이 80%이므로 6학년 학생의 백분율은 $80 - 15 = 65(\%)$ 입니다.

다른 풀이

참가한 학생 중 4학년의 백분율은 10%이므로 4학년이 차지하는 중심각은

$$360^\circ \times \frac{10}{100} = 36^\circ \text{입니다.}$$

4학년과 5학년이 차지하는 중심각의 크기의 합이 90° 이므로 5학년이 차지하는 중심각은

$$90^\circ - 36^\circ = 54^\circ \text{이고, 이는 전체의 } \frac{54^\circ}{360^\circ} \times 100 = 15(\%) \text{입니다.}$$

6학년 또는 5학년의 백분율이 80%이므로 6학년 학생의 백분율은 $80 - 15 = 65(\%)$ 입니다.

해결 전략

4학년과 5학년이 차지하는 중심각을 이용하여 5학년의 백분율을 구하고, 5학년 백분율을 이용하여 6학년의 백분율을 구해요.

보충 개념

$$\text{(항목의 중심각)} \\ = 360^\circ \times (\text{백분율})$$

채점 기준	배점
5학년 학생의 백분율을 구할 수 있나요?	3점
6학년 학생의 백분율을 구할 수 있나요?	2점

4 접근 >> 세 사람의 용돈과 저축 금액을 각각 알아봅시다.

세 사람의 용돈의 합계는 50000원이므로 다운이의 용돈은

$$50000 \times \frac{28}{100} = 14000 \text{ (원)}, \text{ 주혜의 용돈은 } 50000 \times \frac{32}{100} = 16000 \text{ (원)}, \text{ 신우}$$

의 용돈은 $50000 \times \frac{40}{100} = 20000 \text{ (원)}$ 입니다.

세 사람의 저축 금액의 합계는 20000원이므로 다운이의 저축 금액은

$$20000 \times \frac{20}{100} = 4000 \text{ (원)}, \text{ 주혜의 저축 금액은 } 20000 \times \frac{40}{100} = 8000 \text{ (원)},$$

신우의 저축 금액은 $20000 \times \frac{40}{100} = 8000 \text{ (원)}$ 입니다.

용돈에 대한 저축 금액의 비율을 각각 분수로 나타내 보면

$$\text{다운이는 } \frac{4000}{14000} = \frac{2}{7}, \text{ 주혜는 } \frac{8000}{16000} = \frac{1}{2}, \text{ 신우는 } \frac{8000}{20000} = \frac{2}{5} \text{입니다.}$$

$\frac{2}{7} < \frac{2}{5} < \frac{1}{2}$ 이므로 용돈에 대한 저축 금액의 비율이 가장 큰 사람은 주혜이고 그

비율을 기약분수로 나타내면 $\frac{1}{2}$ 입니다.

보충 개념

주혜와 신우는 저축 금액이 8000원으로 같지만, 주혜의 용돈이 더 적으므로 용돈에 대한 저축 금액의 비율은 주혜가 더 커요.

5 120쪽 5번의 변형 심화 유형
접근 » 원그래프의 눈금 한 칸이 나타내는 백분율을 알아봅시다

원을 40등분하면 눈금 한 칸은 $100 \div 40 = 2.5$ (%)를 나타내므로 눈금 5칸은 $2.5 \times 5 = 12.5$ (%)를 나타냅니다.

전체의 12.5%가 20명이므로 전체 학생 수는 $20 \times 8 = 160$ (명)입니다.

전체 길이가 30 cm인 띠그래프에서 9 cm를 차지하는 백분율은

$\frac{9}{30} \times 100 = 30$ (%)이므로 9 cm를 차지하는 항목은 $160 \times \frac{30}{100} = 48$ (명)을 나타냅니다.

보충 개념

$$\begin{aligned} & (\text{전체의 } 12.5\%) \times 8 \\ & = (\text{전체 } 100\%) \end{aligned}$$

지도 가이드

원그래프는 항목의 중심각의 크기로 자료의 크기를 비교할 수 있습니다. 교과서에서 다루는 원그래프는 대부분 원을 20등분한 것으로, 눈금 한 칸이 $100 \div 20 = 5$ (%)를 나타내며 $360^\circ \div 20 = 18^\circ$ 를 차지합니다. 이 문제에서는 원을 40등분했으므로 눈금 한 칸이 $100 \div 40 = 2.5$ (%)를 나타내며 $360^\circ \div 40 = 9^\circ$ 를 차지합니다. 전체의 백분율이 100%이고 원의 중심각이 360° 임을 이용하면 원을 몇 등분하더라도 눈금 한 칸이 나타내는 백분율과 각도를 알 수 있다는 사실을 알려주세요. 또한 문제를 풀 때, 주어진 12.5%만큼을 몇 배 해야 100%가 되는지 스스로 생각해 볼 수 있도록 도와주세요. 12.5%의 2배인 25%는 4배 해야 100%가 됩니다.

6 **접근** » 항목의 수가 2배이면 항목의 백분율도 2배가 됩니다.

학습 만화의 백분율이 20%이므로 동화책 수가 학습 만화 수의 2배가 되려면 동화책의 백분율이 40%만큼이 되어야 합니다. 동화책을 10권 더 꺾었더니 백분율이 5% 늘어났으므로 10권은 전체의 5%입니다.

전체의 5%가 10권이므로 전체의 10%는 $10 \times 2 = 20$ (권)이고, 어제 보라의 책꽂이에 있는 전체 책의 권수는 $20 \times 10 = 200$ (권)입니다.

오늘 10권을 더 구입했으므로 오늘 보라의 책꽂이에 있는 책은 모두 $200 + 10 = 210$ (권)입니다.

해결 전략

동화책 10권이 전체의 몇 %를 차지하는지 알아봐요.

7 **접근** » 피구를 좋아하는 남학생 수를 이용하여 전체 남학생 수를 알아봅시다.

띠그래프에서 피구의 백분율은 남학생 전체의 20%이고 이는 48명이므로 전체 남학생 수는 $48 \times 5 = 240$ (명)입니다. 원그래프에서 남학생의 백분율은 전체의 60%이고 이는 240명이므로 전체의 10%는 $240 \div 6 = 40$ (명)이고 전체 학생은 $40 \times 10 = 400$ (명)입니다.

전체 학생이 400명이고 남학생이 240명이므로 여학생은 $400 - 240 = 160$ (명)이고, 여학생 160명 중 피구를 좋아하는 학생은 56명이므로 백분율은

$\frac{56}{160} \times 100 = 35$ (%)입니다.

보충 개념

$$\begin{aligned} & (\text{전체의 } 20\%) = \blacksquare \text{명} \\ & (\text{전체 } 100\%) = (\blacksquare \times 5) \text{명} \end{aligned}$$

해결 전략

전체 남학생의 수 ⇨ 전체 학생 수 ⇨ 전체 여학생의 수 ⇨ 피구를 좋아하는 여학생의 백분율 순서로 구해요.

따라서 전체 길이가 50 cm인 띠그래프에서 35 %를 차지하는 항목의 길이는

$$50 \times \frac{35}{100} = 17.5 \text{ (cm)입니다.}$$

8 접근 » 왼쪽 원그래프는 전체의 40 %를 제외한 60 %를 전체로 보고 그린 것입니다.

콩 전체 무게의 40 %가 수분이므로 수분을 제외한 나머지 성분의 무게는 전체의 60 %입니다. 즉 수분을 포함한 콩 전체 무게 중 탄수화물이 차지하는 백분율은

$$\frac{60}{100} \times \frac{30}{100} = \frac{18}{100} = 18 \% \text{입니다.}$$

띠그래프에서 전체의 18 %가 차지하는 길이가 36 mm이므로 1 %가 차지하는 길이는 $36 \div 18 = 2$ (mm)입니다. 콩 전체 무게의 40 %가 수분이므로 띠그래프에서 수분이 차지하는 길이는 $2 \times 40 = 80$ (mm) = 8 (cm)입니다.

주의

주어진 원그래프는 수분을 포함하지 않고 있어요.

해결 전략

콩 전체 무게 중 탄수화물의 백분율만큼이 차지하는 길이를 이용하여 전체의 40 %인 수분이 차지하는 길이를 구해요.

9 접근 » 오른쪽 원그래프는 전체의 90 %를 제외한 10 %를 전체로 보고 그린 것입니다.

$$\text{(콩 200 g에 든 단백질의 양)} = 200 \times \frac{60}{100} \times \frac{30}{100} = 36 \text{ (g)}$$

$$\text{(토마토 100 g에 든 단백질의 양)} = 100 \times \frac{10}{100} \times \frac{20}{100} = 2 \text{ (g)}$$

$36 \div 2 = 18$ 이므로 토마토를 100 g의 18배인 $100 \times 18 = 1800$ (g) = 1.8 (kg) 먹어야 합니다.

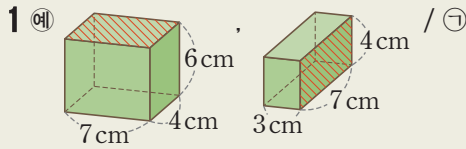
해결 전략

토마토 100 g에 든 단백질의 양을 단위로 하여, 콩 200 g에 든 단백질의 양과 비교해요.

6 직육면체의 부피와 겉넓이

BASIC TEST

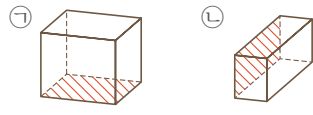
1 직육면체의 부피 137쪽



- 2 (1) 90 cm^3 (2) 64 cm^3
 3 343 cm^3 4 4
 5 125 cm^3 6 8배

1 직접 맞대어 비교하려면 가로, 세로, 높이 중에서 두 종류 이상의 길이가 같아야 합니다. ㉠과 ㉡의 모서리를 살펴보면 7 cm와 4 cm의 길이가 각각 같으므로 가로가 7 cm, 세로가 4 cm인 면끼리 맞대어 부피를 비교할 수 있습니다. 빗금 친 면을 맞대어 보면, 나머지 한 모서리의 길이가 ㉠은 6 cm, ㉡은 3 cm이므로 부피가 더 큰 상자는 ㉠입니다.

다른 답



- 2 (1) 부피가 1 cm^3 인 쌓기나무가 $6 \times 5 \times 3 = 90$ (개) 있으므로 직육면체의 부피는 90 cm^3 입니다.
 (2) 부피가 1 cm^3 인 쌓기나무가 $4 \times 4 \times 4 = 64$ (개) 있으므로 정육면체의 부피는 64 cm^3 입니다.
 3 $49 = 7 \times 7$ 이므로 정육면체의 한 모서리의 길이는 7 cm입니다.
 → (정육면체의 부피) = $7 \times 7 \times 7 = 343 (\text{cm}^3)$
 4 높이를 □ cm라 하면 $12 \times 14 \times \square = 672$, $168 \times \square = 672$,
 $\square = 4 (\text{cm})$ 입니다.
 5 정육면체는 가로, 세로, 높이가 모두 같으므로 켈리

의 가장 짧은 모서리의 길이인 5 cm를 정육면체의 한 모서리의 길이로 해야 합니다.
 따라서 만들 수 있는 가장 큰 정육면체 모양의 부피는 $5 \times 5 \times 5 = 125 (\text{cm}^3)$ 입니다.

6 (정육면체의 부피) = (한 모서리의 길이) × (한 모서리의 길이) × (한 모서리의 길이)이므로 모든 모서리의 길이를 각각 2배로 늘이면 처음 부피의 $2 \times 2 \times 2 = 8$ (배)가 됩니다.

다른 풀이

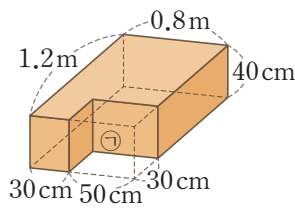
한 모서리의 길이가 9 cm인 정육면체의 부피는 $9 \times 9 \times 9 = 729 (\text{cm}^3)$ 이고 모든 모서리의 길이를 각각 2배로 늘인 정육면체의 부피는 $18 \times 18 \times 18 = 5832 (\text{cm}^3)$ 입니다. 따라서 각 모서리의 길이를 2배로 늘이면 부피는 $5832 \div 729 = 8$ (배)가 됩니다.

2 부피의 단위 139쪽

- 1 ㉢
 2 **방법 1** 400, 400, 400 / 64000000, 64
방법 2 4, 4, 4 / 64
 3 0.3 m^3 4 60 5 324000 cm^3
 6 (1) 1000 cm^3 (2) 1.6 m^3 (3) 240 m^3 에 ○표

- 1 ㉢ $4000000 \text{ cm}^3 = 4 \text{ m}^3$
 2 **방법 1** $400 \times 400 \times 400 = 64000000 (\text{cm}^3) \rightarrow 64 \text{ m}^3$
방법 2 정육면체의 한 모서리의 길이가 400 cm = 4 m이므로 부피는 $4 \times 4 \times 4 = 64 (\text{m}^3)$ 입니다.
 3 $1 \text{ m}^3 = 1000000 \text{ cm}^3$ 이므로 지수의 침대의 부피는 $2100000 \text{ cm}^3 = 2.1 \text{ m}^3$ 입니다.
 따라서 두 침대의 부피의 차는 $2.1 - 1.8 = 0.3 (\text{m}^3)$ 입니다.
 4 $0.09 \text{ m}^3 = 90000 \text{ cm}^3$ 이므로 $50 \times 30 \times \square = 90000$, $\square = 90000 \div 50 \div 30$,
 $\square = 60 (\text{cm})$ 입니다.

5 주어진 입체도형은 오른쪽과 같이 큰 직육면체에서 작은 직육면체를 잘라낸 것과 같은 모양입니다.



(전체 직육면체의 부피) = $0.8 \times 1.2 \times 0.4$
 $= 0.384 \text{ (m}^3\text{)}$
 $\rightarrow 384000 \text{ cm}^3$

(㉠의 부피) = $50 \times 30 \times 40 = 60000 \text{ (cm}^3\text{)}$

→ (주어진 입체도형의 부피)
 $= (\text{전체 직육면체의 부피}) - (\text{㉠의 부피})$
 $= 384000 - 60000 = 324000 \text{ (cm}^3\text{)}$

보충 개념

(㉠의 가로) = $0.8 \text{ m} - 30 \text{ cm}$
 $= 80 \text{ cm} - 30 \text{ cm} = 50 \text{ cm}$

- 6 (1) 벽돌을 정육면체로 생각하면 한 모서리의 길이가 약 10 cm이므로 벽돌의 부피는 약 $10 \times 10 \times 10 = 1000 \text{ (cm}^3\text{)}$ 입니다.
 (2) 냉장고를 정육면체로 생각하면 한 모서리의 길이가 약 1 m이므로 냉장고의 부피는 약 $1 \times 1 \times 1 = 1 \text{ (m}^3\text{)}$ 입니다.
 (3) 교실 바닥의 가로는 약 8 m, 세로는 약 10 m, 높이는 약 3 m이므로 교실의 부피는 약 $8 \times 10 \times 3 = 240 \text{ (m}^3\text{)}$ 입니다.

3 직육면체의 겉넓이

141쪽

- 1 216 cm^2 2 142 cm^2 3 ㉡
 4 2 5 170 cm^2 6 10 cm

- 1 정육면체는 여섯 면이 합동입니다.
 (정육면체의 겉넓이) = (한 면의 넓이) $\times 6$
 $= 36 \times 6 = 216 \text{ (cm}^2\text{)}$
- 2 (직육면체의 겉넓이)
 $= (\text{한 꼭짓점에서 만나는 세 면의 넓이의 합}) \times 2$
 $= (7 \times 5 + 5 \times 3 + 7 \times 3) \times 2$
 $= 142 \text{ (cm}^2\text{)}$

3 (㉡의 겉넓이) = $(4 \times 4) \times 6 = 96 \text{ (cm}^2\text{)}$
 (㉣의 겉넓이) = $(5 \times 4 + 4 \times 3 + 5 \times 3) \times 2$
 $= 94 \text{ (cm}^2\text{)}$

따라서 $96 > 94$ 이므로 ㉡의 겉넓이가 더 넓습니다.

4 (직육면체의 겉넓이)
 $= (7 \times 4 + 4 \times \square + 7 \times \square) \times 2 = 100,$
 $28 + 4 \times \square + 7 \times \square = 50,$
 $28 + \square \times 11 = 50, \square \times 11 = 22, \square = 2 \text{ (cm)}$

보충 개념

$4 \times \square = \square \times 4 = \square + \square + \square + \square$
 $7 \times \square = \square \times 7 = \square + \square + \square + \square + \square + \square + \square$ → $\square \times 11$

5 ★ 표시된 면은 정사각형이고 $25 = 5 \times 5$ 이므로 가로와 세로는 각각 5 cm입니다.

(직육면체의 겉넓이)
 $= (5 \times 5 + 5 \times 6 + 5 \times 6) \times 2 = 170 \text{ (cm}^2\text{)}$

6 (직육면체의 겉넓이)
 $= (18 \times 6 + 6 \times 8 + 18 \times 8) \times 2 = 600 \text{ (cm}^2\text{)}$
 겉넓이가 600 cm^2 인 정육면체의 한 면의 넓이는 $600 \div 6 = 100 \text{ (cm}^2\text{)}$ 이고 $100 = 10 \times 10$ 이므로 정육면체의 한 모서리의 길이는 10 cm입니다.

보충 개념

정육면체는 한 모서리의 길이가 모두 같고, 한 면의 넓이가 모두 같습니다.

MATH TOPIC		142~150쪽
1-1 4500개	1-2 6 cm	1-3 8
2-1 8	2-2 ㉠, 245 cm^3	2-3 472 cm^3
3-1 2 cm	3-2 4 cm	3-3 8배
4-1 542 cm^2	4-2 12	4-3 450 cm^2
5-1 864 cm^2	5-2 726 cm^2	5-3 9배
6-1 2400 cm^2	6-2 1331 cm^3	6-3 240 cm^3
7-1 308 cm^3	7-2 14.5 cm	8-1 480 cm^3
심화 9 81, 162 / 162, 324 / 324	9-1 4800 cm^2	

1-1 (가로에 놓을 수 있는 지우개 수) = $30 \div 3 = 10$ (개)

(세로에 놓을 수 있는 지우개 수) = $30 \div 2 = 15$ (개)
 (높이에 쌓을 수 있는 지우개 수) = $30 \div 1 = 30$ (층)
 가로에 10개, 세로에 15개, 높이에 30층을 쌓을 수 있으므로 지우개는 모두
 $10 \times 15 \times 30 = 4500$ (개) 쌓을 수 있습니다.

1-2 각설탕의 한 모서리의 길이가 1 cm이고 상자의 가로와 세로가 각각 5 cm, 8 cm이므로 가로와 세로에 놓을 수 있는 각설탕 수는 각각 5개, 8개입니다. 즉, 한 층에 $5 \times 8 = 40$ (개)의 각설탕이 들어갑니다. 상자 안에 들어가는 각설탕이 240개이므로 한 층에 40개씩 놓으면 $240 \div 40 = 6$ (층)이 됩니다. 따라서 한 모서리의 길이가 1 cm인 각설탕이 6층 쌓이므로 상자의 높이는 6 cm입니다.

1-3 주어진 직육면체의 두 모서리의 길이가 각각 2 m = 200 cm이므로 두 모서리에 놓을 수 있는 정육면체의 수는 각각 $200 \div 40 = 5$ (개)씩입니다. $5 \times 5 = 25$ (개)를 놓을 수 있는 면을 밑면으로 생각하면 높이에는 $500 \div 25 = 20$ (층)을 놓을 수 있습니다. 따라서 정육면체의 한 모서리의 길이가 40 cm이므로 직육면체의 높이는 $40 \times 20 = 800$ (cm) → 8 m입니다.

다른 풀이

한 모서리의 길이가 40 cm인 정육면체 500개의 부피는 $40 \times 40 \times 40 \times 500 = 32000000$ (cm³)이고 32000000 cm³ = 32 m³입니다. 정육면체 500개의 부피와 직육면체의 부피가 같으므로 $\square \times 2 \times 2 = 32$, $\square \times 4 = 32$, $\square = 32 \div 4 = 8$ (m)입니다.

2-1 높이를 \square cm라 하면
 (직육면체의 부피) = $12 \times 3 \times \square = 288$ 이므로
 $\square = 288 \div 36 = 8$ (cm)입니다.
 따라서 높이는 8 cm입니다.

2-2 ㉠과 ㉡의 한 면(가로가 7 cm, 세로가 5 cm인 면)을 직접 맞대어 비교해 보면 나머지 한 모서리의 길이가 $6 \text{ cm} < 7 \text{ cm}$ 이므로 ㉡의 부피가 더 큼니다. ㉠과 ㉡의 한 면(가로가 5 cm, 세로가 6 cm인 면)

을 직접 맞대어 비교해 보면 나머지 한 모서리의 길이가 $7 \text{ cm} < 8 \text{ cm}$ 이므로 ㉡의 부피가 더 큼니다.

(㉡의 부피) = $7 \times 5 \times 7 = 245$ (cm³)

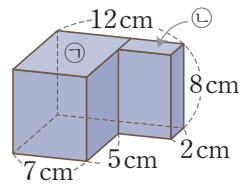
(㉠의 부피) = $6 \times 8 \times 5 = 240$ (cm³)

따라서 세 직육면체 중 부피가 가장 큰 것은 ㉡이고, ㉡의 부피는 245 cm³입니다.

보충 개념

가로, 세로, 높이 중 두 종류 이상의 길이가 같으면 직접 맞대어 부피를 비교할 수 있습니다.

2-3 주어진 입체도형의 부피는 여러 부분으로 나누어 구하거나 큰 직육면체의 부피에서 작은 직육면체의 부피를 빼서 구합니다.



(주어진 입체도형의 부피)
 = (㉠의 부피) + (㉡의 부피)
 = $(7 \times 7 \times 8) + (5 \times 2 \times 8)$
 = $392 + 80 = 472$ (cm³)

다른 풀이

(주어진 입체도형의 부피) = $(12 \times 7 \times 8) - (5 \times 5 \times 8)$
 = $672 - 200 = 472$ (cm³)

3-1 ㉠의 한 모서리의 길이를 \square cm라 하면
 (정육면체의 부피) = $\square \times \square \times \square = 125$ 이고,
 $125 = 5 \times 5 \times 5$ 이므로 $\square = 5$ (cm)입니다.
 ㉡의 한 모서리의 길이를 \square cm라 하면
 (정육면체의 부피) = $\square \times \square \times \square = 27$ 이고,
 $27 = 3 \times 3 \times 3$ 이므로 $\square = 3$ (cm)입니다.
 따라서 한 모서리의 길이의 차는 $5 - 3 = 2$ (cm)입니다.

3-2 (직육면체의 부피) = $8 \times 4 \times 2 = 64$ (cm³)
 정육면체의 한 모서리의 길이를 \square cm라 하면
 $\square \times \square \times \square = 64$ 이고, $64 = 4 \times 4 \times 4$ 이므로
 $\square = 4$ (cm)입니다.

3-3 (처음 정육면체의 부피) = $3 \times 3 \times 3 = 27$ (cm³)
 모든 모서리의 길이를 각각 2배로 늘였으므로 늘인 정육면체의 한 모서리의 길이는 $3 \times 2 = 6$ (cm)입니다.

(늘인 정육면체의 부피) = $6 \times 6 \times 6 = 216 \text{ (cm}^3\text{)}$
 따라서 늘인 정육면체의 부피는 처음 정육면체의 부피의 $216 \div 27 = 8$ (배)입니다.

다른 풀이

처음 정육면체의 한 모서리의 길이를 ■ cm라 하면
 (처음 정육면체의 부피) = $(\blacksquare \times \blacksquare \times \blacksquare) \text{ cm}^3$ 입니다.
 모든 모서리의 길이를 각각 2배로 늘였으므로 늘인 정육면체의 한 모서리의 길이는 $(\blacksquare \times 2) \text{ cm}$ 입니다.
 (늘인 정육면체의 부피) = $\blacksquare \times 2 \times \blacksquare \times 2 \times \blacksquare \times 2$
 $= (\blacksquare \times \blacksquare \times \blacksquare \times 8) \text{ cm}^3$
 따라서 늘인 정육면체의 부피 $(\blacksquare \times \blacksquare \times \blacksquare \times 8) \text{ cm}^3$ 는
 처음 정육면체의 부피 $(\blacksquare \times \blacksquare \times \blacksquare) \text{ cm}^3$ 의 8배입니다.

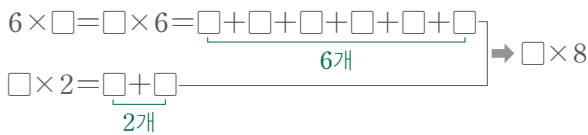
4-1 전개도를 접어서 서로 다른 세 모서리의 길이가 각각 13 cm, 7 cm, 9 cm인 직육면체를 만들 수 있습니다.

(직육면체의 겉넓이)
 $= (13 \times 7 + 7 \times 9 + 13 \times 9) \times 2$
 $= 271 \times 2 = 542 \text{ (cm}^2\text{)}$

4-2 (직육면체의 겉넓이)

$= (6 \times \square + \square \times 2 + 6 \times 2) \times 2 = 216$ 이므로
 $(6 \times \square + \square \times 2 + 12) \times 2 = 216,$
 $6 \times \square + \square \times 2 + 12 = 108,$
 $\square \times 8 + 12 = 108, \square \times 8 = 96,$
 $\square = 96 \div 8 = 12 \text{ (cm)}$ 입니다.

보충 개념



4-3 (빗금 친 면의 한 변의 길이) = $36 \div 4 = 9 \text{ (cm)}$

→ (직육면체의 겉넓이)
 $= (9 \times 9 + 9 \times 8 + 9 \times 8) \times 2 = 450 \text{ (cm}^2\text{)}$

5-1 정육면체의 모서리의 수는 12개이므로 한 모서리의 길이는 $144 \div 12 = 12 \text{ (cm)}$ 입니다.

→ (정육면체의 겉넓이)
 $= (\text{한 면의 넓이}) \times 6$
 $= (12 \times 12) \times 6 = 864 \text{ (cm}^2\text{)}$

5-2 정육면체는 가로, 세로, 높이가 모두 같으므로 나무

토막의 가장 짧은 모서리의 길이인 11 cm를 정육면체의 한 모서리의 길이로 해야 합니다.
 따라서 만들 수 있는 가장 큰 정육면체의 겉넓이는 $(11 \times 11) \times 6 = 726 \text{ (cm}^2\text{)}$ 입니다.

5-3 (처음 정육면체의 겉넓이)

$= (3 \times 3) \times 6 = 54 \text{ (cm}^2\text{)}$

모든 모서리의 길이를 각각 3배로 늘였으므로 늘인 정육면체의 한 모서리의 길이는 $3 \times 3 = 9 \text{ (cm)}$ 입니다.

(늘인 정육면체의 겉넓이)

$= (9 \times 9) \times 6 = 486 \text{ (cm}^2\text{)}$

따라서 늘인 정육면체의 겉넓이는 처음 정육면체의 겉넓이의 $486 \div 54 = 9$ (배)입니다.

다른 풀이

처음 정육면체의 한 모서리의 길이를 ■ cm라 하면
 (처음 정육면체의 겉넓이) = $(\blacksquare \times \blacksquare \times 6) \text{ cm}^2$ 입니다.
 모든 모서리의 길이를 각각 3배로 늘였으므로 늘인 정육면체의 한 모서리의 길이는 $(\blacksquare \times 3) \text{ cm}$ 입니다.
 (늘인 정육면체의 겉넓이) = $(\blacksquare \times 3 \times \blacksquare \times 3) \times 6$
 $= (\blacksquare \times \blacksquare \times 54) \text{ cm}^2$
 따라서 늘인 정육면체의 겉넓이 $(\blacksquare \times \blacksquare \times 54) \text{ cm}^2$ 는
 처음 정육면체의 겉넓이 $(\blacksquare \times \blacksquare \times 6) \text{ cm}^2$ 의
 $54 \div 6 = 9$ (배)입니다.

6-1 (정육면체의 부피) = (한 모서리의 길이) × (한 모서리의 길이) × (한 모서리의 길이)이므로 같은 수를 세 번 곱해서 8000이 되는 수를 찾아봅시다.

$20 \times 20 \times 20 = 8000$ 이므로 한 모서리의 길이는 20 cm입니다.

따라서 한 모서리의 길이가 20 cm인 정육면체의 겉넓이는 $(20 \times 20) \times 6 = 2400 \text{ (cm}^2\text{)}$ 입니다.

6-2 정육면체는 여섯 면의 넓이가 모두 같으므로

(정육면체의 한 면의 넓이)
 $= (\text{정육면체의 겉넓이}) \div 6$
 $= 726 \div 6 = 121 \text{ (cm}^2\text{)}$ 입니다.

정육면체의 한 면은 정사각형이고 $121 = 11 \times 11$ 이므로 정육면체의 한 모서리의 길이는 11 cm입니다.

→ (정육면체의 부피) = $11 \times 11 \times 11$
 $= 1331 \text{ (cm}^3\text{)}$

6-3 직육면체의 높이를 □cm라 하면

(직육면체의 겉넓이)

$$= (8 \times 6 + 6 \times \square + 8 \times \square) \times 2 = 236,$$

$$48 + 6 \times \square + 8 \times \square = 118,$$

$$48 + \square \times 14 = 118, \square \times 14 = 70,$$

$$\square = 5 \text{ (cm)입니다.}$$

→ (직육면체의 부피) = $8 \times 6 \times 5 = 240 \text{ (cm}^3\text{)}$

보충 개념

$6 \times \square = \square \times 6 = \underbrace{\square + \square + \square + \square + \square + \square}_{6\text{개}}$
 $8 \times \square = \square \times 8 = \underbrace{\square + \square + \square + \square + \square + \square + \square + \square}_{8\text{개}}$
 → $6 \times \square + 8 \times \square = \square \times 14$

7-1 (줄어든 물의 높이) = $8 - 6 = 2 \text{ (cm)}$

돌을 꺼낸 후 줄어든 부피만큼이 돌의 부피와 같습니다.

(돌의 부피) = $14 \times 11 \times 2 = 308 \text{ (cm}^3\text{)}$

보충 개념

물을 가득 채웠으므로 돌을 넣었을 때 물의 높이는 수조의 높이인 8cm입니다.

7-2 (씻덩어리의 부피) = $9 \times 9 \times 9 = 729 \text{ (cm}^3\text{)}$

물이 든 수조에 씻덩어리를 넣으면 씻덩어리의 부피인 729 cm^3 만큼 전체 부피가 늘어납니다.

$9 \times 18 \times (\text{늘어난 물의 높이}) = 729,$
 (늘어난 물의 높이) = $729 \div 9 \div 18 = 4.5 \text{ (cm)}$

따라서 씻덩어리를 넣으면 물의 높이는 $10 + 4.5 = 14.5 \text{ (cm)}$ 가 됩니다.

8-1 상자를 묶은 끈의 길이를 식으로 나타내 봅니다.

㉗ 모양: (가로) $\times 2 + (\text{높이}) \times 2 = 28$
 ㉘ 모양: (세로) $\times 2 + (\text{높이}) \times 2 = 32$
 ㉙ 모양: (가로) $\times 2 + (\text{세로}) \times 4 + (\text{높이}) \times 2 = 68$
 ㉙는 ㉗보다 세로만큼 4군데 더 사용했고, 그 길이는 $68 - 28 = 40 \text{ (cm)}$ 입니다.

→ (세로) $\times 4 = 40, (\text{세로}) = 10 \text{ (cm)}$

세로의 길이가 10cm이므로

$10 \times 2 + (\text{높이}) \times 2 = 32, 20 + (\text{높이}) \times 2 = 32,$
 $(\text{높이}) \times 2 = 12, (\text{높이}) = 6 \text{ (cm)}$ 이고,
 $(\text{가로}) \times 2 + 6 \times 2 = 28, (\text{가로}) \times 2 + 12 = 28,$
 $(\text{가로}) \times 2 = 16, (\text{가로}) = 8 \text{ (cm)}$ 입니다.

따라서 상자의 부피는 $8 \times 10 \times 6 = 480 \text{ (cm}^3\text{)}$ 입니다.

9-1 처음 백설기의 가로(또는 세로)가 50cm이고 높이가 8cm이므로 한 번 자를 때 겉넓이가

$50 \times 8 = 400 \text{ (cm}^2\text{)}$ 의 2배인
 $400 \times 2 = 800 \text{ (cm}^2\text{)}$ 만큼 늘어납니다.

자른 선이 모두 6개이므로 선을 따라 밑면과 수직으로 6번 자른 것입니다.

따라서 한 번 자를 때마다 겉넓이가 800 cm^2 만큼 늘어나므로 자르기 전보다 겉넓이가 $800 \times 6 = 4800 \text{ (cm}^2\text{)}$ 늘어납니다.

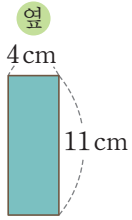
LEVEL UP TEST

151~155쪽

- | | | | | |
|--|-----------------------|------------------------|----------------------|------------------------|
| 1 $220 \text{ cm}^3, 238 \text{ cm}^2$ | 2 4 | 3 27배 | 4 3 cm | 5 3476 cm^3 |
| 6 8448 cm^3 | 7 6 cm | 8 234 cm^2 | 9 8 cm | 10 432 cm^2 |
| 12 1600 cm^2 | 13 270 cm^3 | 14 1350 cm^3 | 15 96 cm^2 | 11 2160 cm^2 |

1 145쪽 4번의 변형 심화 유형

접근 >> 위와 앞에서 본 모양으로 옆에서 본 모양을 상상해 봅시다.



옆에서 본 모양은 왼쪽과 같으므로 이 직육면체의 가로는 5 cm, 세로는 4 cm, 높이는 11 cm입니다.

$$(\text{직육면체의 부피}) = 5 \times 4 \times 11 = 220 (\text{cm}^3)$$

$$(\text{직육면체의 겉넓이}) = (5 \times 4 + 4 \times 11 + 5 \times 11) \times 2 = 119 \times 2 = 238 (\text{cm}^2)$$

해결 전략

공통인 변 5 cm가 직육면체의 가로, 세로, 높이 중 어느 것인지 알아봐요.

2 144쪽 3번의 변형 심화 유형

접근 >> 정육면체의 부피를 구하여 m^3 로 나타냅니다.

$$(\text{정육면체의 부피}) = 800 \times 800 \times 800 = 512000000 (\text{cm}^3) \rightarrow 512 \text{m}^3 \text{이므로}$$

$$(\text{직육면체의 부피}) = 16 \times 8 \times \square = 512, 128 \times \square = 512,$$

$$\square = 512 \div 128 = 4 (\text{m}) \text{입니다.}$$

다른 풀이

$$(\text{정육면체의 부피}) = 8 \times 8 \times 8 = 512 (\text{m}^3) \text{이므로}$$

$$(\text{직육면체의 부피}) = 16 \times 8 \times \square = 512, 128 \times \square = 512, \square = 512 \div 128 = 4 (\text{m}) \text{입니다.}$$

보충 개념

$$1000000 \text{cm}^3 = 1 \text{m}^3$$

주의

구하려는 길이를 cm로 나타내지 않도록 주의해요.

3 144쪽 3번의 변형 심화 유형

접근 >> 직육면체의 모서리의 길이와 부피의 관계를 생각해 봅시다.

$$(\text{처음 직육면체의 부피}) = ((\text{가로}) \times (\text{세로}) \times (\text{높이})) \text{cm}^3$$

모든 모서리의 길이를 각각 3배로 늘였으므로

$$(\text{늘인 직육면체의 부피}) = (\text{가로}) \times 3 \times (\text{세로}) \times 3 \times (\text{높이}) \times 3 = ((\text{가로}) \times (\text{세로}) \times (\text{높이}) \times 27) \text{cm}^3$$

따라서 늘인 직육면체의 부피는 처음 직육면체의 부피의 27배입니다.

$$((\text{가로}) \times (\text{세로}) \times (\text{높이}) \times 27) \text{cm}^3 \div ((\text{가로}) \times (\text{세로}) \times (\text{높이})) \text{cm}^3$$

다른 풀이

$$(\text{처음 직육면체의 부피}) = 8 \times 5 \times 3 = 120 (\text{cm}^3)$$

모든 모서리의 길이를 각각 3배로 늘였으므로 늘인 직육면체의 가로는 24 cm, 세로는 15 cm, 높이는 9 cm가 됩니다.

$$(\text{늘인 직육면체의 부피}) = 24 \times 15 \times 9 = 3240 (\text{cm}^3)$$

따라서 늘인 직육면체의 부피는 처음 직육면체의 부피의 $3240 \div 120 = 27$ (배)입니다.

지도 가이드

직육면체의 모든 모서리의 길이를 각각 3배했을 때의 부피를 구하는 문제입니다. 처음 직육면체의 부피와 늘인 직육면체의 부피를 각각 구하여 부피를 비교하는 것이 일반적이지만, 굳이 직육면체의 부피를 두 번이나 계산하지 않아도 비교할 수 있습니다. 다른 풀이에 제시된 방법으로 정답을 맞췄더라도 가로, 세로, 높이의 곱을 직접 구하지 않고 두 가지 곱셈식을 비교하여 해결하는 방법을 알려주세요. 단순히 부피의 공식에 수를 넣어 계산하는 것에서 나아가 부피의 성질을 직관적으로 이해하는 데 도움이 되는 문제입니다.

해결 전략

세 모서리의 길이가 각각 3배가 되면 부피는 $3 \times 3 \times 3 = 27$ (배)가 돼요.

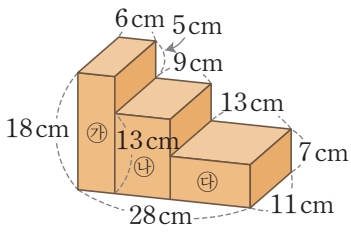
4 143쪽 2번의 변형 심화 유형
접근 >> (쌓기나무 ■개로 쌓은 입체도형의 부피) ÷ ■ = (쌓기나무 한 개의 부피)

사용된 쌓기나무의 개수는 1층에 12개, 2층에 4개로 모두 $12 + 4 = 16$ (개)이므로
 (쌓기나무 한 개의 부피) = $432 \div 16 = 27$ (cm³)입니다.
 따라서 쌓기나무 한 개의 한 모서리의 길이를 □cm라 하면 $\square \times \square \times \square = 27$,
 $\square = 3$ (cm)입니다.

해결 전략

쌓기나무의 개수를 이용하여
 쌓기나무 한 개의 부피를 구
 해요.

5 **접근** >> 주어진 입체도형을 직육면체 여러 개로 나누어 봅니다.



입체도형을 ㉓, ㉔, ㉕로 나누어 봅니다.

(㉓의 부피) = $6 \times 11 \times 18 = 1188$ (cm³)

(㉔의 부피) = $9 \times 11 \times 13 = 1287$ (cm³)

(㉕의 부피) = $13 \times 11 \times 7 = 1001$ (cm³)

따라서 주어진 입체도형의 부피는

(㉓의 부피) + (㉔의 부피) + (㉕의 부피) = $1188 + 1287 + 1001 = 3476$ (cm³)입
 니다.

해결 전략

세 개의 직육면체로 나누어
 각각의 부피를 구한 다음 더
 해요.

서술형
6 **접근** >> 주어진 그림을 직육면체의 전개도로 생각해 봅니다.

㉔ 직사각형 모양의 종이를 만든 상자는 (가로) = $60 - 8 \times 2 = 44$ (cm),
 (세로) = $40 - 8 \times 2 = 24$ (cm), (높이) = 8 cm인 직육면체입니다.
 따라서 만든 상자의 부피는 $44 \times 24 \times 8 = 8448$ (cm³)입니다.

보충 개념

높이가 8 cm이고, 위쪽이 뚫
 린 직육면체가 돼요.

채점 기준	배점
만든 상자의 가로, 세로, 높이를 알 수 있나요?	3점
만든 상자의 부피를 구할 수 있나요?	2점

7 **접근** >> 직육면체의 부피와 가로, 세로를 알면 높이를 구할 수 있습니다.

가로는 15 cm, 세로는 15 cm, 부피는 1800 cm³이므로 답을 수 있는 부분의 높이
 는 $1800 \div 15 \div 15 = 8$ (cm)입니다.

따라서 되의 $\frac{3}{4}$ 만큼 물을 채우면 물의 높이는 $8 \times \frac{3}{4} = 6$ (cm)입니다.

보충 개념

(가로) × (세로) × (높이)
 = (부피)

→ (높이)
 = (부피) ÷ (가로) ÷ (세로)

서술형
8 **접근** >> 입체도형을 앞, 뒤, 양 옆, 위, 아래에서 볼 때 보이는 면을 세어 봅니다.

㉔ 쌓기나무로 만든 입체도형의 겉면의 넓이는 쌓기나무의 한 면의 넓이의 26배입니
 다. 쌓기나무의 한 면의 넓이가 $3 \times 3 = 9$ (cm²)이므로
 입체도형의 겉넓이는 $9 \times 26 = 234$ (cm²)입니다.

주의

쌓기나무가 6개이므로 만든
 입체도형의 겉면이
 $6 \times 6 = 36$ (개)라고 생각하면
 틀려요.

채점 기준	배점
만든 입체도형의 겹넓이는 쌓기나무의 한 면의 넓이의 몇 배인지 알 수 있나요?	2점
입체도형의 겹넓이를 구할 수 있나요?	3점

다른 풀이

쌓기나무 6개의 면의 개수에서 겹쳐진 면의 개수를 빼면 $(6 \times 6) - (5 \times 2) = 36 - 10 = 26$ (개)입니다.
 쌓기나무의 한 면의 넓이가 $3 \times 3 = 9$ (cm²)이므로 입체도형의 겹넓이는 $9 \times 26 = 234$ (cm²)입니다.

지도 가이드

쌓기나무 여러 개로 만든 입체도형의 겹넓이를 구할 때는, 바닥과 닿아 있는 면을 포함하여 모든 겹면의 넓이를 생각해야 합니다. 겨냥도에서 보이지 않는 방향까지 상상하여 겹면을 빠짐없이 셀 수 있도록 지도해 주세요.

보충 개념

• 앞, 뒤에서 본 모양:



• 왼쪽, 오른쪽에서 본 모양:



• 위, 아래에서 본 모양:



→ (입체도형의 겹면의 수)
 $= (4 + 4 + 5) \times 2 = 26$ (개)

9 142쪽 1번의 변형 심화 유형

접근 >> 주사위를 정육면체 모양으로 쌓으면 모든 모서리에 같은 개수가 놓입니다.

주사위 64개를 정육면체 모양으로 쌓았으므로 한 모서리에 놓은 주사위의 개수를 □개라고 하면 $\square \times \square \times \square = 64$ 이고, $64 = 4 \times 4 \times 4$ 이므로 $\square = 4$ (개)입니다.
 주사위의 한 모서리의 길이가 2 cm이므로 쌓은 정육면체의 한 모서리의 길이는 $2 \times 4 = 8$ (cm)입니다.

다른 풀이

한 모서리의 길이가 2 cm인 주사위의 부피는 $2 \times 2 \times 2 = 8$ (cm³)이므로 주사위 64개를 쌓은 정육면체의 부피는 $8 \times 64 = 512$ (cm³)입니다. 부피가 512 cm³인 정육면체의 한 모서리의 길이를 □cm라고 하면 $\square \times \square \times \square = 512$ 이고, $512 = 8 \times 8 \times 8$ 이므로 $\square = 8$ (cm)입니다.

해결 전략

한 모서리에 놓은 주사위의 개수를 구한 다음 한 모서리의 길이를 구해요.

10 접근 >> 먼저 색칠된 면이 몇 개인지 세어 봅시다.

색칠된 면이 $(5 \times 2 + 2 \times 2 + 5 \times 2) \times 2 = 48$ (개)이므로 쌓기나무의 한 면의 넓이는 $288 \div 48 = 6$ (cm²)입니다. 쌓기나무 20개의 면의 수는 $6 \times 20 = 120$ (개)이고 색칠된 면이 48개이므로 색칠되지 않은 면의 수는 $120 - 48 = 72$ (개)입니다.
 따라서 색칠되지 않은 면의 넓이는 $6 \times 72 = 432$ (cm²)입니다.

주의

바닥과 닿아 있는 면도 색칠해야 해요.

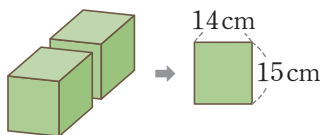
보충 개념

쌓기나무끼리 맞닿은 면은 색칠되지 않아요.

11 150쪽 9번의 변형 심화 유형

접근 >> 한번 자를 때 생기는 단면의 넓이를 알아봅시다.

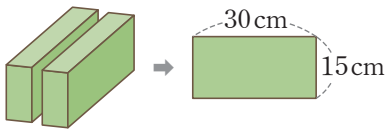
잘랐을 때 생기는 면의 넓이를 모두 구해 봅시다.



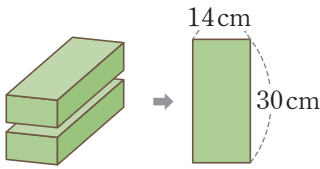
자르기 전 직육면체의 가로가 14 cm이고 높이가 15 cm이므로 한 번 자를 때 겹넓이가 $14 \times 15 = 210$ (cm²)의 2배인 $210 \times 2 = 420$ (cm²)만큼 늘어납니다.

보충 개념

잘랐을 때 자른 단면의 넓이의 2배만큼 겹넓이가 늘어납니다.



자르기 전 직육면체의 세로가 30 cm이고
높이가 15 cm이므로 한 번 자를 때 겉넓이가
 $30 \times 15 = 450 \text{ (cm}^2\text{)}$ 의 2배인
 $450 \times 2 = 900 \text{ (cm}^2\text{)}$ 만큼 늘어납니다.



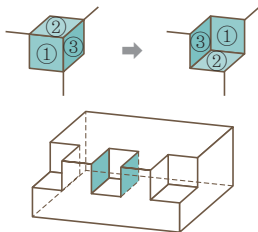
자르기 전 직육면체의 가로가 14 cm이고
세로가 30 cm이므로 한 번 자를 때 겉넓이가
 $14 \times 30 = 420 \text{ (cm}^2\text{)}$ 의 2배인
 $420 \times 2 = 840 \text{ (cm}^2\text{)}$ 만큼 늘어납니다.

따라서 선을 따라 자르면 자르기 전보다 겉넓이가 $420 + 900 + 840 = 2160 \text{ (cm}^2\text{)}$
늘어납니다.

해결 전략

잘린 면의 넓이만 늘어나므로
자른 후에 만들어진 모든 조
각(8개의 직육면체)의 겉넓이
를 각각 구할 필요는 없어요.

12 접근 » 부피가 줄어들어도 겉넓이는 줄어들지 않을 수 있습니다.



양쪽 꼭짓점 부분에서 각각 정육면체 모양만큼을 잘라내도
겉넓이는 변하지 않습니다.
모서리의 중간에서 정육면체 모양만큼을 잘라내면 색칠한
부분만큼 겉넓이가 늘어납니다. 자르기 전 직육면체의 겉
넓이는

$(25 \times 15 + 15 \times 10 + 25 \times 10) \times 2 = 775 \times 2 = 1550 \text{ (cm}^2\text{)}$ 이고 색칠한 부분
의 넓이는 $5 \times 5 \times 2 = 50 \text{ (cm}^2\text{)}$ 입니다.

따라서 이 입체도형의 겉넓이는 $1550 + 50 = 1600 \text{ (cm}^2\text{)}$ 입니다.

해결 전략

꼭짓점 부분의 겉넓이는 변하
지 않으므로 중간 부분에서
늘어난 겉넓이만 생각해요.

13 149쪽 8번의 변형 심화 유형
접근 » 끈의 길이에서 직육면체의 모서리와 길이가 같은 부분이 몇 군데인지 세어 봅니다.

합동인 면의 가로를 ■ cm, 세로를 ● cm라 하고 각 직육면체를 묶는 데 사용한 끈
의 길이를 나타내면

㉗에 사용한 끈의 길이) = $\blacksquare \times 4 + \bullet \times 4 + 9 \times 4 = 80$,

$\blacksquare \times 4 + \bullet \times 4 + 36 = 80$, $\blacksquare \times 4 + \bullet \times 4 = 44$

㉘에 사용한 끈의 길이) = $\blacksquare \times 4 + \bullet \times 2 + 4 \times 6 = 80 - 24$,

$\blacksquare \times 4 + \bullet \times 2 + 24 = 56$, $\blacksquare \times 4 + \bullet \times 2 = 32$

㉗는 ㉘보다 ●만큼 2군데 더 사용했고, 그 길이는 $44 - 32 = 12 \text{ (cm)}$ 입니다.

$\bullet \times 2 = 12$, $\bullet = 6 \text{ (cm)}$

●가 6 cm이므로 $\blacksquare \times 4 + 6 \times 4 = 44$ 에서 $\blacksquare \times 4 = 20$, $\blacksquare = 5 \text{ (cm)}$ 입니다.

따라서 ㉗는 가로 5 cm, 세로 6 cm, 높이 9 cm이므로

㉗의 부피는 $5 \times 6 \times 9 = 270 \text{ (cm}^3\text{)}$ 입니다.

해결 전략

직육면체의 가로를 ■ cm, 세
로를 ● cm라 하여 사용한
끈의 길이를 식으로 나타내
요.

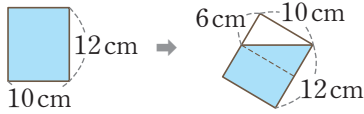
보충 개념

$\blacksquare \times 4 + \bullet \times 4 = 44$

$\blacksquare \times 4 + \bullet \times 2 = 32$

$\bullet \times 2 = 44 - 32 = 12$

14 접근 >> 비어 있는 부분의 부피를 생각해 봅시다.



물을 가득 채운 수조를 그림처럼 기울이면 앞에서 본 모습이 왼쪽과 같습니다.

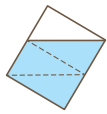
비어 있는 부분의 부피는 가로 10 cm, 세로 6 cm, 높이 15 cm인 직육면체의 부피의 절반입니다.

$$(\text{비어 있는 부분의 부피}) = 10 \times 6 \times 15 \times \frac{1}{2} = 450 (\text{cm}^3)$$

$$(\text{수조 전체의 부피}) = 10 \times 15 \times 12 = 1800 (\text{cm}^3)$$

$$\begin{aligned} \rightarrow (\text{남은 물의 부피}) &= (\text{수조 전체의 부피}) - (\text{비어 있는 부분의 부피}) \\ &= 1800 - 450 = 1350 (\text{cm}^3) \end{aligned}$$

다른 풀이 1

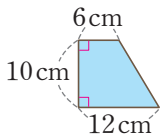


남은 물의 부피는 왼쪽과 같이 수조 전체의 부피의 $\frac{3}{4}$ 입니다.

$$(\text{수조 전체의 부피}) = 10 \times 15 \times 12 = 1800 (\text{cm}^3)$$

$$(\text{남은 물의 부피}) = 1800 \times \frac{3}{4} = 1350 (\text{cm}^3)$$

다른 풀이 2



남은 물의 부피는 밑면이 왼쪽과 같은 사다리꼴이고 높이가 15 cm인 사각기둥의 부피와 같으므로

$$(6 + 12) \times 10 \div 2 \times 15 = 18 \times 10 \div 2 \times 15 = 1350 (\text{cm}^3) \text{입니다.}$$

해결 전략 1

수조 전체의 부피에서 비어 있는 부분의 부피를 빼요.

보충 개념

물의 표면은 바닥과 평행해요.

해결 전략 2

남은 물의 부피가 수조 전체의 부피의 몇 분의 몇인지 생각해 봐요.

15 접근 >> 8개의 정육면체를 직육면체 모양으로 쌓는 경우를 모두 알아봅시다.

8개의 초콜릿을 직육면체 모양으로 쌓을 수 있는 경우는 모두 3가지입니다.

각 경우의 겉넓이를 구해 보면,

(가로 2 cm, 세로 2 cm, 높이 16 cm인 직육면체의 겉넓이)

$$\begin{aligned} &= (2 \times 2 + 2 \times 16 + 2 \times 16) \times 2 \\ &= 68 \times 2 = 136 (\text{cm}^2) \end{aligned}$$

(가로 2 cm, 세로 4 cm, 높이 8 cm인 직육면체의 겉넓이)

$$\begin{aligned} &= (2 \times 4 + 4 \times 8 + 2 \times 8) \times 2 \\ &= 56 \times 2 = 112 (\text{cm}^2) \end{aligned}$$

(한 모서리의 길이가 4 cm인 정육면체의 겉넓이)

$$= (4 \times 4) \times 6 = 96 (\text{cm}^2)$$

따라서 포장지를 가장 적게 사용하려면 겉넓이가 96 cm²가 되도록 쌓아야 합니다.

해결 전략

직육면체 모양으로 쌓는 3가지 경우의 겉넓이를 각각 구해 봐요.

주의

정육면체도 직육면체예요.

HIGH LEVEL					156~158쪽
1 1728 cm ³	2 20 m ³	3 6 cm	4 6 cm ²	5 49 cm ²	6 72 cm ³
7 260개	8 12 cm	9 760 cm ³			

1 142쪽 1번의 변형 심화 유형
접근 >> 주어진 직육면체를 정육면체 모양의 상자 안에 빈틈없이 쌓는다고 생각해 봅니다.

만들 수 있는 가장 작은 정육면체의 한 모서리의 길이는 2, 3, 4의 최소공배수인 12 cm입니다. 따라서 만들 수 있는 가장 작은 정육면체의 부피는 $12 \times 12 \times 12 = 1728$ (cm³)입니다.

해결 전략

정육면체는 가로, 세로, 높이의 길이가 같으므로 2, 3, 4의 공배수를 찾아요.

2 **접근** >> 뚫린 부분의 부피를 사각기둥 3개의 부피와 비교해 봅니다.

정육면체의 한 모서리의 길이가 3 m이므로 정육면체의 부피는 $3 \times 3 \times 3 = 27$ (m³)입니다. 뚫린 부분의 부피는 가로가 1 m, 세로가 1 m, 높이가 3 m인 직육면체의 부피의 3배에서 한 모서리의 길이가 1 m인 정육면체의 부피의 2배를 뺀 것과 같습니다.

(뚫린 부분의 부피) = $(1 \times 1 \times 3) \times 3 - (1 \times 1 \times 1) \times 2 = 9 - 2 = 7$ (m³)
 따라서 이 입체도형의 부피는 $27 - 7 = 20$ (m³)입니다.

해결 전략

전체에서 뚫린 부분의 부피를 빼고, 더 뺀 부분은 다시 더해요.

주의

3개의 사각기둥은 겹치는 부분이 있어요.

다른 풀이

뚫린 부분은 한 모서리의 길이가 1 m인 정육면체의 부피의 7배와 같습니다. 따라서 정육면체의 부피가 27 m³이므로 이 입체도형의 부피는 $27 - 7 = 20$ (m³)입니다.

3 **접근** >> 칸막이를 없애면 물의 높이가 같아집니다.

왼쪽 부분에 담긴 물의 부피는 $20 \times 15 \times 3 = 900$ (cm³)이고, 오른쪽 부분에 담긴 물의 부피는 $15 \times 15 \times 10 = 2250$ (cm³)입니다.

칸막이를 없애면 $900 + 2250 = 3150$ (cm³)의 물을 가로 35 cm, 세로 15 cm인 수조에 넣은 것과 같습니다.

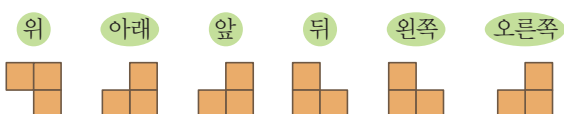
따라서 물의 높이는 $3150 \div 35 \div 15 = 6$ (cm)가 됩니다.

해결 전략

두 부분에 담긴 물의 부피의 합을 구해요.

4 **접근** >> 입체도형을 앞, 뒤, 양 옆, 위, 아래에서 볼 때 보이는 면을 세어 봅니다.

오른쪽 입체도형을 위, 아래, 앞, 뒤, 왼쪽, 오른쪽에서 본 모습을 알아봅니다.



해결 전략

주어진 입체도형 2개를 정육면체 모양이 되도록 붙여야 겉넓이가 가장 작아져요.

보이는 면은 모두 18개이고 한 면의 넓이는 1 cm^2 이므로 주어진 입체도형의 겉넓이는 18 cm^2 입니다.

이 입체도형 2개를 겉넓이가 가장 작게 되도록 붙여서 만든 도형은 오른쪽과 같이 한 모서리의 길이가 2 cm 인 정육면체 모양이 됩니다.



새로 만든 입체도형의 겉넓이는 $2 \times 2 \times 6 = 24\text{ (cm}^2\text{)}$ 이므로 새로 만든 입체도형과 처음 입체도형의 겉넓이의 차는 $24 - 18 = 6\text{ (cm}^2\text{)}$ 입니다.

지도 가이드

주어진 입체도형 2개를 붙여 새로운 입체도형을 만들면 붙는 면은 없어집니다. 따라서 붙여 만든 입체도형의 겉넓이는 원래 입체도형의 겉넓이의 2배보다 작아집니다.

5 접근 >> 주어진 입체도형의 겉넓이를 직육면체의 밑면과 옆면의 개수로 따져 봅니다.

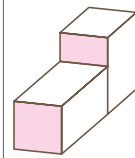
㉠ 직육면체의 겉넓이는 직사각형인 옆면 4개와 정사각형인 밑면 2개의 넓이의 합이고, ㉡ 입체도형의 겉넓이는 직사각형인 옆면 8개와 정사각형인 밑면 2개의 넓이의 합입니다. 즉, ㉡ 입체도형과 ㉠ 직육면체의 겉넓이의 차는 직사각형인 옆면 4개의 넓이와 같습니다.

㉡ 입체도형과 ㉠ 직육면체의 겉넓이의 차는 $714 - 406 = 308\text{ (cm}^2\text{)}$ 이므로 옆면 한 개의 넓이는 $308 \div 4 = 77\text{ (cm}^2\text{)}$ 입니다.

㉠ 직육면체의 겉넓이는 406 cm^2 이고 한 옆면의 넓이는 77 cm^2 이므로 직육면체의 한 밑면의 넓이는 $(406 - 77 \times 4) \div 2 = 98 \div 2 = 49\text{ (cm}^2\text{)}$ 입니다.

보충 개념

색칠한 면의 넓이의 합은 직사각형인 옆면의 넓이와 같아요.



6 접근 >> ㉠, ㉡, ㉢의 넓이를 가로, 세로, 높이를 이용해 식으로 나타내 봅니다.

(㉠의 넓이) = (가로) \times (세로) = 12, (㉡의 넓이) = (가로) \times (높이) = 18,

(㉢의 넓이) = (세로) \times (높이) = 24

위의 세 식을 모두 곱하면,

(㉠의 넓이) \times (㉡의 넓이) \times (㉢의 넓이)

= (가로) \times (세로) \times (가로) \times (높이) \times (세로) \times (높이) = $12 \times 18 \times 24$ 이고

(직육면체의 부피) = (가로) \times (세로) \times (높이)이므로

(직육면체의 부피) \times (직육면체의 부피) = $12 \times 18 \times 24$ 입니다.

$12 = 2 \times 2 \times 3$, $18 = 2 \times 3 \times 3$, $24 = 2 \times 2 \times 2 \times 3$ 이므로

$12 \times 18 \times 24 = \underbrace{2 \times 2 \times 2 \times 2 \times 2 \times 2}_{6\text{개}} \times \underbrace{3 \times 3 \times 3 \times 3}_{4\text{개}}$

$= \underbrace{(2 \times 2 \times 2)}_{3\text{개}} \times \underbrace{(2 \times 3 \times 3)}_{2\text{개}} \times \underbrace{(2 \times 2 \times 2)}_{3\text{개}} \times \underbrace{(3 \times 3)}_{2\text{개}}$

$= 72 \times 72$ 로 나타낼 수 있습니다.

따라서 (직육면체의 부피) \times (직육면체의 부피) = 72×72 이므로 직육면체의 부피는 72 cm^3 입니다.

해결 전략

$12 \times 18 \times 24 = \square \times \square$ 를 만족하는 \square 를 구해요.

지도 가이드

■ × ■ = ●에서 ●가 큰 경우에는 ■를 찾기 어려울 때가 있습니다. 이럴 때는 수를 더 이상 나눌 수 없을 때까지 나누어 곱셈식으로 나타내는 소인수분해를 하면 찾기 쉽습니다. 소인수분해의 개념은 중등에서 본격적으로 하므로 용어를 사용하기 보다는 방법을 익힐 수 있도록 지도해 주세요.

7 접근 » 주어진 모양으로 쌓으려면 정육면체 모양에서 몇 개를 빼야 하는지 생각해 봅니다.

주어진 정육면체 모양을 만들 때 필요한 쌓기나무의 개수는 전체 정육면체 모양을 만드는 데 쓰이는 쌓기나무의 개수에서 안쪽에 비워진 부분에 들어가는 쌓기나무의 개수를 빼서 구합니다. 이때 안쪽에 비워진 부분의 가로(또는 세로)에는 직육면체의 가로(또는 세로)에 놓인 개수보다 2개가 덜 들어가고, 안쪽에 비워진 부분의 높이에는 직육면체의 높이에 쌓인 개수보다 1개가 덜 들어갑니다.

예를 들어, 한 모서리에 쌓기나무가 5개 놓인 경우에 필요한 쌓기나무의 개수는 $(5 \times 5 \times 5) - (3 \times 3 \times 4) = 125 - 36 = 89(\text{개})$ 입니다.

필요한 쌓기나무의 개수가 300개보다 작으면서 가장 큰 경우를 찾아봅니다.

- 한 모서리에 쌓기나무가 7개 놓이는 경우:
 $(7 \times 7 \times 7) - (5 \times 5 \times 6) = 343 - 150 = 193(\text{개})$
- 한 모서리에 쌓기나무가 8개 놓이는 경우
 $(8 \times 8 \times 8) - (6 \times 6 \times 7) = 512 - 252 = 260(\text{개})$
- 한 모서리에 쌓기나무가 9개 놓이는 경우
 $(9 \times 9 \times 9) - (7 \times 7 \times 8) = 729 - 392 = 337(\text{개})$

따라서 쌓기나무를 300개 가지고 있을 때, 최대한 큰 입체도형을 만들려면 260개의 쌓기나무를 사용해야 합니다.

해결 전략

한 모서리에 쌓기나무가 5개, 6개, 7개, ... 놓이는 경우에 필요한 쌓기나무 수를 각각 구해 봐요.

주의

한 모서리에 쌓기나무가 9개씩 놓이게 만들면 쌓기나무가 300개보다 더 필요해요.

8 접근 » 직육면체의 가로와 세로의 곱이 48 cm^2 일 때, 겹넓이 구하는 식을 만들어 봅니다.

빗금 친 면의 넓이가 48 cm^2 이므로 (가로) × (세로) = 48입니다.

(직육면체의 겹넓이) = ((가로) × (세로) + (가로) × 8 + (세로) × 8) × 2이므로
 $(48 + (\text{가로}) \times 8 + (\text{세로}) \times 8) \times 2 = 352$, $48 + 8 \times ((\text{가로}) + (\text{세로})) = 176$,
 $8 \times ((\text{가로}) + (\text{세로})) = 128$, $(\text{가로}) + (\text{세로}) = 16$ 입니다.

가로와 세로의 합이 16이고 가로와 세로의 곱이 48인 두 자연수를 찾아봅니다.

가로(cm)	1	2	3	4	5	6	7
세로(cm)	15	14	13	12	11	10	9
곱	15	28	39	48	55	60	63

따라서 두 수는 각각 4와 12이고, 가로가 세로보다 짧으므로 세로는 12 cm입니다.

해결 전략

합이 16, 곱이 48이 되는 두 수를 찾아봐요.

보충 개념

■ × 8 + ▲ × 8은
 ■ 8개와 ▲ 8개의 합이므로
 $(\blacksquare + \blacktriangle) \times 8$ 과 같아요.

다른 풀이

가로를 ■ cm, 세로를 ▲ cm라 하면 빗금 친 면의 넓이가 48 cm^2 이므로 $\blacksquare \times \blacktriangle = 48$ 입니다. 모든 모서리의 길이는 자연수이므로 곱해서 48이 되는 두 수 ■, ▲ 중에 $\blacksquare < \blacktriangle$ 인 경우는 다음과 같습니다.

가로 = ■ cm	1	2	3	4	6
세로 = ▲ cm	48	24	16	12	8

이 중 (직육면체의 겉넓이) = $(\blacksquare \times \blacktriangle + \blacksquare \times 8 + \blacktriangle \times 8) \times 2$ 가 352 cm^2 가 되는 경우는 ■가 4, ▲가 12일 때입니다. 따라서 빗금 친 면의 세로는 12 cm입니다.

9 148쪽 7번의 변형 심화 유형

접근 >> 물에 물체를 넣었을 때 늘어난 부피만큼 물체의 부피입니다.

쇠구슬 20개를 넣자 물이 수조를 가득 채운 것으로도 모자라 수조 밖으로 넘쳤으므로, 쇠구슬 20개의 부피는 수조의 비어 있는 부분의 부피와 넘친 물의 부피의 합입니다.

$$(\text{수조의 부피}) = 30 \times 25 \times 40 = 30000 (\text{cm}^3) \Rightarrow 30000 \text{ mL} = 30 \text{ L}$$

$$(\text{비어 있는 부분의 들이}) = (\text{수조의 들이}) - (\text{수조에 들어 있는 물의 들이}) \\ = 30 - 15 = 15 (\text{L})$$

$$(\text{쇠구슬 20개의 부피}) = 15 + 0.2 = 15.2 (\text{L}) \Rightarrow 15200 \text{ mL} = 15200 \text{ cm}^3$$

$$(\text{쇠구슬 1개의 부피}) = 15200 \div 20 = 760 (\text{cm}^3)$$

주의

넘친 물의 양도 생각해야 해요.

교내 경시 1단원 분수의 나눗셈

01 $\frac{3}{5}$ m	02 $\frac{1}{7}$	03 $1\frac{2}{9}$ 배	04 $1\frac{4}{7}$	05 5	06 $1\frac{1}{17}$
07 250상자	08 5번	09 $2\frac{1}{5}$ cm	10 ㉠, ㉡, ㉢, ㉣	11 10분 18초	12 $2\frac{1}{11}$ m
13 $\frac{17}{25}$	14 $20\frac{2}{9}$ m ²	15 $\frac{24}{65}$	16 $1\frac{3}{4}$ cm	17 오후 7시 40분 30초	
18 75개	19 18	20 $3\frac{1}{3}$ cm			

01 접근 » $2\frac{2}{5}$ 를 4로 나누었을 때의 몫을 구합니다.

$$(\text{한 명이 가지게 되는 끈의 길이}) = 2\frac{2}{5} \div 4 = \frac{12}{5} \div 4 = \frac{12 \div 4}{5} = \frac{3}{5} (\text{m})$$

해결 전략

(한 명이 가지는 끈의 길이)
= (전체 끈의 길이)
÷ (사람 수)

02 접근 » 먼저 $\frac{15}{7} \div 5$ 의 몫을 구합니다.

$$\frac{15}{7} \div 5 = \frac{15 \div 5}{7} = \frac{3}{7} \text{입니다.}$$

$$\square \times 3 = \frac{3}{7} \text{이므로 } \square = \frac{3}{7} \div 3 = \frac{3 \div 3}{7} = \frac{1}{7} \text{입니다.}$$

보충 개념

$$\square \times \blacktriangle = \bullet$$

$$\Rightarrow \square = \bullet \div \blacktriangle$$

03 접근 » 수직선의 눈금 한 칸의 크기를 구해 ㉠과 ㉡가 각각 나타내는 수를 찾습니다.

$$\text{수직선의 눈금 한 칸의 크기는 } \frac{1}{6} \text{이므로 } \textcircled{1} = 3\frac{4}{6} = 3\frac{2}{3}, \textcircled{2} = 3 \text{입니다.}$$

$$\text{따라서 } 3\frac{2}{3} \div 3 = \frac{11}{3} \times \frac{1}{3} = \frac{11}{9} = 1\frac{2}{9} (\text{배}) \text{입니다.}$$

해결 전략

(수직선의 눈금 한 칸의 크기)
 $= 1 \div 6 = \frac{1}{6}$

04 접근 » 나눗셈의 몫이 가장 크기 위한 조건을 생각해 봅니다.

$$\frac{66}{7} = 9\frac{3}{7} \text{이므로 가장 큰 수는 } \frac{66}{7} \text{이고, 가장 작은 수는 } 6 \text{입니다.}$$

$$\text{따라서 몫이 가장 큰 나눗셈식의 몫은 } \frac{66}{7} \div 6 = \frac{66 \div 6}{7} = \frac{11}{7} = 1\frac{4}{7} \text{입니다.}$$

해결 전략

몫이 가장 큰 나눗셈식은
(가장 큰 수) ÷ (가장 작은 수)
예요.

05 접근 >> 분수의 나눗셈을 분수의 곱셈으로 고친 뒤 식을 간단하게 만듭니다.

$$\frac{1}{\square} \div 5 = \frac{1}{\square} \times \frac{1}{5} = \frac{1}{\square \times 5}, \quad \frac{2}{3} \div 16 = \frac{2}{3} \times \frac{1}{16} = \frac{1}{24} \text{이므로}$$

$$\frac{1}{\square \times 5} < \frac{1}{24} \text{입니다.}$$

$\square \times 5 > 24$ 이므로 $\square = 5, 6, 7 \dots$ 입니다.

따라서 \square 안에 들어갈 수 있는 가장 작은 수는 5입니다.

주의

$\frac{1}{\square \times 5} < \frac{1}{24}$ 에서
 $\square \times 5 < 24$ 라고 생각하지
 않도록 해요.

보충 개념

$$\frac{1}{\bullet} < \frac{1}{\blacksquare}$$

→ $\bullet > \blacksquare$

06 접근 >> 분모와 분자가 각각 어떻게 변하는지 살펴 보고 규칙을 찾습니다.

늘어놓은 수의 규칙을 알아보면 분모는 3부터 2씩 커지고, 분자는 1부터 5씩 커집니다.

$$\textcircled{1} = \frac{21+5}{11+2} = \frac{26}{13} = 2, \quad \textcircled{2} = \frac{31+5}{15+2} = \frac{36}{17} \text{이므로}$$

$$\textcircled{2} \div \textcircled{1} = \frac{36}{17} \div 2 = \frac{36 \div 2}{17} = \frac{18}{17} = 1 \frac{1}{17} \text{입니다.}$$

해결 전략

분모와 분자가 각각 몇씩 커지는지 규칙을 찾아요.

07 접근 >> 먼저 단위를 똑같이 만듭니다.

$$1 \text{ t} = 1000 \text{ kg} \text{이므로 } 1 \frac{1}{4} \text{ t} = \frac{5}{4} \text{ t} = \frac{5000}{4} \text{ kg} \text{입니다.}$$

$$\text{따라서 } \frac{5000}{4} \div 5 = \frac{5000 \div 5}{4} = \frac{1000}{4} = 250 \text{(상자)까지 실을 수 있습니다.}$$

보충 개념

$$1 \text{ t} = 1000 \text{ kg}$$

08 접근 >> 먼저 수조에 더 채워야 할 물의 양을 구합니다.

수조에 더 채워야 할 물의 양은

$$11 \frac{5}{6} - 2 \frac{1}{2} = 11 \frac{5}{6} - 2 \frac{3}{6} = 9 \frac{2}{6} = 9 \frac{1}{3} \text{ (L)입니다.}$$

$$9 \frac{1}{3} \div 2 = \frac{28 \div 2}{3} = \frac{14}{3} = 4 \frac{2}{3} \text{ (번)이므로 적어도 5번 부어야 합니다.}$$

주의

$4 \frac{2}{3}$ 번 → 4번보다 많이 부어야 하므로 5번 부어요.

09 접근 » 삼각형의 넓이와 평행사변형의 넓이가 같음을 이용합니다.

$$(\text{삼각형의 넓이}) = 6 \frac{3}{5} \times 5 \frac{1}{3} \div 2 = \frac{33}{5} \times \frac{16}{3} \times \frac{1}{2} = \frac{88}{5} = 17 \frac{3}{5} (\text{cm}^2) \text{이므로}$$

$$(\text{평행사변형의 넓이}) = 17 \frac{3}{5} \div 8 = \frac{88 \div 8}{5} = \frac{11}{5} = 2 \frac{1}{5} (\text{cm}) \text{입니다.}$$

보충 개념

(삼각형의 넓이)
= (밑변) × (높이) ÷ 2
(평행사변형의 넓이)
= (밑변) × (높이)

10 접근 » 나눗셈이 있는 식을 곱셈으로 고친 뒤 곱하는 수의 크기를 비교합니다.

$$\textcircled{㉠} \times 1 \frac{1}{3} = \textcircled{㉠} \times \frac{4}{3}, \textcircled{㉡} \div 9 = \textcircled{㉡} \times \frac{1}{9}, \textcircled{㉢} \div 6 = \textcircled{㉢} \times \frac{1}{6} \text{이므로}$$

$$\textcircled{㉠} \times \frac{5}{6} = \textcircled{㉠} \times \frac{4}{3} = \textcircled{㉡} \times \frac{1}{9} = \textcircled{㉢} \times \frac{1}{6} \text{입니다.}$$

곱하는 수의 크기가 $\frac{1}{9} < \frac{1}{6} < \frac{5}{6} < \frac{4}{3}$ 이므로 곱해지는 수의 크기는

$$\textcircled{㉡} > \textcircled{㉢} > \textcircled{㉠} > \textcircled{㉠} \text{입니다.}$$

해결 전략

계산 결과가 모두 같을 때에는 곱하는 수가 작을수록 곱해지는 수가 큰 수예요.

11 접근 » 먼저 1분 동안 채워지는 물의 양을 구합니다.

$$1 \text{분 동안 채워지는 물의 양은 } 3 \frac{1}{4} + 2 \frac{3}{4} = 5 \frac{4}{4} = 6 (\text{L}) \text{입니다.}$$

따라서 욕조에 물을 가득 채우는 데 걸리는 시간은

$$61 \frac{4}{5} \div 6 = \frac{309}{5} \times \frac{1}{6} = \frac{103}{10} = 10 \frac{3}{10} (\text{분}) \rightarrow 10 \frac{18}{60} \text{분} = 10 \text{분 } 18 \text{초입니다.}$$

해결 전략

(물을 가득 채우는 데 걸리는 시간) = (전체 물의 양) ÷ (1분 동안 채워지는 물의 양)

12 접근 » 직사각형의 세로를 □m라 하여 식을 세웁니다.

직사각형의 세로를 □m라 하면 가로는 (□ × 4)m입니다.

$$\square \times 4 - \square = 6 \frac{3}{11}, \square \times 3 = 6 \frac{3}{11},$$

$$\square = 6 \frac{3}{11} \div 3 = \frac{69}{11} \times \frac{1}{3} = \frac{23}{11} = 2 \frac{1}{11} (\text{m}) \text{입니다.}$$

따라서 직사각형의 세로는 $2 \frac{1}{11}$ m입니다.

보충 개념

●의 ■배
→ ● × ■

13 접근 » 먼저 괄호 안의 식을 계산한 뒤 나머지 계산을 합니다.

$$4\frac{1}{2} \star \frac{1}{2} = (4\frac{1}{2} - \frac{1}{2}) \div (4\frac{1}{2} + \frac{1}{2}) = 4 \div 5 = \frac{4}{5} \text{입니다.}$$

$$\begin{aligned} \text{따라서 } 4\frac{1}{5} \star \frac{4}{5} &= (4\frac{1}{5} - \frac{4}{5}) \div (4\frac{1}{5} + \frac{4}{5}) = 3\frac{2}{5} \div 5 = \frac{17}{5} \div 5 \\ &= \frac{17}{5} \times \frac{1}{5} = \frac{17}{25} \text{입니다.} \end{aligned}$$

주의

$4\frac{1}{5} \star 4\frac{1}{2}$ 을 먼저 계산하지 않도록 해요.

14 접근 » 먼저 한 통에 똑같이 나누어 담은 페인트의 양과 벽의 넓이를 각각 구합니다.

$$\text{(한 통에 똑같이 나누어 담은 페인트의 양)} = (3\frac{1}{6} + 2\frac{5}{6}) \div 3 = 6 \div 3 = 2 \text{ (L)}$$

$$\text{(벽의 넓이)} = 5\frac{4}{9} \times 7\frac{3}{7} = \frac{49}{9} \times \frac{52}{7} = \frac{364}{9} = 40\frac{4}{9} \text{ (m}^2\text{)}$$

$$\text{(1 L의 페인트로 칠한 벽의 넓이)} = 40\frac{4}{9} \div 2 = \frac{364}{9} \times \frac{1}{2} = \frac{182}{9} = 20\frac{2}{9} \text{ (m}^2\text{)}$$

해결 전략

(■ L의 페인트로 칠한 넓이)
= (1 L의 페인트로 칠한 넓이) × ■
(1 L의 페인트로 칠한 넓이)
= (■ L의 페인트로 칠한 넓이) ÷ ■

15 접근 » 먼저 세 사람이 각각 하루 동안 할 수 있는 일의 양을 구합니다.

전체 일의 양을 1이라 하면 세 사람이 각각 하루 동안 할 수 있는 일의 양은

$$\text{명수: } \frac{9}{13} \div 6 = \frac{9}{13} \times \frac{1}{6} = \frac{3}{26}, \text{ 지아: } \frac{24}{25} \div 12 = \frac{24}{25} \times \frac{1}{12} = \frac{2}{25},$$

$$\text{선호: } \frac{15}{17} \div 9 = \frac{15}{17} \times \frac{1}{9} = \frac{5}{51} \text{입니다.}$$

$$\text{명수가 2일 동안 한 일은 } \frac{3}{26} \times 2 = \frac{3}{13}, \text{ 지아가 5일 동안 한 일은 } \frac{2}{25} \times 5 = \frac{2}{5} \text{이}$$

$$\text{므로 선호가 해야 할 일의 양은 전체의 } 1 - \frac{3}{13} - \frac{2}{5} = 1 - \frac{15}{65} - \frac{26}{65} = \frac{24}{65} \text{입니다.}$$

해결 전략

선호가 해야 할 일은 전체 일의 양에서 명수가 2일 동안 한 일, 지아가 5일 동안 한 일을 뺀 양만큼이에요.

16 접근 » 선분 □의 길이를 □cm라 하여 식을 세웁니다.

$$\text{(변 □의 길이)} = 21 \div 3 = 7 \text{ (cm)이고}$$

$$\text{(삼각형 □□□의 넓이)} = \frac{7}{21} \times \frac{7}{24} = \frac{49}{8} = 6\frac{1}{8} \text{ (cm}^2\text{)입니다.}$$

해결 전략

직사각형의 넓이를 이용하여 삼각형의 넓이와 높이를 구해요.

선분 \square 의 길이를 \square cm라 하면 $\square \times 7 \div 2 = 6\frac{1}{8}$ 이므로

$$\square = 6\frac{1}{8} \times 2 \div 7 = \frac{49}{8} \times \frac{1}{2} \times \frac{1}{7} = \frac{7}{4} = 1\frac{3}{4} \text{ (cm)입니다.}$$

따라서 선분 \square 의 길이는 $1\frac{3}{4}$ cm입니다.

17 접근 \gg 이 시계는 하루에 몇 분씩, 1시간에 몇 분씩 빨라지는지 각각 구합니다.

이 시계는 하루에 $4 \div 3 = 4 \times \frac{1}{3} = \frac{4}{3} = 1\frac{1}{3}$ (분)씩,

1시간에 $1\frac{1}{3} \div 24 = \frac{4}{3} \times \frac{1}{24} = \frac{1}{18}$ (분)씩 빨라집니다.

6월 1일 오전 10시부터 7월 1일 오전 10시까지 30일이므로

$1\frac{1}{3} \times 30 = \frac{4}{3} \times 30 = 40$ (분) 빨라지고, 7월 1일 오전 10시부터 오후 7시까지

9시간이므로 $\frac{1}{18} \times 9 = \frac{1}{2}$ (분) 빨라집니다.

따라서 모두 $40 + \frac{1}{2} = 40\frac{1}{2}$ (분) 빨라지고, $40\frac{1}{2}$ 분 = $40\frac{30}{60}$ 분 = 40분 30초이므로 7월 1일 오후 7시에 이 시계가 가리키는 시각은 오후 7시 40분 30초입니다.

해결 전략

하루에 몇 분씩 빨라지는지 구한 다음, 1시간에 몇 분씩 빨라지는지 구해요.

18 접근 \gg ㉗ 바구니 1개, ㉘ 바구니 1개에 담은 귤의 양을 각각 \square , \triangle 라 하여 식을 세웁니다.

전체 귤의 양을 1이라 하고 ㉗ 바구니 1개에 담을 수 있는 귤의 양을 \square , ㉘ 바구니 1개에 담을 수 있는 귤의 양을 \triangle 라 하면 $\square + \triangle = \frac{1}{25}$ 이고 $\square \times 18 + \triangle \times 39 = 1$ 입니다.

$$\square \times 18 + \triangle \times 18 = (\square + \triangle) \times 18 = \frac{1}{25} \times 18 = \frac{18}{25} \text{ 이므로}$$

$$\square \times 18 + \triangle \times 39 = \square \times 18 + \triangle \times 18 + \triangle \times 21 = \frac{18}{25} + \triangle \times 21 = 1 \text{ 이고,}$$

$$\triangle \times 21 = 1 - \frac{18}{25} = \frac{7}{25}, \triangle = \frac{7}{25} \div 21 = \frac{7}{25} \times \frac{1}{21} = \frac{1}{75} \text{ 입니다.}$$

$\frac{1}{75} \times 75 = 1$ 이므로 전체 귤을 ㉘ 바구니에만 담으려면 ㉘ 바구니는 75개 필요합니다.

해결 전략

$$\square + \triangle = \frac{1}{25} \text{ 을 이용하여}$$

$\square \times 18 + \triangle \times 18$ 의 값을 구해요.

19 접근 >> ㉠의 값을 먼저 구한 뒤 ㉡의 값을 구합니다.

예 $\frac{1}{12} \times \frac{1}{2} = \frac{1}{\text{㉠}} \times \frac{1}{6}, \frac{1}{24} = \frac{1}{\text{㉠} \times 6}, 24 = \text{㉠} \times 6, \text{㉠} = 4$ 입니다.

$\frac{1}{7} \times \frac{1}{\text{㉠}} = \frac{1}{2} \times \frac{1}{\text{㉡}}, 7 \times 4 = 2 \times \text{㉡}, \frac{1}{28} = \frac{1}{2 \times \text{㉡}},$

$28 = 2 \times \text{㉡}, \text{㉡} = 14$ 입니다.

따라서 $\text{㉠} + \text{㉡} = 4 + 14 = 18$ 입니다.

보충 개념

$\frac{1}{\bullet} = \frac{1}{\blacksquare}$
 $\rightarrow \bullet = \blacksquare$

채점 기준	배점
㉠과 ㉡의 값을 각각 구했나요?	4점
㉠+㉡의 값을 구했나요?	1점

20 접근 >> 먼저 1분 동안 타는 양초의 길이를 구합니다.

예 (54분 동안 탄 양초의 길이) = $26 - 20 = 6$ (cm)이고,

(1분 동안 타는 양초의 길이) = $6 \div 54 = \frac{1}{9} \times \frac{1}{54} = \frac{1}{9}$ (cm)입니다.

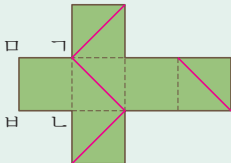
따라서 30분 동안 타는 양초의 길이는 $\frac{1}{9} \times 30 = \frac{10}{3} = 3\frac{1}{3}$ (cm)입니다.

해결 전략

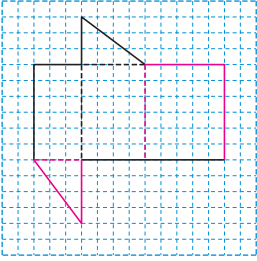
54분 동안 탄 양초의 길이 6 cm를 이용하여 1분 동안 타는 양초의 길이를 구해요.

채점 기준	배점
1분 동안 타는 양초의 길이를 구했나요?	3점
30분 동안 타는 양초의 길이를 구했나요?	2점

교내 경시 2단원 각기둥과 각뿔

- | | | | | | |
|-------------------------|------------------------|------------------------|---|------------------------|-----------|
| 01 풀이 참조 | 02 구각기둥 | 03 7개 | 04 175 cm | 05 11개 | 06 팔각뿔 |
| 07 110 cm | 08 448 cm ² | 09 십각뿔 | 10  | 11 육각형 | |
| 12 1296 cm ² | 13 십오각기둥 | 14 216 cm ² | 15 3가지 | 16 432 cm ² | 17 108 cm |
| 18 팔각뿔, 십이각뿔 | 19 396 cm ² | 20 18개 | | | |

01 접근 » 삼각기둥의 밑면은 2개이고, 옆면은 3개입니다.



해결 전략

삼각기둥의 모서리를 잘라서 펼쳤을 때의 모습을 생각하며 그려요.

02 접근 » 붙임 딱지가 붙어 있는 위치가 어디인지 잘 살펴봅니다.

각기둥의 한 밑면의 변의 수를 \square 개라 하면 모서리의 수는 $(\square \times 3)$ 개, 꼭짓점의 수는 $(\square \times 2)$ 개이므로 $(\square \times 3) + (\square \times 2) = 45$, $\square \times 5 = 45$, $\square = 9$ (개)입니다. 따라서 붙임 딱지가 45개 사용되는 각기둥은 구각기둥입니다.

해결 전략

붙임 딱지가 붙어 있는 위치가 모서리와 꼭짓점이므로 모서리의 수와 꼭짓점의 수의 합이 45개인 각기둥을 구해요.

03 접근 » 입체도형의 이름을 찾은 뒤, 면의 수를 구합니다.

밑면이 1개이고 옆면이 삼각형인 입체도형은 각뿔이고,
 (각뿔의 모서리의 수) = (밑면의 변의 수) \times 2 = 12이므로
 (밑면의 변의 수) = $12 \div 2 = 6$ (개)입니다.
 따라서 이 입체도형은 육각뿔이고, 육각뿔의 면의 수는 $6 + 1 = 7$ (개)입니다.

보충 개념

- (\square 각뿔의 모서리의 수)
= $\square \times 2$
- (\square 각뿔의 면의 수)
= $\square + 1$

04 접근 » 10 cm, 15 cm인 모서리가 각각 몇 개씩 있는지 찾습니다.

밑면이 정오각형인 각기둥이므로 오각기둥입니다.
 오각기둥에서 길이가 10 cm인 모서리가 10개, 15 cm인 모서리가 5개이므로 모든 모서리의 길이의 합은 $(10 \times 10) + (15 \times 5) = 100 + 75 = 175$ (cm)입니다.

해결 전략

밑면과 옆면의 모양으로 각기둥의 이름을 찾아 모든 모서리의 길이의 합을 구해요.

05 접근 » 먼저 팔각기둥의 면의 수를 구합니다.

팔각기둥의 면의 수는 $8 + 2 = 10$ (개)이므로 각뿔의 모서리의 수는 $10 \times 2 = 20$ (개)입니다. (각뿔의 모서리의 수) = (밑면의 변의 수) \times 2이므로 각뿔의 밑면의 변의 수는 $20 \div 2 = 10$ (개)입니다. 따라서 주어진 각뿔은 십각뿔이고 십각뿔의 꼭짓점의 수는 $10 + 1 = 11$ (개)입니다.

해결 전략

각뿔의 밑면의 변의 수를 찾아 각뿔의 꼭짓점의 수를 구해요.

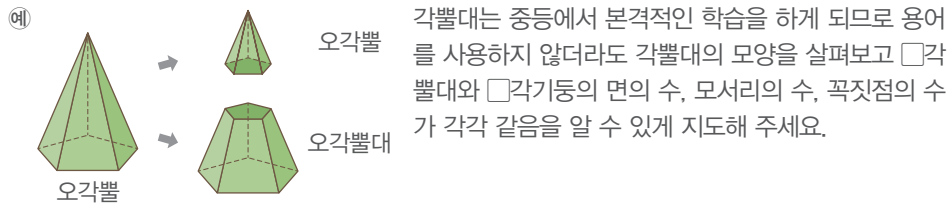
06 접근 >> 각뿔의 밑면의 변의 수를 □개라 하여 면의 수를 이용하여 식을 세웁니다.

각뿔의 밑면의 변의 수를 □개라 하면 각뿔의 높이에 수직인 평면으로 잘랐을 때 자른 부분의 아래에 있는 입체도형의 면의 수는 $(\square + 2)$ 개가 됩니다.

$\square + 2 = 10$ 에서 $\square = 8$ (개)이므로 자르기 전의 각뿔은 팔각뿔입니다.

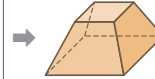
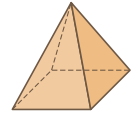
지도 가이드

각뿔을 밑면과 평행하게 자르면 다음과 같이 각뿔대가 만들어집니다.



보충 개념

예 밑면의 변의 수가 4개인 경우



(면의 수) = $(4 + 2)$ 개

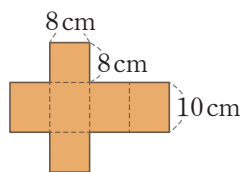
07 접근 >> 먼저 어떤 입체도형의 전개도인지 찾습니다.

밑면이 오각형이고 옆면이 삼각형이므로 오각뿔의 전개도입니다. 전개도로 오각뿔을 만들어 보면 길이가 9cm인 모서리가 5개, 13cm인 모서리가 5개이므로 모든 모서리의 길이의 합은 $(9 \times 5) + (13 \times 5) = 45 + 65 = 110$ (cm)입니다.

해결 전략

전개도를 접었을 때, 밑면과 옆면의 길이와 수를 각각 찾아 모든 모서리의 길이의 합을 구해요.

08 접근 >> 주어진 사각기둥의 전개도를 그려 봅니다.



$$\begin{aligned} (\text{전개도의 넓이}) &= (8 \times 8) \times 2 + (8 \times 10) \times 4 \\ &= (64 \times 2) + (80 \times 4) \\ &= 128 + 320 = 448 \text{ (cm}^2\text{)} \end{aligned}$$

해결 전략

전개도를 그려 보면 모양과 크기가 각각 같은 밑면이 2개, 옆면이 4개 있어요.

다른 풀이

각기둥의 전개도의 넓이는 각기둥의 겉넓이와 같습니다.

$$\begin{aligned} \Rightarrow (\text{전개도의 넓이}) &= (\text{각기둥의 겉넓이}) = (8 \times 8 + 8 \times 10 + 8 \times 10) \times 2 \\ &= (64 + 80 + 80) \times 2 = 448 \text{ (cm}^2\text{)} \end{aligned}$$

09 접근 >> 각기둥인지 각뿔인지 찾아 입체도형의 이름을 찾습니다.

밑면이 다각형이고 옆면이 삼각형이므로 각뿔입니다. 각뿔의 밑면의 변의 수를 □개라 하면 꼭짓점의 수는 $(\square + 1)$ 개, 모서리의 수는 $(\square \times 2)$ 개이므로

$$(\square + 1) + (\square \times 2) = 31, \square \times 3 + 1 = 31, \square \times 3 = 30, \square = 10 \text{ (개)입니다.}$$

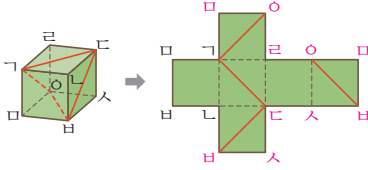
따라서 이 입체도형은 십각뿔입니다.

해결 전략

□각뿔의 꼭짓점의 수는 $(\square + 1)$ 개, 모서리의 수는 $(\square \times 2)$ 개예요.

10 접근 » 먼저 사각기둥의 각 꼭짓점의 위치를 전개도에 표시합니다.

사각기둥의 각 꼭짓점을 전개도 위에 표시한 후 테이프가 붙여진 꼭짓점을 찾아 선을 긋습니다.



주의

사각기둥의 보이지 않는 부분에 붙여진 테이프 자리도 잊지 않고 찾아요.

11 접근 » 각뿔의 밑면의 변의 수를 □개라 하여 식을 세웁니다.

각뿔의 밑면의 변의 수를 □개라 하면 모든 모서리의 길이의 합은 192 cm이므로 $14 \times \square + 18 \times \square = 192$, $32 \times \square = 192$, $\square = 6$ (개)입니다. 따라서 이 각뿔의 밑면의 모양은 육각형입니다.

12 접근 » 옆면의 수를 찾아 필요한 포장지의 넓이를 구합니다.

옆면의 모양이 직사각형이므로 이 입체도형은 각기둥이고, 모서리의 수가 18개이므로 한 밑면의 변의 수가 $18 \div 3 = 6$ (개)인 육각기둥입니다. 따라서 육각기둥의 옆면은 6개이므로 필요한 포장지의 넓이는 $(12 \times 18) \times 6 = 216 \times 6 = 1296$ (cm²)입니다.

해결 전략

(필요한 포장지의 넓이)
= (옆면 1개의 넓이)
× (옆면의 수)

13 접근 » 각기둥의 한 밑면의 변의 수를 □개라 하여 식을 세웁니다.

각기둥의 한 밑면의 변의 수를 □개라 하면 면의 수는 (□+2)개, 모서리의 수는 (□×3)개, 꼭짓점의 수는 (□×2)개이므로 모두 더하면 $(\square + 2) + (\square \times 3) + (\square \times 2) = 92$, $\square \times 6 + 2 = 92$, $\square \times 6 = 90$, $\square = 15$ (개)입니다. 따라서 밑면의 모양이 십오각형인 각기둥이므로 십오각기둥입니다.

해결 전략

□각기둥의 면의 수는 (□+2)개, 모서리의 수는 (□×3)개, 꼭짓점의 수는 (□×2)개예요.

14 접근 » 먼저 밑면과 옆면의 모양을 보고 이 각기둥의 높이를 찾습니다.

밑면이 삼각형이고 옆면이 직사각형이므로 삼각기둥입니다. 이 삼각기둥의 높이는 9 cm이고 옆면은 3개의 직사각형으로 이루어져 있습니다. 따라서 옆면의 넓이의 합은 $(6 \times 9) + (8 \times 9) + (10 \times 9) = 54 + 72 + 90 = 216$ (cm²)입니다.

해결 전략

밑면과 옆면에서 6 cm로 같은 길이의 변은 서로 만나는 부분이에요.

15 접근 >> 각기둥의 한 밑면의 변의 수를 □개라 하여 각기둥의 이름을 찾습니다.

각기둥의 한 밑면의 변의 수를 □개라 하면

$$(\text{꼭짓점의 수}) + (\text{면의 수}) = (\square \times 2) + (\square + 2) = 32,$$

$$\square \times 3 + 2 = 32, \square \times 3 = 30, \square = 10(\text{개}) \text{이므로 십각기둥입니다.}$$

십각기둥의 밑면에 칠한 색은 옆면에 칠할 수 없고, 옆면에는 2가지 색을 번갈아 칠하면 되므로 색을 가장 적게 사용하려면 3가지 색이 필요합니다.

주의

옆면의 수가 짝수이므로 2가지 색으로 번갈아 가며 칠할 수 있어요.

16 접근 >> 각기둥의 밑면의 한 변의 길이를 □cm라 하여 식을 세웁니다.

각기둥의 밑면의 한 변의 길이를 □cm라 하면 $(\square \times 8) \times 2 + 12 \times 8 = 240$ 이므로 $\square \times 16 + 96 = 240, \square \times 16 = 144, \square = 9(\text{cm})$ 입니다.

각기둥의 전개도의 옆면 8개 중에서 색칠한 부분은 4개입니다.

따라서 색칠한 부분의 넓이는 $(9 \times 12) \times 4 = 432(\text{cm}^2)$ 입니다.

해결 전략

밑면의 한 변의 길이가 옆면 한 개의 가로와 같아요.

17 접근 >> 사각기둥의 가로, 세로, 높이를 각각 ㉠cm, ㉡cm, ㉢cm로 나타내 봅니다.

사각기둥의 가로, 세로, 높이를 각각 ㉠cm, ㉡cm, ㉢cm라 하고 ㉠, ㉡, ㉢의 넓이를 ㉣, ㉤, ㉥을 이용하여 나타냅니다.

$$(\text{㉣의 넓이}) = \text{㉠} \times \text{㉡} = 90 \rightarrow \text{㉡} = \frac{90}{\text{㉠}},$$

$$(\text{㉤의 넓이}) = \text{㉠} \times \text{㉢} = 80 \rightarrow \text{㉢} = \frac{80}{\text{㉠}},$$

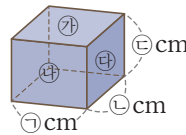
$$(\text{㉥의 넓이}) = \text{㉡} \times \text{㉢} = 72 \rightarrow \frac{90}{\text{㉠}} \times \frac{80}{\text{㉠}} = \frac{7200}{\text{㉠} \times \text{㉠}} = 72,$$

$$\text{㉠} \times \text{㉠} = 7200 \div 72 = 100, \text{㉠} = 10$$

$$\rightarrow \text{㉡} = \frac{90}{\text{㉠}} = \frac{90}{10} = 9, \text{㉢} = \frac{80}{\text{㉠}} = \frac{80}{10} = 8 \text{입니다.}$$

따라서 사각기둥의 모든 모서리의 길이의 합은

$$(\text{㉠} + \text{㉡} + \text{㉢}) \times 4 = (10 + 9 + 8) \times 4 = 108(\text{cm}) \text{입니다.}$$



해결 전략

사각기둥의 가로, 세로, 높이를 각각 구한 다음 사각기둥의 모든 모서리의 길이의 합을 구해요.

18 접근 >> 각뿔 ㉦, ㉧의 밑면의 변의 수를 각각 ㉨개, ㉩개라 하여 식을 세웁니다.

각뿔 ㉦의 밑면의 변의 수를 ㉨개라 하면 면의 수는 $(\text{㉨} + 1)$ 개이고 모서리의 수는 $(\text{㉨} \times 2)$ 개입니다.

각뿔 ㉧의 밑면의 변의 수를 ㉩개라 하면 면의 수는 $(\text{㉩} + 1)$ 개이고 모서리의 수는 $(\text{㉩} \times 2)$ 개입니다.

㉦의 꼭짓점의 수가 ㉧의 꼭짓점의 수보다 적고 면의 수의 차가 4개이므로

주의

$$\text{㉨} + \text{㉩} = 20 \text{이지만}$$

$$\text{㉩} - \text{㉨} = 4 \text{이므로}$$

$$\text{㉨} = 12, \text{㉩} = 8 \text{이라고}$$

구하지 않도록 해요.

$(\text{㉔} + 1) - (\text{㉓} + 1) = 4$ 에서 $\text{㉔} - \text{㉓} = 4$ 이고, 모서리의 수의 합은 40개이므로
 $(\text{㉓} \times 2) + (\text{㉔} \times 2) = 40$ 에서 $(\text{㉓} + \text{㉔}) \times 2 = 40$, $\text{㉓} + \text{㉔} = 20$ 입니다.
 따라서 $\text{㉓} = 8$, $\text{㉔} = 12$ 이므로 각뿔 ㉓는 팔각뿔이고 각뿔 ㉔는 십이각뿔입니다.

19 접근 » 먼저 빗금 친 면에 수직인 면을 모두 찾습니다.

㉔ 빗금 친 면은 각기둥의 밑면이고 각기둥에서 밑면과 수직인 면은 옆면입니다.
 따라서 빗금 친 면에 수직인 면의 넓이의 합은
 $(9 \times 11) + (15 \times 11) + (12 \times 11) = 99 + 165 + 132 = 396 \text{ (cm}^2\text{)}$ 입니다.

해결 전략

빗금 친 면에 수직인 면은 옆면이므로 각기둥의 모든 옆면의 넓이의 합을 구하면 돼요.

채점 기준	배점
빗금 친 면에 수직인 면을 모두 찾았나요?	2점
빗금 친 면에 수직인 면의 넓이의 합을 구했나요?	3점

20 접근 » 각뿔의 밑면의 변의 수를 □개라 하여 식을 세웁니다.

㉔ 각뿔의 밑면의 변의 수를 □개라 하면 면의 수는 $(\square + 1)$ 개,
 꼭짓점의 수도 $(\square + 1)$ 개이므로 $(\square + 1) + (\square + 1) = 20$, $\square + \square + 2 = 20$,
 $\square + \square = 18$, $\square = 9$ (개)입니다.
 따라서 구각뿔이고 구각뿔의 모서리의 수는 $9 \times 2 = 18$ (개)입니다.

해결 전략

각뿔의 밑면의 변의 수를 구한 다음 각뿔의 모서리의 수를 구해요.

채점 기준	배점
각뿔의 밑면의 변의 수를 구했나요?	3점
각뿔의 모서리의 수를 구했나요?	2점

교내 경시 3단원 소수의 나눗셈				
01 5.25	02 11.2 m	03 ㉔ 약 10 km, 9.9 km	04 5.2배	05 소미, 5번
06 4.24 cm	07 121번	08 35분 12초	09 1.4배	10 35.88 cm ²
11 5	12 1.232 m	13 2.5	14 15.35	15 2.81
16 5시간 24분	17 1분 36초 후	18 53.125cm ²	19 0.95 km	20 207500원

01 접근 » 두 수직선의 눈금 한 칸의 크기를 각각 구합니다.

왼쪽 수직선은 작은 눈금 한 칸의 크기가 0.01이므로 ㉓는 15.75이고, 오른쪽 수직선은 작은 눈금 한 칸의 크기가 1이므로 ㉔는 3입니다.
 따라서 $\text{㉓} \div \text{㉔} = 15.75 \div 3 = 5.25$ 입니다.

보충 개념

(작은 눈금 한 칸의 크기)
 $=$ (큰 눈금 한 칸의 크기)
 \div (작은 눈금의 칸수)

02 접근 >> 나무 사이의 간격이 몇 군데인지 알아봅니다.

나무 9그루를 같은 간격으로 심으면 나무 사이의 간격은 $9 - 1 = 8$ (군데) 생깁니다.
 $89.6 \div 8 = 11.2$ (m)이므로 나무 사이의 간격을 11.2 m로 해야 합니다.

보충 개념

■개를 나란히 놓으면 간격은
(■-1)군데 생겨요.

03 접근 >> 자동차로 간 거리를 올림하여 어림한 값을 먼저 구합니다.

19.8 km는 약 20 km이고 $20 \div 2 = 10$ (km)이므로 자동차가 한 시간 동안 이동한 거리는 약 10 km라고 어림할 수 있습니다.
실제로 계산해 보면 자동차가 한 시간 동안 이동한 거리는
 $19.8 \div 2 = 9.9$ (km)입니다.

해결 전략

19.8 km의 일의 자리 미만을 올림하여 간단하게 나타낸 다음 자동차가 한 시간 동안 이동한 거리를 어림하여 나타내요.

04 접근 >> 예서가 마신 우유의 양을 알아봅니다.

(예서가 마신 양) = $347.2 - 291.2 = 56$ (mL)입니다.
따라서 재훈이는 예서의 $291.2 \div 56 = 5.2$ (배)를 마셨습니다.

해결 전략

재훈이는 예서의 몇 배
→ (재훈이가 마신 양) ÷ (예서가 마신 양)

05 접근 >> 두 사람이 어항에 물을 부은 횟수를 각각 구해 비교합니다.

(소미가 부은 횟수) = $565.5 \div 40 = 14.1375 \rightarrow 15$ 번
(은수가 부은 횟수) = $668.5 \div 70 = 9.55 \rightarrow 10$ 번
따라서 소미가 물을 $15 - 10 = 5$ (번) 더 많이 부었습니다.

주의

소미, 은수가 부은 횟수를 각각 14번, 9번이라고 하지 않도록 해요.

06 접근 >> 사다리꼴의 높이를 □ cm라 하여 넓이를 구하는 식으로 나타냅니다.

사다리꼴의 높이를 □ cm라 하면 $(4.2 + 5.8) \times \square \div 2 = 21.2$ 에서
 $10 \times \square \div 2 = 21.2$, $\square = 21.2 \times 2 \div 10$, $\square = 42.4 \div 10 = 4.24$ (cm)입니다.
따라서 이 사다리꼴의 높이는 4.24 cm입니다.

보충 개념

(사다리꼴의 넓이)
= ((윗변) + (아랫변))
× (높이) ÷ 2

07 접근 >> 사자가 한 번 뿔 때마다 얼룩말보다 몇 m를 더 가는지 생각해 봅니다.

사자가 한 번 뿔 때마다 얼룩말보다 $370 - 295 = 75$ (cm)를 더 갑니다.

주의

단위를 cm로 맞추어야 해요.

90.6 m = 9060 cm이므로 사자가 얼룩말을 따라잡기 위해서는
 $9060 \div 75 = 120.8$ (번)을 뛰어야 합니다.
 따라서 최소한 $120 + 1 = 121$ (번)을 뛰어야 합니다.

08 접근 >> 먼저 새롭이가 1분 동안 갈 수 있는 거리를 구합니다.

(새롭이가 1분 동안 갈 수 있는 거리) = $0.6 \times 45 = 27$ (m)이므로
 (새롭이가 편의점까지 가는 데 걸리는 시간) = $950.4 \div 27 = 35.2$ (분)입니다.
 0.2 분 = 12초이므로 새롭이가 편의점까지 걸어가는 데 35분 12초가 걸립니다.

보충 개념

$$0.2\text{분} = \frac{2}{10}\text{분} \\ = \frac{12}{60}\text{분} = 12\text{초}$$

09 접근 >> 먼저 형의 몸무게를 이용하여 지수의 몸무게를 구합니다.

(지수의 몸무게) = $42 \times 0.8 = 33.6$ (kg)이고
 (동생의 몸무게) = $33.6 \times 0.75 = 25.2$ (kg)입니다.
 (지수와 동생의 몸무게의 합) = $33.6 + 25.2 = 58.8$ (kg)이므로
 지수와 동생의 몸무게의 합은 형의 몸무게의 $58.8 \div 42 = 1.4$ (배)입니다.

해결 전략

지수의 몸무게를 구한 뒤 동생의 몸무게를 구하여 지수와 동생의 몸무게의 합은 형의 몸무게의 몇 배인지 구해요.

10 접근 >> 변 $ㄴ$ 의 두 삼각형의 밑변으로 생각합니다.

변 $ㄴ$ 의 길이를 \square cm라 하면 (삼각형 $ㄱ$ 의 넓이) = $\square \times 6 \div 2 = 37.44$,
 $\square = 37.44 \times 2 \div 6 = 74.88 \div 6 = 12.48$ (cm)입니다.
 따라서 삼각형 $ㄴ$ 의 넓이는 $12.48 \times 5.75 \div 2 = 71.76 \div 2 = 35.88$ (cm²)입니다.

해결 전략

삼각형 $ㄱ$ 의 넓이를 이용하여 변 $ㄴ$ 의 길이를 구한 뒤 삼각형 $ㄴ$ 의 넓이를 구해요.

11 접근 >> 나눗셈을 하여 소수점 아래 반복되는 수를 찾습니다.

$32.5 \div 11 = 2.9545454545 \dots$ 이므로 소수 둘째 자리부터 5, 4가 반복됩니다.
 소수 첫째 자리를 제외하고 짝수 번째 자리 수는 5, 홀수 번째 자리 수는 4이므로
 소수 150째 자리 수는 5입니다.

12 접근 >> 직사각형의 넓이와 가로를 알면 세로를 구할 수 있습니다.

(정사각형의 넓이) = $2.8 \times 2.8 = 7.84$ (m²)입니다.
 직사각형의 가로는 $2.8 + 2.2 = 5$ (m)이므로 세로는 $7.84 \div 5 = 1.568$ (m)로 해

야 합니다. 따라서 세로는 정사각형의 한 변의 길이를
 $2.8 - 1.568 = 1.232$ (m)만큼 줄여야 합니다.


주의

새로 만든 직사각형의 세로 길이를 답으로 쓰지 않도록 해요.

13 접근 >> 어떤 소수를 □라 하여 식을 세웁니다.

어떤 소수를 □라 하여 □의 소수점을 오른쪽으로 한 자리 옮기면 $10 \times \square$ 가 됩니다.
 $10 \times \square - \square = 22.5$, $9 \times \square = 22.5$, $\square = 22.5 \div 9 = 2.5$ 입니다.
 따라서 처음 소수는 2.5입니다.

보충 개념



14 접근 >> 어떤 수를 □라 하여 나눗셈식을 세웁니다.

어떤 수를 □라 하면 $(\square + 0.7) \div 50 = 6 \dots 7$ 에서
 $\square + 0.7 = 50 \times 6 + 7 = 307$, $\square = 307 - 0.7 = 306.3$ 입니다.
 따라서 바르게 계산하면 $(306.3 + 0.7) \div 20 = 307 \div 20 = 15.35$ 입니다.

주의

어떤 수를 구한 다음 바르게 계산한 값을 구해야 해요.

15 접근 >> 주어진 두 식을 이용하여 ●에 관한 식으로 나타냅니다.

$\blacktriangle \div \bullet = 14$ 이므로 $\blacktriangle = 14 \times \bullet$ 입니다.
 $\blacktriangle + \bullet = 42.15$ 에서 $14 \times \bullet + \bullet = 42.15$, $15 \times \bullet = 42.15$, $\bullet = 2.81$ 입니다.

보충 개념



16 접근 >> 먼저 강물이 1시간 동안 흐르는 거리를 구합니다.

강물이 흐르는 방향으로 가므로 배가 강을 따라 간 거리는 강물이 흐르는 거리와 배가 간 거리를 더해서 구합니다.
 (강물이 1시간 동안 흐르는 거리) = $51.9 \div 3 = 17.3$ (km)이므로
 (배가 강을 따라 1시간 동안 가는 거리) = $34.7 + 17.3 = 52$ (km)입니다.
 $280.8 \div 52 = 5.4$ (시간)이고 0.4시간 = 24분이므로 5시간 24분이 걸립니다.

주의

배가 강물이 흐르는 방향을 따라 가고 있으므로 배가 움직인 거리는 강물이 흐르는 거리와 배가 간 거리를 더해서 구해야 해요.

17 접근 >> 두 양초의 길이가 같아지는 때의 두 양초의 길이를 각각 구합니다.

불을 똑같이 붙인 다음 두 양초의 길이가 같아지는 때를 □분 후라 하면, 길이가 25.32 cm인 양초의 길이는 □분 후 $(25.32 - 1.5 \times \square)$ cm가 되고 길이가 28.52 cm인 양초의 길이는 □분 후 $(28.52 - 3.5 \times \square)$ cm가 됩니다.
 이 두 양초의 길이가 같아져야 하므로 $25.32 - 1.5 \times \square = 28.52 - 3.5 \times \square$,
 $2 \times \square = 3.2$, $\square = 3.2 \div 2 = 1.6$ (분 후)입니다.

해결 전략

양초가 타면 시간이 지날수록 길이가 줄어드는 것이므로 처음 길이에서 시간에 따라 줄어드는 길이를 빼서 구해요.

0.6분=36초이므로 두 양초의 길이가 같아지는 때는 두 양초에 동시에 불을 붙이고 1분 36초 후입니다.

18 접근 » 색칠된 부분의 넓이를 구하는 규칙을 찾습니다.

(첫 번째 모양의 색칠된 부분의 넓이)=(정삼각형의 넓이)÷4
 (두 번째 모양의 색칠된 부분의 넓이)
 =(정삼각형의 넓이)÷4+(정삼각형의 넓이)÷4÷4
 (세 번째 모양의 색칠된 부분의 넓이)
 =(정삼각형의 넓이)÷4+(정삼각형의 넓이)÷4÷4+(정삼각형의 넓이)
 ÷4÷4÷4
 (네 번째 모양의 색칠된 부분의 넓이)
 =(정삼각형의 넓이)÷4+(정삼각형의 넓이)÷4÷4+(정삼각형의 넓이)
 ÷4÷4÷4+(정삼각형의 넓이)÷4÷4÷4÷4
 =160÷4+160÷4÷4+160÷4÷4÷4+160÷4÷4÷4÷4
 =40+10+2.5+0.625=53.125(cm²)

해결 전략

정삼각형을 4등분 한 것 중 한 칸의 넓이는 (정삼각형의 넓이)÷4와 같아요.

19 접근 » m 단위를 km 단위로 고친 뒤 기차가 1분 동안 달린 거리를 구합니다.

㉠ 기차의 길이는 70 m=0.07 km이므로 기차가 터널을 완전히 통과하려면 $2.78+0.07=2.85$ (km)를 달려야 합니다.
 따라서 기차가 1분 동안 달린 거리는 $2.85÷3=0.95$ (km)입니다.

해결 전략

(기차가 터널을 완전히 통과할 때 달려야 하는 거리)
 =(터널의 길이)
 +(기차의 길이)

채점 기준	배점
기차가 터널을 완전히 통과하는 데 달린 거리를 구했나요?	2점
기차가 1분 동안 달린 거리를 구했나요?	3점

20 접근 » 먼저 팔 수 있는 고구마와 감자는 각각 몇 상자인지 구합니다.

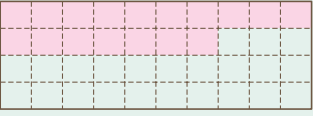
㉠ 팔 수 있는 고구마는 $95.4÷5=19.08$ 에서 19상자이고
 팔 수 있는 감자는 $87.2÷4=21.8$ 에서 21상자입니다.
 따라서 고구마와 감자를 팔아서 번 돈은 모두
 $6500×19+4000×21=123500+84000=207500$ (원)입니다.

해결 전략

팔 수 있는 고구마와 감자는 각각 19.08상자, 21.8상자인데 소수점 아래 수는 버려야 하므로 각각 19상자, 21상자가 돼요.

채점 기준	배점
팔 수 있는 고구마와 감자의 상자 수를 각각 구했나요?	3점
고구마와 감자를 팔아서 번 돈은 모두 얼마인지 구했나요?	2점

교내 경시 4단원 비와 비율

- 01 15 : 13 02 0.25 03 ㉠, ㉡, ㉢ 04 25 %
- 05 예  06 840명 07 1512 cm² 08 ㉣ 은행 09 5 kg
- 10 0.15 11 ㉤ 서점, 275원 12 62.5 % 13 $\frac{5}{11}$
- 14 42.5 % 15 73.1 % 16 256명 17 200 g 18 8 % 19 9
- 20 2250원

01 접근 >> 여학생 수를 구한 뒤 여학생 수에 대한 남학생 수의 비를 구합니다.

(여학생 수) = (전체 학생 수) - (남학생 수) = 280 - 150 = 130(명)

→ (남학생 수) : (여학생 수) = 150 : 130 = 15 : 13

보충 개념

150 : 130은 각각 10으로 나누어지므로
 (150 ÷ 10) : (130 ÷ 10)
 = 15 : 13으로 나타내요.

02 접근 >> 전체 곡식의 양을 구한 뒤 전체 곡식의 양에 대한 귀리의 양의 비율을 구합니다.

(전체 곡식의 양) = (쌀의 양) + (귀리의 양) + (수수)의 양)
 = 200 + 125 + 175 = 500 (g)이므로

(귀리의 양) : (전체 곡식의 양) = 125 : 500입니다.

따라서 잡곡밥에 들어간 전체 곡식의 양에 대한 귀리의 양의 비율을 소수로 나타내면

$\frac{125}{500} = \frac{25}{100} = 0.25$ 입니다.

보충 개념

분수의 분모를 100으로 만들면 소수로 나타내기 쉬워요.

03 접근 >> (비율) = $\frac{\text{비교하는 양}}{\text{기준량}}$

㉠ 7 : 50 → $\frac{7}{50} = \frac{14}{100} = 0.14$

㉡ 10에 대한 11의 비 → $\frac{11}{10} = 1\frac{1}{10} = 1.1$

㉢ 23의 25에 대한 비 → $\frac{23}{25} = \frac{92}{100} = 0.92$

따라서 ㉡ > ㉢ > ㉠입니다.

해결 전략

- ■에 대한 ▲의 비율 → $\frac{\triangle}{\blacksquare}$
- ▲의 ■에 대한 비율 → $\frac{\triangle}{\blacksquare}$

04 접근 » 전체 책의 수를 구한 뒤 동화책의 백분율을 구합니다.

(전체 책의 수) = $16 + 12 + 20 = 48$ (권)입니다.

(동화책의 수) : (전체 책의 수) = $12 : 48$ 이므로

(전체 책의 수에 대한 동화책 수의 비율) = $\frac{12}{48} = \frac{1}{4} \Rightarrow \frac{1}{4} \times 100 = 25$ (%)입니다.

해결 전략

(비율) $\times 100 =$ (백분율) (%)

05 접근 » 백분율의 기준량은 100입니다.

$42.5\% \Rightarrow \frac{42.5}{100} = \frac{425}{1000} = \frac{17}{40}$ 이므로 40칸 중에 17칸을 색칠합니다.

해결 전략

전체가 40칸이므로 분모를 40으로 나타내면 분자가 칠해야 하는 칸수가 돼요.

06 접근 » 경쟁률을 이용하여 합격률을 찾습니다.

경쟁률이 $20 : 1$ 이므로 합격률은 $\frac{1}{20}$ 입니다.

지원한 사람의 $\frac{1}{20}$ 인 42명이 합격했으므로 지원한 사람은 $42 \times 20 = 840$ (명)입니다.

해결 전략

경쟁률 ■ : 1

\Rightarrow 합격률 $\frac{1}{\blacksquare}$

07 접근 » 직사각형의 가로를 구한 뒤 직사각형의 넓이를 구합니다.

$\frac{\text{가로}}{\text{세로}} = \frac{6}{7}$ 이므로 (가로) = $42 \times \frac{6}{7} = 36$ (cm)입니다.

따라서 직사각형의 넓이는 $36 \times 42 = 1512$ (cm²)입니다.

보충 개념

(직사각형의 넓이) = (가로) \times (세로)

08 접근 » 두 은행의 1개월 이자를 각각 알아봅니다.

(㉠ 은행의 1개월 이자) = $4000 \div 8 = 500$ (원)

\Rightarrow (이자율) = $\frac{500}{40000} = \frac{125}{10000} = 0.0125$

(㉡ 은행의 1개월 이자) = $6600 \div 11 = 600$ (원)

\Rightarrow (이자율) = $\frac{600}{50000} = \frac{120}{10000} = \frac{12}{1000} = 0.012$

$0.0125 > 0.012$ 이므로 ㉠ 은행에 예금하는 것이 더 이익입니다.

해결 전략

(이자율) = $\frac{\text{이자}}{\text{예금한 금액}}$

09 접근 >> 전체의 백분율은 100%입니다.

전체의 60%가 3kg이므로 전체의 10%는 $3 \div 6 = 0.5$ (kg)입니다.
따라서 전체 방울토마토는 $0.5 \times 10 = 5$ (kg)입니다.

해결 전략

전체의 10%가 몇 kg인지 구해서 전체 방울토마토의 양을 구해요.

10 접근 >> ㉠에 대한 ㉡의 비율을 분수로 나타냅니다.

㉡에 대한 ㉠의 비율은 $\frac{㉠}{㉡} = \frac{3}{4}$ 이고,

㉠에 대한 ㉡의 비율은 $\frac{㉡}{㉠} = 0.2 = \frac{2}{10} = \frac{1}{5}$ 입니다.

따라서 ㉡에 대한 ㉠의 비율은 $\frac{㉠}{㉡} = \frac{㉠}{㉡} \times \frac{㉡}{㉠} = \frac{3}{4} \times \frac{1}{5} = \frac{3}{20} = \frac{15}{100} = 0.15$ 입니다.

해결 전략

$\frac{1}{\frac{㉠}{㉡}} \times \frac{㉠}{㉡} = \frac{㉠}{㉡}$ 이므로

$\frac{㉠}{㉡} = \frac{㉠}{㉡} \times \frac{㉡}{㉠}$ 로 나타낼 수 있어요.

11 접근 >> 먼저 ㉡ 서점과 ㉢ 서점의 판매 가격을 각각 구합니다.

(㉡ 서점의 판매 가격) = $11000 - 11000 \times \frac{15}{100}$
= $11000 - 1650 = 9350$ (원)이고,

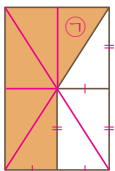
(㉢ 서점의 판매 가격) = $11000 - 11000 \times \frac{1}{8}$
= $11000 - 1375 = 9625$ (원)입니다.

따라서 ㉡ 서점에서 판매하는 책이 $9625 - 9350 = 275$ (원) 더 싸입니다.

해결 전략

(할인된 판매 가격)
= (원래 가격) - (할인 금액)

12 접근 >> 직사각형을 똑같은 모양 8개로 나누어 봅니다.



(색칠한 부분의 넓이) = (㉠의 넓이) \times 5

(전체 직사각형의 넓이) = (㉠의 넓이) \times 8

따라서 색칠한 부분의 넓이는 전체 직사각형의 넓이의 $\frac{5}{8}$ 이므로

$\frac{5}{8} \times 100 = 62.5$ (%)입니다.

해결 전략

색칠한 부분은 전체 직사각형을 8로 나눈 것 중의 5예요.

13 접근 >> 먼저 은수와 어머니의 현재 나이를 각각 구합니다.

현재 나이의 비가 1:3이므로 $48 \div 4 = 12$ 에서 은수의 나이는 12살, 어머니의 나이는 36살입니다.

8년 후의 은수의 나이는 $12 + 8 = 20$ (살)이고, 어머니의 나이는 $36 + 8 = 44$ (살)이

므로 $\frac{(\text{은수의 나이})}{(\text{어머니의 나이})} = \frac{20}{44} = \frac{5}{11}$ 입니다.

주의

비율을 기약분수로 나타내요.

14 접근 » 이익을 구한 뒤 원가에 대한 이익의 비율을 구합니다.

(사과를 팔아서 얻은 금액) = $950 \times 30 = 28500$ (원)이므로

(이익) = $28500 - 20000 = 8500$ (원)입니다.

따라서 원가에 대한 이익의 비율은 $\frac{8500}{20000} = \frac{17}{40} \Rightarrow \frac{17}{40} \times 100 = 42.5$ (%)입니다.

해결 전략

(이익) = (판매 가격) - (원가)

15 접근 » 하람이의 몸무게를 이용하여 소라의 몸무게를 나타냅니다.

$$\begin{aligned} (\text{소라의 몸무게}) &= (\text{하람이의 몸무게}) \times 0.85 \\ &= ((\text{서준이의 몸무게}) \times (1 - 0.14)) \times 0.85 \\ &= (\text{서준이의 몸무게}) \times 0.86 \times 0.85 \end{aligned}$$

따라서 소라의 몸무게는 서준이의 몸무게의 $0.86 \times 0.85 = 0.731 \Rightarrow 73.1$ %입니다.

해결 전략

하람이의 몸무게는 서준이의 몸무게보다 14 % 가벼우므로 전체 1에서 0.14를 빼서 나타내요.

다른 풀이

서준이의 몸무게를 1이라 하면 하람이의 몸무게는 $1 - 0.14 = 0.86$ 이고 소라의 몸무게는 $0.86 \times 0.85 = 0.731$ 입니다.

따라서 소라의 몸무게를 백분율로 나타내면 $0.731 \times 100 = 73.1$ (%)입니다.

16 접근 » 수학을 좋아하는 학생 수부터 알아봅니다.

수학을 좋아하는 학생의 35 %인 56명이 영어를 좋아하므로 수학을 좋아하는 학생을 전체로 봤을 때 전체의 5 %는 $56 \div 7 = 8$ (명)이고,

전체 100 %는 $8 \times 20 = 160$ (명)입니다.

수학을 좋아하는 학생이 160명이고 이는 6학년 학생 중 $\frac{5}{8}$ 이므로 6학년 학생의 $\frac{1}{8}$

은 $160 \div 5 = 32$ (명)이고 6학년 학생 전체는 $32 \times 8 = 256$ (명)입니다.

해결 전략

$$\begin{aligned} (\text{전체의 } 35\%) \div 7 &= (\text{전체의 } 5\%) \\ (\text{전체의 } 5\%) \times 20 &= (\text{전체 } 100\%) \end{aligned}$$

17 접근 » 먼저 진하기가 12 %인 소금물에 녹아 있는 소금의 양을 구합니다.

(진하기가 12 %인 소금물에 녹아 있는 소금의 양) = $400 \times \frac{12}{100} = 48$ (g)

더 넣은 물의 양을 □g이라 하면

해결 전략

$$\begin{aligned} (\text{소금의 진하기}) &= \frac{(\text{소금 양})}{(\text{소금물 양})} \end{aligned}$$

(물을 더 넣은 소금물의 진하기) = $\frac{48}{(400+\square)} = \frac{8}{100} = \frac{48}{600}$ 입니다.
 $400 + \square = 600$ 이므로 더 넣은 물의 양은 $600 - 400 = 200$ (g)입니다.

18 접근 >> 먼저 새로 만든 삼각형의 밑변의 길이와 높이를 각각 구합니다.

(줄어든 밑변의 길이) = $50 - 50 \times \frac{16}{100} = 50 - 8 = 42$ (cm)이고,

(늘어난 높이) = $35 + 35 \times \frac{2}{7} = 35 + 10 = 45$ (cm)입니다.

(처음 삼각형의 넓이) = $50 \times 35 \div 2 = 875$ (cm²)이고,

(새로 만든 삼각형의 넓이) = $42 \times 45 \div 2 = 945$ (cm²)이므로

새로 만든 삼각형의 넓이는 처음 삼각형의 넓이보다 $\frac{945 - 875}{875} = \frac{70}{875}$

→ $\frac{70}{875} \times 100 = 8$ (%) 늘어났습니다.

보충 개념

(삼각형의 넓이)

= (밑변의 길이) × (높이) ÷ 2

19 접근 >> ㉠과 ㉡의 비율을 분수로 나타낸 뒤, ㉠과 ㉡의 합이 24인 분수를 구합니다.

예 ㉠과 ㉡의 비율은 $\frac{㉠}{㉡} = 0.6 = \frac{6}{10} = \frac{3}{5}$ 입니다.

$\frac{3}{5} = \frac{6}{10} = \frac{9}{15} = \frac{12}{20} = \dots$ 에서 분모와 분자의 합이 24인 분수는 $\frac{9}{15}$ 입니다.

따라서 $\frac{㉠}{㉡} = \frac{9}{15}$ 이므로 ㉠ = 9입니다.

보충 개념

분모와 분자에 0이 아닌 같은 수를 곱해도 분수의 크기는 변하지 않아요.

채점 기준	배점
㉠과 ㉡의 비율을 분수로 나타냈나요?	2점
㉠과 ㉡의 합이 24인 분수를 구했나요?	2점
㉠을 구했나요?	1점

20 접근 >> 먼저 농구공 한 개의 정가를 구합니다.

예 (농구공 한 개의 정가) = $18000 + 18000 \times \frac{25}{100}$
 $= 18000 + 4500 = 22500$ (원)입니다.

(할인하여 판매한 농구공 한 개의 가격)

= $22500 - 22500 \times 0.1 = 22500 - 2250 = 20250$ (원)입니다.

따라서 할인한 농구공 한 개를 팔아서 얻은 이익은 $20250 - 18000 = 2250$ (원)입니다.

해결 전략

농구공 한 개의 정가 → 할인하여 판매한 농구공 한 개의 가격 → 농구공 한 개를 팔아서 얻은 이익 순서로 구해요.

채점 기준	배점
농구공 한 개의 정가를 구했나요?	2점
할인하여 판매한 농구공 한 개의 가격을 구했나요?	2점
할인한 농구공 한 개를 팔아 얻는 이익을 구했나요?	1점

교내 경시 5단원 여러 가지 그래프

01 ㉔ 지역	02 $\frac{7}{9}$	03 22명	04 3 %	05 2명				
06	<p>농장별 사과 수확량</p> <table border="1"> <tr> <td>㉔ 농장 </td> <td>㉔ 농장 </td> </tr> <tr> <td>㉔ 농장 </td> <td>㉔ 농장 </td> </tr> </table> <p> 1t 100kg</p>		㉔ 농장 	㉔ 농장 	㉔ 농장 	㉔ 농장 	07 5100 kg	08 50명
㉔ 농장 	㉔ 농장 							
㉔ 농장 	㉔ 농장 							
			09 8명	10 4명				
			11 36 %	12 500명				
			13 36명	14 30명				
			15 42 g	16 528명				
			17 0.9	18 144명				
			19 48 cm	20 156 km ²				

01 접근 >> 큰 그림부터 개수를 세어 우유 소비량을 읽습니다.
 큰 그림이 가장 적은 ㉔ 지역의 우유 소비량이 가장 적습니다.

해결 전략
 큰 그림의 개수가 적을수록 우유 소비량이 적은 지역이에요.

02 접근 >> 두 지역의 하루 우유 소비량을 알아봅니다.

㉔ 지역의 우유 소비량은 360 kg이고, ㉔ 지역의 우유 소비량은 280 kg입니다.

→ $\frac{280}{360} = \frac{7}{9}$

주의
 비율을 기약분수로 나타내요.

03 접근 >> 전체의 백분율은 100 %입니다.

전체의 20 %가 8명이므로 전체 100 %는 $8 \times 5 = 40$ (명)입니다.

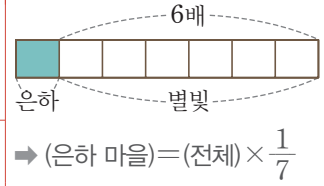
따라서 사랑 마을에 사는 학생은 $40 \times \frac{55}{100} = 22$ (명)입니다.

보충 개념
 $(\text{전체의 } 20\%) \times 5$
 $= (\text{전체 } 100\%)$

04 접근 >> 먼저 별빛 마을과 은하 마을에 사는 학생 수의 합의 백분율을 구합니다.

별빛 마을과 은하 마을에 사는 학생 수의 합은 전체의
 $100 - (55 + 20 + 4) = 21$ (%)이므로 은하 마을에 사는 학생은 전체의
 $21 \times \frac{1}{7} = 3$ (%)입니다.

해결 전략



05 접근 >> 먼저 토끼와 햄스터를 좋아하는 학생 수를 각각 구합니다.

토끼: $40 \times \frac{25}{100} = 10$ (명)이고
 햄스터: $100 - (35 + 25 + 10) = 30$ (%) $\Rightarrow 40 \times \frac{30}{100} = 12$ (명)입니다.
 따라서 햄스터를 좋아하는 학생은 토끼를 좋아하는 학생보다 $12 - 10 = 2$ (명) 더 많습니다.

보충 개념

백분율의 합은 100 %예요.

06 접근 >> 먼저 ㉠와 ㉡ 농장의 사과 수확량의 합을 구합니다.

(㉠와 ㉡ 농장의 사과 수확량의 합) = $10.6 - 4 - 2.2 = 4.4$ (t)입니다.
 ㉠ 농장의 사과 수확량을 □t이라 하면 ㉡ 농장의 사과 수확량은 $(\square \times 3)$ t이고,
 $\square + (\square \times 3) = \square \times 4 = 4.4$ 이므로 $\square = 4.4 \div 4 = 1.1$ (t)입니다.
 ㉠ 농장의 수확량은 $1.1 \text{ t} = 1100 \text{ kg}$ 이므로 🍎 1개, 🍎 1개로 나타내고, ㉡ 농장의 수확량은 $1.1 \times 3 = 3.3$ (t) $\Rightarrow 3300 \text{ kg}$ 이므로 🍎 3개, 🍎 3개로 나타냅니다.

해결 전략

㉡ 농장의 사과 수확량이 ㉠ 농장의 3배이므로 ㉡ 농장의 사과 수확량은 $(\square \times 3)$ t에요.

07 접근 >> 먼저 사과 수확량이 가장 많은 농장과 가장 적은 농장을 찾습니다.

사과 수확량이 가장 많은 농장은 ㉢ 농장으로 $4 \text{ t} = 4000 \text{ kg}$ 이고 가장 적은 농장은 ㉠ 농장으로 $1.1 \text{ t} = 1100 \text{ kg}$ 입니다.
 따라서 두 농장의 사과 수확량의 합은 $4000 + 1100 = 5100$ (kg)입니다.

08 접근 >> 전체의 10%가 몇 명인지 생각해 봅니다.

전체의 60%인 남학생이 30명이므로 전체의 10%는 $30 \div 6 = 5$ (명)입니다.
 따라서 지은이네 동아리 학생 전체는 $5 \times 10 = 50$ (명)입니다.

해결 전략

전체의 10%가 몇 명인지 구해서 전체 학생 수를 구해요.

09 접근 >> 먼저 딸기를 좋아하는 여학생 수의 백분율을 구합니다.

여학생은 $50 - 30 = 20$ (명)이고 딸기를 좋아하는 여학생은 전체의 $100 - (30 + 15 + 10 + 5) = 40$ (%)이므로 여학생 중 딸기를 좋아하는 학생은 $20 \times \frac{40}{100} = 8$ (명)입니다.

해결 전략

원그래프에서 딸기를 좋아하는 여학생 수의 백분율을 구해요.

10 접근 >> 먼저 영어와 체육을 좋아하는 학생 수의 백분율을 각각 구합니다.

영어를 좋아하는 학생은 전체의 $\frac{8}{50} \times 100 = 16$ (%)이므로 체육을 좋아하는 학생은 전체의 $100 - (40 + 34 + 16 + 2) = 8$ (%)입니다. 따라서 16%가 8명이면 8%는 4명이므로 체육을 좋아하는 학생은 4명입니다.

해결 전략

백분율이 반으로 줄어들면 백분율에 해당하는 학생 수도 반으로 줄어요.

11 접근 >> 야구를 좋아하는 학생의 백분율 \square %라 하여 식을 세웁니다.

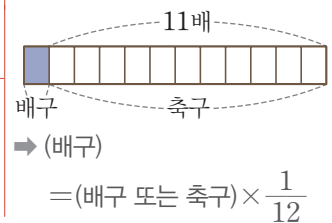
농구를 좋아하는 학생은 전체의 16%이고, 이는 야구를 좋아하는 학생의 $\frac{4}{9}$ 이므로 야구를 좋아하는 학생의 $\frac{1}{9}$ 은 $16 \div 4 = 4$ (%)입니다. 따라서 야구를 좋아하는 학생은 전체의 $4 \times 9 = 36$ (%)입니다.

12 접근 >> 먼저 배구를 좋아하는 학생 수의 백분율을 구합니다.

축구 또는 배구를 좋아하는 학생 수의 백분율의 합이 $100 - (36 + 16) = 48$ (%)이므로 배구를 좋아하는 학생은 전체의 $48 \times \frac{1}{12} = 4$ (%)입니다.

야구와 배구를 좋아하는 학생의 백분율의 차는 $36 - 4 = 32$ (%)이고 이는 160명입니다. 전체의 32%가 160명이므로 전체의 1%는 $160 \div 32 = 5$ (명)입니다. 따라서 전체 학생은 $5 \times 100 = 500$ (명)입니다.

해결 전략



13 접근 >> 전체의 백분율은 100%입니다.

(기타의 백분율) = $100 - (42 + 25 + 15) = 18$ (%)입니다. 감자를 좋아하는 학생이 전체의 25%이고 이는 100명이므로 전체 학생 수는 $100 \times 4 = 400$ (명)입니다. 따라서 기타는 $400 \times \frac{18}{100} = 72$ (명)이고 그중에서 감자를 좋아하는 학생은 $72 \times \frac{50}{100} = 36$ (명)입니다.

해결 전략

(전체의 25%) \times 4
= (전체 100%)

14 접근 >> 먼저 원그래프의 눈금 한 칸은 몇 %를 나타내는지 찾습니다.

원을 20등분하면 눈금 한 칸은 5%를 나타내므로 눈금 8칸은 40%를 나타냅니다. 전체의 40%가 60명이므로 전체의 10%는 $60 \div 4 = 15$ (명)이고, 전체 100%는 $15 \times 10 = 150$ (명)입니다.

35 cm 길이에서 7 cm를 차지하는 백분율은 $\frac{7}{35} \times 100 = 20$ (%)이므로

7 cm는 $150 \times \frac{20}{100} = 30$ (명)을 나타냅니다.

해결 전략

$$\begin{aligned} \text{백분율(\%)} \\ &= \frac{(\text{부분의 길이})}{(\text{전체 길이})} \times 100 \end{aligned}$$

15 접근 >> 지방, 단백질, 무기질이 차지하는 비율을 각각 ㉠%, ㉡%, ㉢%라고 합니다.

기타 영양소는 42 g이므로 비율은 $\frac{42}{280} \times 100 = 15$ (%)입니다.

지방, 단백질, 무기질이 차지하는 비율을 각각 ㉠%, ㉡%, ㉢%라 하면

$$\text{㉠} + \text{㉡} + \text{㉢} = 100 - (30 + 15) = 55 \text{입니다.}$$

$$\text{㉠} + \text{㉡} = 41 \text{에서 } \text{㉢} = 14 \text{ (\%)}, \text{㉡} + \text{㉢} = 29 \text{에서 } \text{㉠} = 26 \text{ (\%)이므로 } \text{㉡} = 15 \text{ (\%)}$$

입니다.

따라서 단백질의 무게는 $280 \times \frac{15}{100} = 42$ (g)입니다.

해결 전략

지방과 단백질의 비율의 합을 이용하여 무기질의 비율을, 단백질과 무기질의 비율의 합을 이용하여 지방의 비율을 구해요.

16 접근 >> 먼저 30~40대인 사람 수를 구합니다.

(30~40대인 사람의 백분율) = $100 - (18 + 32 + 17) = 33$ (%)이므로

30~40대인 사람은 $4000 \times \frac{33}{100} = 1320$ (명)입니다.

$360^\circ - 216^\circ = 144^\circ$, (30~40대인 여자의 백분율) = $\frac{144^\circ}{360^\circ} \times 100 = 40$ (%)이므로

로 30~40대인 여자는 모두 $1320 \times \frac{40}{100} = 528$ (명)입니다.

해결 전략

$$\begin{aligned} \text{원의 중심각은 } 360^\circ \text{예요.} \\ \rightarrow \frac{(\text{항목의 각도})}{360^\circ} \times 100 \\ = (\text{백분율}) (\%) \end{aligned}$$

17 접근 >> 30~40대인 남자의 수를 구합니다.

30~40대인 사람은 $4000 \times 0.33 = 1320$ (명),

30~40대 남자는 $1320 \times 0.6 = 792$ (명)이었습니다.

8명이 이사를 오면 30~40대 남자는 $792 + 8 = 800$ (명)이 되고, 20대 이하 사람 수는 $4000 \times 0.18 = 720$ (명)입니다. 따라서 30~40대 남자 수에 대한 20대 이하 사람 수의 비율은 $720 \div 800 = 0.9$ 입니다.

18 접근 >> 먼저 20대 이하의 사람 수를 구합니다.

20대 이하의 사람은 $4000 \times \frac{18}{100} = 720$ (명)입니다.

불고기를 좋아하는 사람은 $720 \times \frac{70}{100} = 504$ (명),

비빔밥을 좋아하는 사람은 $720 \times \frac{55}{100} = 396$ (명),

불고기와 비빔밥을 모두 좋아하는 사람은 $720 \times \frac{45}{100} = 324$ (명),

불고기 또는 비빔밥을 좋아하는 사람은 $504 + 396 - 324 = 576$ (명)입니다.

따라서 불고기도 비빔밥도 좋아하지 않는 사람은 $720 - 576 = 144$ (명)입니다.

보충 개념

(A 또는 B를 좋아하는 사람 수)

= (A를 좋아하는 사람 수)

+ (B를 좋아하는 사람 수)

- (A와 B를 모두 좋아하는 사람 수)



19 접근 >> 전체의 백분율은 100 %입니다.

㉠ A형이 전체의 25 %이고 띠그래프에서 12 cm를 차지합니다.

$25\% \times 4 = 100\%$ 이므로 띠그래프의 전체 길이는 $12 \times 4 = 48$ (cm)입니다.

채점 기준	배점
25 %를 몇 배 해야 100 %가 되는지 알고 있나요?	2점
띠그래프 전체의 길이를 구했나요?	3점

해결 전략

원그래프에서 25 %를 차지하면 띠그래프로 나타내어도 25 %를 차지하므로 전체 길이의 25 %는 12 cm예요.



20 접근 >> 경작지의 넓이를 구한 뒤 논이 넓이를 구합니다.

㉠ 경작지의 백분율은 30 %이므로 경작지의 넓이는

$800 \times \frac{30}{100} = 240$ (km²)입니다. 논은 경작지 넓이의 65 %이므로 논이 넓이는

$240 \times \frac{65}{100} = 156$ (km²)입니다.

채점 기준	배점
띠그래프를 보고 경작지의 넓이를 구했나요?	2점
원그래프를 보고 논이 넓이를 구했나요?	3점

해결 전략

토지 이용률의 30 %는 경작지의 넓이이고, 경작지의 넓이 중 65 %는 논이 넓이예요.

교내 경시 6단원 직육면체의 부피와 겉넓이

01 96	02 ㉠	03 518 cm ²	04 0.07 m ³	05 6	06 16 cm
07 729 cm ³	08 8배	09 294 cm ²	10 486 cm ²	11 768 cm ³	12 450 cm ³
13 8 cm	14 348 cm ²	15 9.5 cm	16 600 cm ²	17 200 cm ³	18 3 cm
19 540 cm ³	20 176000 cm ³				

01 접근 >> 직육면체의 부피 구하는 공식을 이용하여 □를 구합니다.
 (직육면체의 부피) = □ × 5 = 480이므로 □ = 96 (cm²)입니다.

해결 전략
 (직육면체의 부피)
 = (밑면의 넓이) × (높이)

02 접근 >> ㉠, ㉡, ㉢의 단위 사이 관계를 차례로 알아봅니다.

㉢ 82000 cm³ = 0.082 m³이므로 잘못 나타낸 것은 ㉢입니다.

보충 개념
 1000000 cm³ = 1 m³

03 접근 >> ★ 표시된 면의 가로와 세로를 구한 뒤 입체도형의 겉넓이를 구합니다.

★ 표시된 면의 가로와 세로는 각각 7 cm입니다.
 따라서 전개도를 접어 만든 입체도형의 겉넓이는
 (15 × 7 + 7 × 7 + 15 × 7) × 2 = 518 (cm²)입니다.

보충 개념
 7 × 7 = 49이므로 ★ 표시된
 면의 가로, 세로는 7 cm예요.

04 접근 >> 먼저 하준이의 옷장의 부피를 m³ 단위로 고칩니다.

1000000 cm³ = 1 m³이므로 하준이의 옷장의 부피는 1750000 cm³ = 1.75 m³
 입니다.
 따라서 두 옷장의 부피의 차는 1.82 - 1.75 = 0.07 (m³)입니다.

해결 전략
 두 옷장의 부피의 차를 m³ 단
 위로 구해야 하므로 cm³ 단
 위를 m³ 단위로 바꾸어 계산
 해요.

05 접근 >> 직육면체의 겉넓이 구하는 식을 세운 뒤 □를 구합니다.

(직육면체의 겉넓이) = (7 × 3 + 3 × □ + 7 × □) × 2 = 162이므로
 21 + 10 × □ = 81, 10 × □ = 60, □ = 6입니다.

해결 전략
 전개도로 직육면체를 만들었
 을 때 가로, 세로, 높이를 찾
 아 겉넓이를 구하는 식을 세
 워요.

06 접근 >> ㉡의 부피를 구하여 ㉠의 부피를 구하는 식을 세운 뒤 ㉠의 높이를 구합니다.

(㉡의 부피) = 8 × 8 × 8 = 512 (cm³)이므로
 (㉠의 부피) = 4 × 8 × (㉠의 높이) = 512입니다.
 32 × (㉠의 높이) = 512이므로 ㉠의 높이는 16 cm입니다.

해결 전략
 (직육면체의 부피)
 = (가로) × (세로) × (높이)

07 접근 >> 정육면체의 한 모서리의 길이를 □cm라 하고 겹넓이를 이용하여 식을 세웁니다.

정육면체의 한 모서리의 길이를 □cm라 하면
 $(\square \times \square) \times 6 = 486$, $\square \times \square = 81$, $\square = 9$ (cm)입니다.
 따라서 정육면체의 부피는 $9 \times 9 \times 9 = 729$ (cm³)입니다.

보충 개념

(정육면체의 겹넓이)
 $= (\text{한 모서리의 길이}) \times (\text{한 모서리의 길이}) \times 6$

08 접근 >> 각 모서리의 길이가 2배가 됨을 이용하여 구합니다.

정육면체의 부피는 (한 모서리의 길이) × (한 모서리의 길이) × (한 모서리의 길이)이므로 각 모서리의 길이를 2배로 늘인다면 처음 부피의 $2 \times 2 \times 2 = 8$ (배)가 됩니다.

다른 풀이

(처음 정육면체의 부피) = $3 \times 3 \times 3 = 27$ (cm³)
 (늘인 정육면체의 부피) = $6 \times 6 \times 6 = 216$ (cm³)
 → $216 \div 27 = 8$ (배)

지도 가이드

직육면체의 모든 모서리의 길이를 각각 ■배했을 때의 부피를 구하는 문제입니다. 처음 직육면체의 부피와 늘인 직육면체의 부피를 각각 구하여 부피를 비교하는 것이 일반적이지만, 굳이 직육면체의 부피를 두 번이나 계산하지 않아도 비교할 수 있습니다. 다른 풀이에 제시된 방법으로 정답을 맞췄더라도 가로, 세로, 높이의 곱을 직접 구하지 않고 두 가지 곱셈식을 비교하여 해결하는 방법을 알려주세요. 단순히 부피의 공식에 수를 넣어 계산하는 것에서 나아가 부피의 성질을 직관적으로 이해하는 데 도움이 되는 문제입니다.

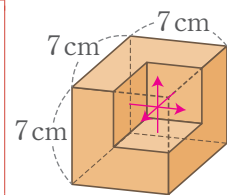
해결 전략

(늘인 정육면체의 부피)
 $= (\text{한 모서리의 길이}) \times 2$
 $\times (\text{한 모서리의 길이}) \times 2$
 $\times (\text{한 모서리의 길이}) \times 2$
 $= (\text{한 모서리의 길이})$
 $\times (\text{한 모서리의 길이})$
 $\times (\text{한 모서리의 길이}) \times 8$
 $= (\text{처음 정육면체의 부피}) \times 8$

09 접근 >> 잘라낸 부분의 면을 이동시켜서 생각해 봅니다.

입체도형의 겹넓이는 한 모서리의 길이가 7cm인 정육면체의 겹넓이와 같습니다. 따라서 입체도형의 겹넓이는 $(7 \times 7) \times 6 = 294$ (cm²)입니다.

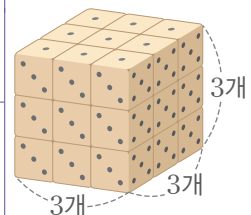
해결 전략



10 접근 >> 한 모서리에 놓은 주사위의 개수를 구한 뒤 한 모서리의 길이를 구합니다.

주사위 27개를 정육면체 모양으로 쌓았으므로 한 모서리에 놓은 주사위의 개수를 □개라 하면 $\square \times \square \times \square = 27$, $\square = 3$ (개)입니다.
 주사위의 한 모서리의 길이가 3cm이므로 쌓은 정육면체의 한 모서리의 길이는 $3 \times 3 = 9$ (cm)입니다.
 따라서 쌓아 만든 정육면체의 겹넓이는 $(9 \times 9) \times 6 = 486$ (cm²)입니다.

보충 개념



주사위 27개를 한 모서리에 3개씩 놓으면 정육면체 모양이 돼요.

11 접근 >> 쌀기나무의 한 모서리의 길이를 구한 뒤, 입체도형의 부피를 구합니다.

쌀기나무 1개의 한 면의 넓이는 $96 \div 6 = 16 \text{ (cm}^2\text{)}$ 이므로 쌀기나무의 한 모서리의 길이는 $4 \times 4 = 16$ 에서 4cm입니다.

따라서 입체도형의 부피는 $(4 \times 4 \times 4) \times 12 = 768 \text{ (cm}^3\text{)}$ 입니다.

해결 전략

한 모서리의 길이가 4cm인 쌀기나무 12개의 부피를 구하면 돼요.

12 접근 >> 잘라내기 전의 직육면체 부피에서 잘라낸 직육면체 2개의 부피를 빼서 구합니다.

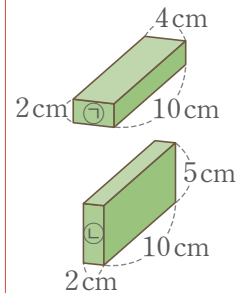
(잘라내기 전 큰 직육면체의 부피)
 $= 9 \times 10 \times 7 = 630 \text{ (cm}^3\text{)}$ 입니다.
 잘라낸 ㉠은 가로가 4cm, 세로가 10cm,
 높이가 $7 - 3 - 2 = 2 \text{ (cm)}$ 인 직육면체이고

잘라낸 ㉡은 가로가 2cm, 세로가 10cm, 높이가 $7 - 2 = 5 \text{ (cm)}$ 인 직육면체입니다.

따라서 입체도형의 부피는 $630 - (4 \times 10 \times 2) - (2 \times 10 \times 5)$
 $= 630 - 80 - 100 = 450 \text{ (cm}^3\text{)}$ 입니다.

해결 전략

잘라낸 직육면체 2개는 다음과 같아요.



13 접근 >> 늘어난 물의 높이를 □cm라 하고 돌의 부피를 이용하여 식을 세웁니다.

돌을 완전히 잠기게 넣었을 때 늘어난 물의 높이를 □cm라 하면 돌의 부피는 가로가 20cm, 세로가 12cm, 높이가 □cm인 직육면체의 부피와 같습니다.

$20 \times 12 \times \square = 720$, $240 \times \square = 720$, $\square = 3 \text{ (cm)}$ 입니다.

따라서 물의 높이는 $5 + 3 = 8 \text{ (cm)}$ 가 됩니다.

해결 전략

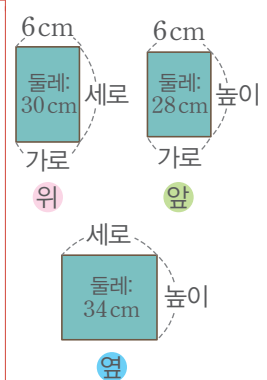
(늘어난 물의 부피)
 $=$ (돌의 부피)

14 접근 >> 직육면체의 가로, 세로, 높이를 구한 뒤, 직육면체의 겉넓이를 구합니다.

(가로) = 6cm, (세로) = $30 \div 2 - 6 = 9 \text{ (cm)}$, (높이) = $28 \div 2 - 6 = 8 \text{ (cm)}$ 입니다.

따라서 직육면체의 겉넓이는 $(6 \times 9 + 6 \times 8 + 9 \times 8) \times 2$
 $= (54 + 48 + 72) \times 2 = 348 \text{ (cm}^2\text{)}$ 입니다.

해결 전략



15 접근 >> 칸막이를 열었을 때 물의 높이를 □cm라 하고 식을 세웁니다.

(전체 물의 부피) = $(14 \times 20 \times 12) + (10 \times 20 \times 6)$
 $= 3360 + 1200 = 4560 \text{ (cm}^3\text{)}$ 입니다.

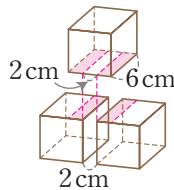
칸막이를 열었을 때 물의 높이를 □cm라 하면
 $(14 + 10) \times 20 \times \square = 4560, 480 \times \square = 4560, \square = 9.5 \text{ (cm)}$ 입니다.
 따라서 칸막이를 열었을 때 물의 높이는 9.5 cm가 됩니다.

해결 전략

칸막이를 열었을 때에도 전체 물의 부피는 변함이 없어요.

16 접근 >> 쌀기나무 3개의 겹넓이의 합에서 겹쳐진 면의 넓이의 합을 빼서 구합니다.

(쌀기나무 1개의 겹넓이) = $(6 \times 6) \times 6 = 216 \text{ (cm}^2\text{)}$ 이고
 (쌀기나무 3개의 겹넓이의 합) = $216 \times 3 = 648 \text{ (cm}^2\text{)}$ 입니다.
 입체도형에서 겹쳐진 면은 오른쪽 그림에서 색칠한 부분입니다.
 (겹쳐진 면의 넓이의 합) = $(6 - 2) \times 6 \times 2$
 $= 4 \times 6 \times 2 = 48 \text{ (cm}^2\text{)}$ 이므로
 입체도형의 겹넓이는 $648 - 48 = 600 \text{ (cm}^2\text{)}$ 입니다.



주의

쌀기나무 3개의 겹넓이의 합을 구하지 않도록 해요.

17 접근 >> 쇠구슬 15개의 부피를 구한 뒤, 쇠구슬 1개의 부피를 구합니다.

(수조의 들이) = $20 \times 15 \times 18 = 5400 \text{ (cm}^3\text{)} \Rightarrow 5.4 \text{ L}$ 이므로
 (쇠구슬 15개의 부피)
 $= (\text{수조의 들이}) - (\text{수조에 들어 있는 물의 양}) + (\text{넘친 물의 양})$
 $= 5.4 \text{ L} - 2.7 \text{ L} + 0.3 \text{ L} = 3 \text{ L} \Rightarrow 3000 \text{ cm}^3$ 입니다.
 따라서 쇠구슬 1개의 부피는 $3000 \div 15 = 200 \text{ (cm}^3\text{)}$ 입니다.

해결 전략

쇠구슬 15개를 넣자 물이 수조 밖으로 넘쳤으므로 쇠구슬 15개의 부피는 수조의 남은 공간의 부피와 넘친 물의 부피의 합이에요.

18 접근 >> 긴 막대를 넣었을 때 물의 높이를 □cm라 하여 식을 세웁니다.

(물의 부피) = $16 \times 20 \times 12 = 3840 \text{ (cm}^3\text{)}$ 입니다.
 물통에 긴 막대를 넣었을 때 물의 높이를 □cm라 하면
 $16 \times 20 \times \square - 8 \times 8 \times \square = 3840, 320 \times \square - 64 \times \square = 3840,$
 $256 \times \square = 3840, \square = 15 \text{ (cm)}$ 입니다.
 따라서 늘어난 물의 높이는 $15 - 12 = 3 \text{ (cm)}$ 입니다.

주의

늘어난 물의 높이는 긴 막대를 넣었을 때의 물의 높이에서 원래 높이를 뺀 것이에요.

19 접근 >> 상자의 높이를 □cm라 하여 식을 세웁니다.

예 (사용한 색 테이프의 길이) = $80 - 18 = 62$ (cm)입니다.
 상자의 높이를 □cm라 하면 $9 \times 2 + 6 \times 4 + \square \times 2 = 62$ 이므로
 $18 + 24 + \square \times 2 = 62$, $42 + \square \times 2 = 62$, $\square \times 2 = 20$, $\square = 10$ (cm)입니다.
 따라서 상자의 부피는 $9 \times 6 \times 10 = 540$ (cm³)입니다.

해결 전략

색 테이프는 상자의 가로를 2번, 세로를 4번, 높이를 2번 지나요.

채점 기준	배점
상자의 높이가 몇 cm인지 구했나요?	3점
상자의 부피가 몇 cm ³ 인지 구했나요?	2점

20 접근 >> 상자의 가로, 세로, 높이를 각각 구해 상자의 부피를 구합니다.

예 종이의 가로는 $1.5 \text{ m} = 150 \text{ cm}$, 세로는 $1.2 \text{ m} = 120 \text{ cm}$ 이므로
 (상자의 가로) = $150 - 20 - 20 = 110$ (cm),
 (상자의 세로) = $120 - 20 - 20 = 80$ (cm), (상자의 높이) = 20 cm입니다.
 따라서 상자의 부피는 $110 \times 80 \times 20 = 176000$ (cm³)입니다.

주의

m 단위를 cm 단위로 바꾸어 계산해야 해요.

채점 기준	배점
상자의 가로, 세로, 높이가 각각 몇 cm인지 구했나요?	3점
상자의 부피가 몇 cm ³ 인지 구했나요?	2점

수능형 사고력을 기르는 1학기 TEST - 1회

01 ㉠	02 십각기둥	03 ③	04 2	05 ㉠	06 9.035 g
07 2070원	08 150명	09 2, 3	10 6.5 cm	11 $1\frac{7}{20}$ kg	12 ㉠
13 7개	14 5	15 $8\frac{2}{5}$ cm	16 $37\frac{1}{8}$ cm ²	17 544 cm ³	18 6800원
19 1692 cm ³	20 30 %				

01 1단원 접근 >> ㉠, ㉡, ㉢, ㉣을 각각 계산하여 몫이 대분수인 것을 찾습니다.

$$\text{㉠ } 1 \div 35 = \frac{1}{35} \qquad \text{㉡ } 8 \div 5 = \frac{8}{5} = 1\frac{3}{5}$$

$$\text{㉢ } 8 \div 21 = 8 \times \frac{1}{21} = \frac{8}{21} \qquad \text{㉣ } 13 \div 15 = \frac{13}{15}$$

따라서 몫이 대분수인 것은 ㉡입니다.

보충 개념

■ ÷ ▲ = $\frac{\blacksquare}{\blacktriangle}$ 에서 ■ > ▲이면 몫이 1보다 크고, ■ < ▲이면 몫이 1보다 작아요.

02 2단원 접근 » 먼저 한 밑면의 변의 수를 찾아 밑면이 어떤 도형인지 구합니다.

(각기둥의 면의 수) = (한 밑면의 변의 수) + 2 = 12이므로 (한 밑면의 변의 수) = 10
입니다.

밑면이 십각형이므로 면의 수가 12개인 각기둥은 십각기둥입니다.

해결 전략

(각기둥의 면의 수)
= (한 밑면의 변의 수) + 2

03 3단원 접근 » 각각 세로셈으로 계산하여 0을 내려서 계산하지 않는 것을 찾습니다.

① $\begin{array}{r} 3.15 \\ 6 \overline{)18.90} \\ \underline{18} \\ 9 \\ \underline{6} \\ 30 \\ \underline{30} \\ 0 \end{array}$	② $\begin{array}{r} 0.35 \\ 8 \overline{)2.80} \\ \underline{24} \\ 40 \\ \underline{40} \\ 0 \end{array}$	③ $\begin{array}{r} 8.3 \\ 5 \overline{)41.5} \\ \underline{40} \\ 15 \\ \underline{15} \\ 0 \end{array}$	④ $\begin{array}{r} 1.37 \\ 20 \overline{)27.40} \\ \underline{20} \\ 74 \\ \underline{60} \\ 140 \\ \underline{140} \\ 0 \end{array}$	⑤ $\begin{array}{r} 18.12 \\ 35 \overline{)634.20} \\ \underline{35} \\ 284 \\ \underline{280} \\ 42 \\ \underline{35} \\ 70 \\ \underline{70} \\ 0 \end{array}$
---	--	---	--	--

따라서 0을 내려서 계산하지 않는 것은 ③입니다.

04 1단원 접근 » $9\frac{1}{15} \div 6$ 의 계산 결과를 찾은 뒤 □ 안에 들어갈 수 있는 자연수를 찾습니다.

$$9\frac{1}{15} \div 6 = \frac{136}{15} \div 6 = \frac{136}{15} \times \frac{1}{6} = \frac{68}{45} = 1\frac{23}{45}$$

입니다.

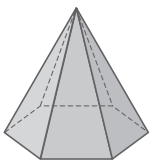
$1\frac{23}{45} < \square$ 이므로 □ 안에 들어갈 수 있는 자연수 중에서 가장 작은 수는 2입니다.

해결 전략

$1\frac{23}{45} < \square$ 에서 □ 안에
1, 2, 3, 4, ... 를 넣어봐요.

05 2단원 접근 » 밑면이 육각형인 각뿔의 면, 모서리, 꼭짓점, 밑면의 수를 각각 구합니다.

㉠ 밑면이 육각형인 각뿔은 육각뿔입니다.



(육각뿔의 면의 수) = 6 + 1 = 7(개)

(육각뿔의 모서리의 수) = 6 × 2 = 12(개)

(육각뿔의 꼭짓점의 수) = 6 + 1 = 7(개)

보충 개념

각뿔은 밑면이 1개예요.

06 3단원 접근 >> 연필 2타는 몇 자루인지 구한 뒤 연필 한 자루의 무게를 구합니다.

연필 한 타는 12자루이므로 연필 2타는 24자루입니다.
따라서 연필 한 자루의 무게는 (연필 2타의 무게) ÷ 24 = 216.84 ÷ 24 = 9.035 (g)입니다.

해결 전략

$$\begin{array}{r} 9.035 \\ 24 \overline{) 216.84} \\ \underline{216} \\ 84 \\ \underline{72} \\ 120 \\ \underline{120} \\ 0 \end{array}$$

07 4단원 접근 >> 과자의 원가에 이익을 더해 정가를 구합니다.

(이익) = $1800 \times \frac{15}{100} = 270$ (원)입니다.
따라서 (정가) = (원가) + (이익) = 1800 + 270 = 2070(원)입니다.

보충 개념

$$15\% = \frac{15}{100}$$

08 5단원 접근 >> 먼저 파란색을 좋아하는 학생의 백분율을 알아봅니다.

(파란색을 좋아하는 학생의 백분율) = $100 - (45 + 20 + 5) = 30$ (%)
파란색을 좋아하는 학생이 45명이고 이는 전체의 30%이므로
전체의 10%는 $45 \div 3 = 15$ (명)입니다.
전체의 10%가 15명이므로 6학년 학생은 모두 $15 \times 10 = 150$ (명)입니다.

해결 전략

$$\begin{aligned} & (\text{전체의 } 30\%) \div 3 \\ & \quad = (\text{전체의 } 10\%) \\ & (\text{전체의 } 10\%) \times 10 \\ & \quad = (\text{전체 } 100\%) \end{aligned}$$

09 1단원 + 3단원 접근 >> 두 식을 각각 계산하여 두 계산 결과 사이에 있는 자연수를 모두 구합니다.

$$3 \frac{8}{25} \div 6 \times 3 = \frac{83}{25} \times \frac{1}{6} \times \frac{1}{3} = \frac{83}{50} = 1 \frac{33}{50} \text{ 이고,}$$

$$4.9 \div 7 \times 5 = 0.7 \times 5 = 3.5$$

따라서 두 식의 계산 결과 사이에 있는 자연수는 2, 3입니다.

보충 개념

$1 \frac{33}{50}$ 보다 크고 3.5보다 작은 자연수를 구해요.

10 3단원 + 6단원 접근 >> 직육면체의 높이를 □ cm라 하고 식을 세웁니다.

직육면체의 높이를 □ cm라 하면

$$(\text{직육면체의 겉넓이}) = (8 \times 5 + 5 \times \square + 8 \times \square) \times 2 = 249,$$

$$40 + 13 \times \square = 124.5, 13 \times \square = 84.5, \square = 84.5 \div 13 = 6.5 \text{ (cm)입니다.}$$

따라서 직육면체의 높이는 6.5 cm입니다.

해결 전략

(직육면체의 겉넓이)
= (직육면체의 여섯 면의 넓이의 합)

11 1단원 접근 >> 소금 6봉지의 양을 구한 뒤, 한 사람이 가지는 소금의 양을 구합니다.

$$(\text{소금 6봉지의 양}) = 2\frac{1}{4} \times 6 = \frac{9}{4} \times \frac{3}{6} = \frac{27}{2} = 13\frac{1}{2} \text{ (kg)}$$

따라서 한 사람이 가지는 소금의 양은

$$13\frac{1}{2} \div 10 = \frac{27}{2} \times \frac{1}{10} = \frac{27}{20} = 1\frac{7}{20} \text{ (kg)입니다.}$$

다른 풀이

$$(\text{한 사람이 가지는 소금의 양}) = 2\frac{1}{4} \times 6 \div 10 = \frac{9}{4} \times \frac{3}{6} \times \frac{1}{10} = \frac{27}{20} = 1\frac{7}{20} \text{ (kg)}$$

해결 전략

(한 사람이 가지는 소금의 양)
= (한 봉지의 양) × (봉지 수)
÷ (사람 수)

12 5단원 접근 >> 12 cm로 나타내는 항목의 백분율을 구합니다.

전체 길이가 40 cm인 띠그래프에서 12 cm를 차지하는 항목은 전체의

$$\frac{12}{40} \times 100 = 30 \text{ (%)입니다.}$$

주어진 원그래프에서 한 칸은 5%를 나타내므로 30%를 나타내는 항목을 찾으면 6칸을 차지하는 ㉠입니다.

해결 전략

주어진 원그래프는 20칸으로 나누어져 있으므로 한 칸은 $100 \div 20 = 5 \text{ (%)}$ 를 나타냅니다.

13 4단원 접근 >> 뽑은 고무공이 빨간색일 가능성을 이용하여 빨간색 고무공의 수를 구합니다.

빨간색 고무공을 뽑을 가능성은

$$\frac{(\text{빨간색 고무공 수})}{(\text{전체 고무공 수})} = \frac{(\text{빨간색 고무공 수})}{25} = \frac{28}{100} \text{ 이므로}$$

$$(\text{빨간색 고무공 수}) \times 4 = 28, (\text{빨간색 고무공 수}) = 7 \text{ (개)입니다.}$$

보충 개념

$$28\% = \frac{28}{100}$$

14 3단원 접근 >> 먼저 $6 \div 11$ 을 계산하여 소수점 아래 반복되는 수를 찾습니다.

$6 \div 11 = 0.545454 \dots$ 로 소수점 아래에 숫자 5, 4가 반복됩니다.

소수점 아래 홀수 번째 자리 숫자는 5이고 짝수 번째 자리 숫자는 4이므로 소수 51째 자리 수는 5입니다.

보충 개념

몫이 나누어 떨어지지 않는 경우에는 몫을 분수로 나타내는 것이 정확해요.

15 1단원 + 2단원 접근 >> 각기둥의 모든 모서리의 길이의 합을 구하는 식을 세워 봅니다.

(각기둥의 모든 모서리의 길이의 합)

= (한 밑면의 둘레) × 2 + (높이) × (한 밑면의 변의 수) 이므로

$$(\text{한 밑면의 둘레}) \times 2 + 13 \times 6 = 178\frac{4}{5} \text{ 입니다.}$$

해결 전략

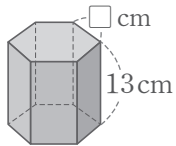
먼저 한 밑면의 둘레를 구한 다음, 밑면의 한 변의 길이를 구해요.

$$\begin{aligned} (\text{한 밑면의 둘레}) &= (178\frac{4}{5} - 78) \div 2 = 100\frac{4}{5} \div 2 = \frac{504 \div 2}{5} = \frac{252}{5} \\ &= 50\frac{2}{5} \text{ (cm)} \end{aligned}$$

이므로 정육각형 모양 밑면의 둘레가 $50\frac{2}{5}$ cm입니다.

따라서 밑면의 한 변의 길이는 $50\frac{2}{5} \div 6 = \frac{252 \div 6}{5} = \frac{42}{5} = 8\frac{2}{5}$ (cm)입니다.

다른 풀이



$$\square \times 12 + 13 \times 6 = 178\frac{4}{5}, \square = (178\frac{4}{5} - 78) \div 12,$$

$$\square = 100\frac{4}{5} \div 12 = \frac{504 \div 12}{5} = \frac{42}{5} = 8\frac{2}{5} \text{ (cm)}$$

16 1단원 + 4단원 접근 >> 색칠한 삼각형의 밑변과 높이를 알아봅시다.

색칠한 부분은 밑변이 $(12\frac{3}{8} \div 3)$ cm, 높이가 18 cm인 삼각형입니다.

따라서 색칠한 부분의 넓이는 (밑변) \times (높이) $\div 2 = (12\frac{3}{8} \div 3) \times 18 \div 2$

$$= \frac{99}{8} \times \frac{1}{3} \times \frac{9}{1} \times \frac{1}{2} = \frac{297}{8} = 37\frac{1}{8} \text{ (cm}^2\text{)} \text{입니다.}$$

해결 전략

색칠한 부분의 밑변은 선분 --- 을 3으로 나눈 것 중의 하나이므로 $(12\frac{3}{8} \div 3)$ cm로 나타내요.

17 6단원 접근 >> 수조에서 흘러 넘치는 물의 부피는 수조에 잠기는 나무 토막의 부피와 같습니다.

수조에서 흘러 넘치는 물의 부피는 수조에 잠기는 나무 토막의 부피와 같으므로

(수조에 잠기는 나무 토막의 부피) = $2 \times 16 \times 17 = 544 \text{ (cm}^3\text{)}$ 입니다.

따라서 물이 544 cm^3 흘러 넘칩니다.

주의

수조에 잠기는 나무토막의 높이는 20 cm가 아니라 17 cm예요.

18 4단원 + 5단원 접근 >> 먼저 소설책과 위인전이 차지하는 백분율을 각각 구합니다.

(소설책이 차지하는 백분율) = $\frac{3}{20} \times 100 = 15 \text{ (\%)}$,

(위인전이 차지하는 백분율) = $15 \times 1.4 = 21 \text{ (\%)}$,

(만화책과 동화책이 차지하는 백분율) = $100 - (15 + 21 + 9) = 55 \text{ (\%)}$ 입니다. 만

화책이 차지하는 백분율을 $(2 \times \square)\%$, 동화책이 차지하는 백분율을 $(3 \times \square)\%$ 라 하면 $(2 \times \square) + (3 \times \square) = 55$, $5 \times \square = 55$, $\square = 11$ 에서 동화책이 차지하는 백분율은 $3 \times 11 = 33 \text{ (\%)}$ 입니다.

동화책이 2244권이고 이는 전체의 33%이므로 전체의 1%는

해결 전략

만화책 수와 동화책 수의 비가 2 : 3이므로 만화책의 백분율은 $(2 \times \square)\%$, 동화책의 백분율은 $(3 \times \square)\%$ 로 나타내요.

$2244 \div 33 = 68$ (권)입니다.

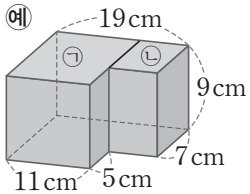
전체의 1%가 68권이므로 전체 책의 수는 $68 \times 100 = 6800$ (권)입니다.

보충 개념

$$\begin{aligned} & (\text{전체의 } 33\%) \div 33 \\ & = (\text{전체의 } 1\%) \end{aligned}$$

서술형 **19** 6단원

접근 >> 입체도형을 두 부분으로 나누어 각각 부피를 구한 뒤, 더합니다.



주어진 입체도형을 ㉠ 부분과 ㉡ 부분으로 나누어 구합니다.

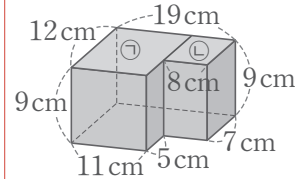
(㉠의 부피) = $11 \times 12 \times 9 = 1188$ (cm³),

(㉡의 부피) = $8 \times 7 \times 9 = 504$ (cm³)입니다.

따라서 입체도형의 부피는

$1188 + 504 = 1692$ (cm³)입니다.

해결 전략



㉠ 부분의 가로는 11 cm, 세로는 12 cm, 높이는 9 cm이고 ㉡ 부분의 가로는 8 cm, 세로는 7 cm, 높이는 9 cm 예요.

채점 기준	배점
㉠의 부피를 구했나요?	2점
㉡의 부피를 구했나요?	2점
입체도형의 부피를 구했나요?	1점

서술형 **20** 4단원

접근 >> 먼저 진하기가 20%인 소금물에 녹아 있는 소금의 양을 구합니다.

진하기가 20%인 소금물 350g에 녹아 있는 소금의 양은 $350 \times \frac{20}{100} = 70$ (g)입니다.

소금을 50g 더 넣었으므로 새로 만든 소금물의 양은 $350 + 50 = 400$ (g)이 되고, 소금의 양은 $70 + 50 = 120$ (g)이 됩니다.

따라서 새로 만든 소금물의 진하기는 $\frac{120}{400} = \frac{3}{10} \rightarrow \frac{3}{10} \times 100 = 30$ (%)가 됩니다.

해결 전략

$$\begin{aligned} (\text{진하기}) &= \frac{(\text{소금 양})}{(\text{소금물 양})} \\ (\text{소금 양}) &= (\text{소금물 양}) \\ &\quad \times (\text{진하기}) \end{aligned}$$

채점 기준	배점
진하기가 20%인 소금물에 든 소금의 양을 구했나요?	2점
새로 만든 소금물의 양과 소금의 양을 구했나요?	1점
새로 만든 소금물의 진하기를 구했나요?	2점

수능형 사고력을 기르는 1학기 TEST - 2회

- | | | | | |
|--|-----------------------|------------------------|---------|-------------|
| 01 (위에서부터) $\frac{2}{7}, \frac{8}{75}$ | 02 18 cm ³ | 03 ㉠ | 04 4개 | 05 ㉠ |
| 06 $\frac{4}{5}$ m | 07 250만 원 | 08 726 cm ² | 09 0.3배 | 10 4칸 |
| 12 $\frac{4}{5}$ | 13 34 cm | 14 15 cm | 15 5일 | 16 3750원 |
| 18 $1\frac{1}{4}$ km | 19 14.06 cm | 20 400명 | | 17 4939200원 |

01 1단원 접근 >> (분수) ÷ (자연수)의 계산을 하여 빈칸에 알맞은 분수를 구합니다.

$$\frac{4}{7} \div 2 = \frac{4 \div 2}{7} = \frac{2}{7}, \quad \frac{16}{25} \div 6 = \frac{16}{25} \times \frac{1}{6} = \frac{8}{75}$$

해결 전략
 (분수) ÷ (자연수)
 = (분수) × $\frac{1}{\text{(자연수)}}$

02 6단원 접근 >> 입체도형을 이루는 쌓기나무의 개수를 세어 봅니다.

쌓기나무가 1층에는 $3 \times 3 = 9$ (개), 2층에는 $2 \times 3 = 6$ (개), 3층에는 3개이므로 모두 $9 + 6 + 3 = 18$ (개)를 사용하였습니다.
 한 개의 부피가 1 cm^3 이므로 주어진 입체도형의 부피는 18 cm^3 입니다.

해결 전략
 (입체도형의 부피)
 = (쌓기나무의 개수) × (쌓기나무 한 개의 부피)

03 2단원 접근 >> ㉠과 ㉡의 각기둥의 이름을 각각 찾은 뒤, 면의 수를 각각 구합니다.

- ㉠ 모서리가 18개인 각기둥은
 (각기둥의 모서리의 수) = (한 밑면의 변의 수) × 3 = 18,
 (한 밑면의 변의 수) = 6(개)이므로 육각기둥이고 면의 수는 $6 + 2 = 8$ (개)입니다.
- ㉡ 꼭짓점이 16개인 각기둥은
 (각기둥의 꼭짓점의 수) = (한 밑면의 변의 수) × 2 = 16,
 (한 밑면의 변의 수) = 8(개)이므로 팔각기둥이고 면의 수는 $8 + 2 = 10$ (개)입니다.

해결 전략
 (□각기둥의 면의 수)
 = (□ + 2)개
 (□각기둥의 꼭짓점의 수)
 = (□ × 2)개
 (□각기둥의 모서리의 수)
 = (□ × 3)개

04 3단원 접근 >> 먼저 $95.2 \div 16$ 을 계산합니다.

$95.2 \div 16 = 5.95$ 이므로 $5.95 < 5.9\Box$ 에서 □ 안에 들어갈 수 있는 자연수는 6, 7, 8, 9로 모두 4개입니다.

보충 개념
 $5.95 < 5.9\Box$ 에서 5.9는 같으므로 $5 < \Box$ 인 □를 찾아요.

05 4단원 접근 >> 비율을 모두 소수로 나타내면 크기를 비교할 수 있습니다.

- ㉠ $\frac{17}{40} = \frac{425}{1000} = 0.425$ ㉡ 0.53 ㉢ 63% → 0.63 ㉣ 0.605
- 따라서 비율이 가장 작은 것은 ㉠입니다.

해결 전략
 ㉡, ㉣이 소수의 형태이므로
 ㉠, ㉢을 소수로 나타내어 크기를 비교해요.

다른 풀이

모두 백분율로 나타내어 크기를 비교합니다.

- ㉠ $\frac{17}{40} = \frac{425}{1000} \rightarrow \frac{425}{1000} \times 100 = 42.5(\%)$
 ㉡ $0.53 \times 100 = 53(\%)$ ㉢ 63% ㉣ $0.605 \times 100 = 60.5(\%)$
 따라서 비율이 가장 작은 것은 ㉠입니다.

06 1단원 접근 >> 연못의 둘레를 나무의 수로 나눕니다.

$$\begin{aligned} \text{(나무 사이의 간격)} &= \text{(연못의 둘레)} \div \text{(나무 수)} \\ &= 6\frac{2}{5} \div 8 = \frac{32}{5} \div 8 = \frac{32 \div 8}{5} = \frac{4}{5} \text{ (m)} \end{aligned}$$

주의

원 모양 연못의 둘레이므로 (나무 수) - 1이 아닌 (나무 수)로 나누어 나무 사이의 간격을 구해야 해요.

07 5단원 접근 >> 저축이 한 달 생활비의 몇 %인지 알아봅니다.

원그래프에서 저축의 백분율이 20%이고 전체의 20%가 50만원입니다. 따라서 효진이네 한 달 생활비는 $50 \times 5 = 250$ 만 원입니다.

보충 개념

원그래프의 눈금 한 칸이 5%를 나타내므로 저축의 백분율은 $5 \times 4 = 20$ (%)예요.

08 2단원 + 6단원 접근 >> 한 모서리의 길이를 구한 뒤, 정육면체의 겉넓이를 구합니다.

정육면체의 모서리의 수는 12개이므로 (한 모서리의 길이) = $132 \div 12 = 11$ (cm)입니다. 따라서 정육면체의 겉넓이는 $(11 \times 11) \times 6 = 726$ (cm²)입니다.

해결 전략

(정육면체의 겉넓이)
= (한 면의 넓이) × 6

09 1단원 + 3단원 접근 >> ㉠은 ㉡을 각각 계산한 뒤, ㉠의 계산 결과를 ㉡의 계산 결과로 나눕니다.

$$\begin{aligned} \text{㉠ } 10.8 \div 9 \div 2 &= 1.2 \div 2 = 0.6 \text{ 이고,} \\ \text{㉡ } 1\frac{3}{5} \times 20 \div 16 &= \frac{8}{5} \times \frac{4}{1} \times \frac{1}{2} = 2 \text{ 입니다.} \end{aligned}$$

따라서 ㉠은 ㉡의 $0.6 \div 2 = 0.3$ (배)입니다.

보충 개념

㉠은 ㉡의 (㉠ ÷ ㉡)배예요.

10 5단원 접근 >> 먼저 6 cm를 차지하는 항목의 백분율을 구합니다.

전체의 길이가 30 cm인 띠그래프에서 6 cm를 차지하는 항목은 전체의 $\frac{6}{30} \times 100 = 20$ (%)입니다.

전체가 20칸으로 나누어진 원그래프에서 한 칸은 $100 \div 20 = 5$ (%)를 나타내므로 20%를 차지하는 항목은 4칸으로 나타냅니다.

해결 전략

백분율(%)
= $\frac{\text{(항목의 길이)}}{\text{(전체 길이)}} \times 100$

11 3단원 접근 >> 먼저 1분 동안 타는 양초의 길이를 구합니다.

(1분 동안 타는 양초의 길이) = $2.4 \div 5 = 0.48$ (cm)이므로
 (14분 동안 타는 양초의 길이) = $0.48 \times 14 = 6.72$ (cm)입니다.
 따라서 타고 남은 양초의 길이는 $21 - 6.72 = 14.28$ (cm)입니다.

해결 전략

(타고 남은 양초의 길이)
 = (처음 양초의 길이)
 - (14분 동안 탄 양초의 길이)

12 4단원 접근 >> 전체의 백분율은 100%입니다.

전체 가능성은 100%이므로 고른 티셔츠가 S 사이즈가 아닐 가능성은
 $100 - 20 = 80$ (%)입니다.

따라서 기약분수로 나타내면 $80\% \rightarrow \frac{80}{100} = \frac{4}{5}$ 입니다.

해결 전략

~일 가능성: ■ %
 ~가아닐 가능성:
 (100 - ■)%

주의

기약분수로 나타내야 해요.

13 2단원 접근 >> 면 ㉗, 면 ㉘의 넓이를 이용하여 선분 사츠, 선분 사오의 길이를 각각 구합니다.

(면 ㉗의 넓이) = (선분 바사) × (선분 사츠) = $8 \times$ (선분 사츠) = 96,
 (선분 사츠) = 12 cm이고
 (면 ㉘의 넓이) = (선분 사오) × (선분 사츠) = (선분 사오) × 12 = 108,
 (선분 사오) = 9 cm입니다.
 (선분 나디) = (선분 바사) = 8 cm, (선분 디바) = (선분 사오) = 9 cm이므로
 (선분 나오) = $(8 + 9) \times 2 = 34$ (cm)입니다.

보충 개념

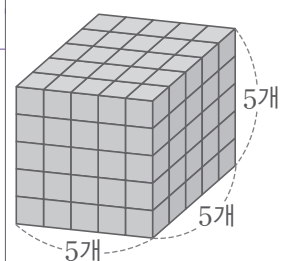
(선분 나디) = (선분 바사)
 = (선분 디리) = (선분 바모)
 = 8 cm

14 6단원 접근 >> 먼저 한 모서리에 놓은 주사위의 개수를 구합니다.

주사위 125개를 정육면체 모양으로 쌓았으므로 한 모서리에 놓은 주사위의 개수를
 □개라고 하면 $\square \times \square \times \square = 125$, $\square = 5$ 입니다.

주사위의 한 모서리의 길이가 3 cm이므로 쌓은 정육면체의 한 모서리의 길이는
 $3 \times 5 = 15$ (cm)입니다.

보충 개념



한 모서리에 길이가 3 cm인 정육면체가 5개씩 있어요.

15 1단원 접근 >> 먼저 형과 동생이 하루 동안 하는 일의 양을 각각 구합니다.

전체 일의 양을 1이라고 하면 형이 하루 동안 하는 일의 양은

$$\frac{1}{2} \div 4 = \frac{1}{2} \times \frac{1}{4} = \frac{1}{8} \text{이고, 동생이 하루 동안 하는 일의 양은}$$

$$\frac{3}{4} \div 10 = \frac{3}{4} \times \frac{1}{10} = \frac{3}{40} \text{입니다. 두 사람이 함께 하루 동안 하는 일의 양은}$$

$$\frac{1}{8} + \frac{3}{40} = \frac{5}{40} + \frac{3}{40} = \frac{8}{40} = \frac{1}{5} \text{이므로 } \frac{1}{5} \times 5 = 1 \text{에서 두 사람이 함께 일을 하}$$

면 일을 모두 마치는 데 5일이 걸립니다.

해결 전략

두 사람이 함께 하루 동안 하는 일의 양은 $\frac{1}{5}$ 이므로 $\frac{1}{5} \times \square = 1$ 을 만드는 \square 를 구해요.

16 4단원 접근 >> 1년 동안 이자가 얼마나 붙는지 알아봅니다.

이자율 2.5% → 0.025입니다.

$$(1년 후 찾은 돈) = 42000 + 42000 \times 0.025 = 42000 + 1050 = 43050(\text{원}) \text{이}$$

$$\text{고 (인형을 사고 남은 돈)} = 43050 - 35550 = 7500(\text{원}) \text{입니다.}$$

$$\text{따라서 승희는 } 7500 \div 2 = 3750(\text{원}) \text{을 갖게 됩니다.}$$

해결 전략

(1년 후 찾은 돈)
= (예금한 돈) + (1년 동안의 이자)

17 6단원 접근 >> 먼저 물탱크의 가로, 세로, 높이에서 두께만큼 빼 길이를 구합니다.

$$\text{물탱크의 가로, 세로, 높이에서 두께만큼 빼면 각각 } 288 - 4 \times 2 = 280(\text{cm}),$$

$$358 - 4 \times 2 = 350(\text{cm}), 144 - 4 = 140(\text{cm}) \text{이므로}$$

$$\text{물탱크의 들이는 } 280 \times 350 \times 140 = 13720000(\text{cm}^3) \rightarrow 13720 \text{ L입니다.}$$

$$\text{따라서 필요한 금액은 } 360 \times 13720 = 4939200(\text{원}) \text{입니다.}$$

주의

가로, 세로에는 물탱크의 두께가 2번 포함되므로 두께의 2배만큼 빼야 해요.

18 1단원 + 4단원 접근 >> 지민이가 가는 데 걸리는 시간이 오빠가 가는 데 걸리는 시간보다 10분 더 길다.

$$(\text{속력}) = \frac{(\text{간 거리})}{(\text{걸린 시간})} \rightarrow (\text{걸린 시간}) = \frac{(\text{간 거리})}{(\text{속력})} \text{이므로}$$

집에서 마트까지의 거리를 \square km라고 하면

$$(\text{지민이가 뛰어서 가는 데 걸리는 시간}) = \frac{\square}{3},$$

$$(\text{오빠가 뛰어서 가는 데 걸리는 시간}) = \frac{\square}{5} \text{입니다.}$$

$$10\text{분} = \frac{10}{60} \text{시간} = \frac{1}{6} \text{시간이므로}$$

$$(\text{지민이가 뛰어서 가는 데 걸리는 시간}) - (\text{오빠가 뛰어서 가는 데 걸리는 시간}) = \frac{1}{6},$$

$$\frac{\square}{3} - \frac{\square}{5} = \frac{1}{6}, \quad \frac{10 \times \square}{30} - \frac{6 \times \square}{30} = \frac{5}{30},$$

해결 전략

(지민이가 가는 데 걸린 시간)
- (오빠가 가는 데 걸린 시간)
= 10분

보충 개념

1시간은 60분이므로
■분 = $\frac{\square}{60}$ 시간이에요.

$$10 \times \square - 6 \times \square = 5, 4 \times \square = 5, \square = 5 \div 4 = \frac{5}{4} = 1\frac{1}{4} \text{ (km)입니다.}$$

따라서 집에서 마트까지의 거리는 $1\frac{1}{4}$ km 입니다.



19

3단원

접근 >> 색 테이프 17장의 길이의 합을 구한 뒤, 색 테이프 한 장의 길이를 구합니다.

예 (겹쳐진 부분의 길이의 합) = $3.4 \times 16 = 54.4$ (cm)이므로

(색 테이프 17장의 길이의 합) = $184.62 + 54.4 = 239.02$ (cm)입니다.

따라서 색 테이프 한 장의 길이는 $239.02 \div 17 = 14.06$ (cm)입니다.

채점 기준	배점
겹쳐진 부분의 길이의 합을 구했나요?	1점
색 테이프 17장의 길이의 합을 구했나요?	2점
색 테이프 한 장의 길이를 구했나요?	2점

해결 전략

겹쳐진 부분 없이 색 테이프 17장을 이어 붙인 길이를 구한 뒤, 이 길이를 17로 나누어 색 테이프 한 장의 길이를 구해요.



20

4단원 + 5단원

접근 >> 가을과 겨울의 백분율의 차를 알아봅니다.

예 겨울에 태어난 학생의 백분율은 $40 \times \frac{2}{5} = 16$ (%)입니다.

가을에 태어난 학생은 겨울에 태어난 학생보다 32명 많고, 이는 전체의 $24 - 16 = 8$ (%)이므로 전체의 1%는 $32 \div 8 = 4$ (명)입니다.

따라서 소정이네 학교 학생은 모두 $4 \times 100 = 400$ (명)입니다.

채점 기준	배점
겨울에 태어난 학생의 백분율을 구했나요?	1점
가을과 겨울에 태어난 학생 수의 차의 백분율을 구했나요?	2점
소정이네 학교 학생 수를 구했나요?	2점

해결 전략

(전체의 8%) ÷ 8
 = (전체의 1%)
 (전체의 1%) × 100
 = (전체 100%)

